

1. Рассмотрите рисунок и ответьте на вопрос: сколько рублей сдачи получит покупатель, расплатившийся за пакет молока и батон хлеба купюрой в 100 рублей?



Запиши решение и ответ.

2. У Лёни есть 450 рублей, и ему нужно купить три пакета молока и пачку масла. Лёня решил на все оставшиеся деньги купить шоколадки. Сколько шоколадок он сможет купить?



Запиши решение и ответ.

3. У Саши есть 300 рублей, и ему нужно купить шесть стаканчиков йогурта и две булки хлеба. Саша решил на все оставшиеся деньги купить бублики. Сколько сдачи он получит в итоге?



Запиши решение и ответ.

4. У Тани есть 1500 рублей, и ей нужно купить 2 кг капусты, 1 кг перца, 1 кг моркови и 2 килограмма помидоров. Какое наибольшее число лукошек клубники может купить Таня на оставшиеся деньги?

<p>ЯБЛОКИ</p>  <p>85 руб.</p>	<p>КЛУБНИКА</p>  <p>150 руб.</p>	<p>ПЕРЕЦ</p>  <p>150 руб.</p>
<p>МОРКОВЬ</p>  <p>35 руб.</p>	<p>ПОМИДОРЫ</p>  <p>120 руб.</p>	<p>КАПУСТА</p>  <p>50 руб.</p>

Запиши решение и ответ.

5. У Пети есть 1075 рублей, и ему нужно купить 1 кг моркови, 2 кг перца, 1 кг яблок и 2 кг помидоров. Какое наибольшее количество бананов сможет купить Петя на оставшиеся деньги, если пять бананов весят 1 килограмм?

<p>ЯБЛОКИ</p>  <p>90 руб.</p>	<p>БАНАНЫ</p>  <p>100 руб.</p>	<p>ПЕРЕЦ</p>  <p>160 руб.</p>
<p>МОРКОВЬ</p>  <p>45 руб.</p>	<p>ПОМИДОРЫ</p>  <p>110 руб.</p>	<p>КАПУСТА</p>  <p>35 руб.</p>

Запиши решение и ответ.

6. У Марины есть список продуктов, которые ей нужно купить:

- Масло — 1 пачка
- Сахар — 3 пачки
- Яблоки — 2 кг
- Хлеб белый — 1 батон

Сколько сдачи она получит с 500 рублей, если пачка масла стоит 80 рублей, килограмм яблок — 70 рублей, батон хлеба — 23 рубля, а пачка сахара — 23 рубля?

Запиши решение и ответ.

7. У Кати есть список школьных принадлежностей, которые ей нужно купить:

Ручка синяя — 5 штук
Линейка — 1 штука
Тетрадь — 6 штук
Карандаш — 3 штуки

Сколько сдачи она получит с 500 рублей, если линейка стоит 35 рублей, карандаш — 12 рублей, тетрадь — 18 рублей, а синяя ручка — 21 рубль?

Запиши решение и ответ.

8. Определи стоимость приготовления 1 кг салата «Греческий», если для этого требуется:

Помидоры — 4 штуки
Огурец — 3 штуки
Перец — 2 штуки
Маслины — 1 банка
Сыр — 1 упаковка
Листья салата — 1 упаковка

Помидоры стоят 11 рублей за штуку, банка маслин стоит 52 рубля, огурцы — 8 рублей за штуку, упаковка сыра стоит 89 рублей, перец — 24 рубля за штуку, упаковка листьев салата стоит 35 рублей.

Запиши решение и ответ.

9. Определи стоимость приготовления большой салатницы с салатом «Оливье», если для этого требуется:

Картофель — 1 килограмм
Зелёный горошек — 4 банки
Яйцо — 20 штук
Маринованные огурцы — 4 банка
Майонез — 4 пакета
Филе курицы — 2 килограмма

Яйца стоят 70 рублей за 10 штук, 1 кг картофеля — 60 рублей, пакет майонеза — 62 рубля, банка зелёного горошка — 57 рублей, банка маринованных огурцов — 87 рублей, 1 кг филе курицы — 140 рублей.

Запиши решение и ответ.

10. Настя пришла в школьную столовую пообедать, у неё с собой есть 90 рублей. В столовой висит меню:

Первые блюда	Свекольник	25 рублей
	Суп куриный	32 рубля
Вторые блюда	Котлета куриная с макаронами	55 рублей
	Овощное рагу	40 рублей
	Плов	58 рублей
Напитки	Компот	12 рублей
	Морс	15 рублей

Выбери обед из трёх блюд (первое, второе и напиток), который может купить Настя. В ответе укажи названия блюд и стоимость обеда. Достаточно указать один возможный вариант обеда.

Запиши решение и ответ.

11. Галя пришла в школьную столовую пообедать, у неё с собой есть 75 рублей. В столовой висит меню:

Первые блюда	Борщ	31 рубль
	Рассольник	28 рублей
Вторые блюда	Голубцы	42 рубля
	Макароны с сыром	30 рублей
	Котлета рыбная с рисом	34 рубля
Напитки	Чай	8 рублей
	Какао	12 рублей

Выбери обед из трёх блюд (первое, второе и напиток), который может купить Галя. В ответе укажи названия блюд и стоимость обеда. Достаточно указать один возможный вариант обеда.

Запиши решение и ответ.

12. Лёша пришёл в школьную столовую пообедать, у него с собой есть 75 рублей. В столовой висит меню:

Первые блюда	Щи	27 рублей
	Рисовый суп	30 рублей
Вторые блюда	Тефтели с картофельным пюре	45 рублей
	Жаркое по-домашнему	48 рублей
	Печень тушёная с овощами	35 рублей
Напитки	Чай	6 рублей
	Компот	8 рублей

Выбери обед из трёх блюд (первое, второе и напиток), который может купить Лёша. В ответе укажи названия блюд и стоимость обеда. Достаточно указать один возможный вариант обеда.

Запиши решение и ответ.

13. Ниже приведены цены на некоторые спорттовары в двух спортивных магазинах.

1-й магазин	2-й магазин
Домино — 150 руб.	Домино — 140 руб.
Нарды — 250 руб.	Нарды — 290 руб.
Шахматные часы — 950 руб.	Шахматные часы — 900 руб.
Эспандер — 100 руб.	Эспандер — 120 руб.
Очки для плавания — 560 руб.	Очки для плавания — 620 руб.
Секундомер — 890 руб.	Секундомер — 940 руб.

В каком магазине дешевле будет стоить такая покупка: два секундомера, нарды и шахматные часы? Какова стоимость более дешёвой покупки?

Запиши решение и ответ.

14. Ниже приведены цены на некоторые товары в двух магазинах товаров для дома.

1-й магазин	2-й магазин
Салфетка— 50 руб.	Салфетка — 40 руб.
Стакан — 120 руб.	Стакан — 150 руб.
Хлебница — 210 руб.	Хлебница — 260 руб.
Скатерть — 400 руб.	Скатерть — 370 руб.
Полотенце — 190 руб.	Полотенце — 240 руб.
Противень — 850 руб.	Противень — 740 руб.

В каком магазине дешевле будет стоить такая покупка: скатерть, шесть салфеток и три полотенца? Какова стоимость более дешёвой покупки?

Запиши решение и ответ.

15. Из Егорьевска в Коломну можно проехать двумя способами. Рассмотрим рисунок и ответь на вопрос: на сколько километров один путь короче другого?



Запиши решение и ответ.

16. Из Реутова в Черноголовку можно проехать двумя способами. Рассмотрим рисунок и ответь на вопрос: на сколько километров Один путь короче другого?



Запиши решение и ответ.

17. На афише представлено расписание сеансов кинотеатра на сегодня. После каждого сеанса в зале проводится уборка. Уборку нужно закончить за 10 минут до начала следующего сеанса. Известно, что мультфильм «Три поросёнка» состоит из двух частей, которые показывают без перерыва, а каждая часть длится 25 минут. Рассмотрите расписание и ответьте на вопрос: сколько времени будет у сотрудников на уборку зала после показа мультфильма «Три поросёнка»?

	Три толстяка 09 : 45 ☆☆☆☆☆
	Три поросёнка 11 : 00 ☆☆☆☆☆
	Три медведя 12 : 10 ☆☆☆☆☆
	Три мушкетёра 14 : 50 ☆☆☆☆☆
	101 далматинец 17 : 20 ☆☆☆☆☆

Запиши решение и ответ.

18. На афише представлено расписание сеансов кинотеатра на сегодня. После каждого сеанса в зале проводится уборка. Уборку нужно закончить за 10 минут до начала следующего сеанса. Известно, что мультфильм «Три медведя» состоит из двух частей, которые показывают без перерыва, а каждая часть длится 30 минут. Рассмотрите расписание и ответьте на вопрос: сколько времени будет у сотрудников на уборку зала после показа мультфильма «Три медведя»?

	Три мушкетёра 10 : 30 ☆☆☆☆☆
	Три медведя 12 : 20 ☆☆☆☆☆
	Три толстяка 13 : 55 ☆☆☆☆☆
	Три поросёнка 15 : 10 ☆☆☆☆☆
	Два Капитана 16 : 15 ☆☆☆☆☆


Запиши решение и ответ.

19. На афише представлено расписание сеансов кинотеатра на сегодня. После каждого сеанса в зале проводится уборка. Уборку нужно закончить за 15 минут до начала следующего сеанса. Известно, что мультфильм «Три толстяка» состоит из двух частей, которые показывают без перерыва, а каждая часть длится 45 минут. Рассмотрим расписание и ответь на вопрос: сколько времени будет у сотрудников на уборку зала после показа мультфильма «Три толстяка»?

	Три медведя	10 : 10	☆☆☆☆☆
	Три толстяка	11 : 55	☆☆☆☆☆
	Три мушкетёра	14 : 10	☆☆☆☆☆
	Три поросёнка	16 : 40	☆☆☆☆☆
	Белоснежка и 7 гномов	17 : 40	☆☆☆☆☆


Запиши решение и ответ.

20. По правилам авиаперевозок, если багаж весит больше 20 кг, то за перевес нужно доплатить. Рассмотрим рисунок с багажом туриста и ответь на вопрос: за сколько килограммов туристу придётся доплатить?



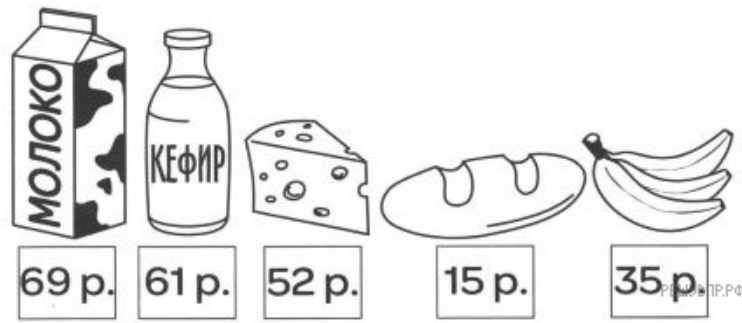
Запиши решение и ответ.

21. По правилам авиаперевозок, если багаж весит больше 20 кг, то за перевес нужно доплатить. Рассмотрим рисунок с багажом туриста и ответь на вопрос: за сколько килограммов туристу придётся доплатить?



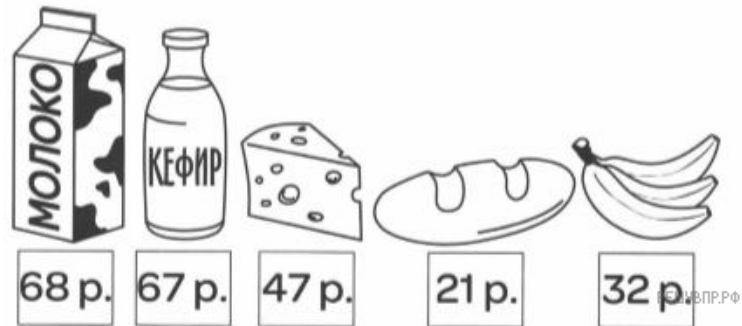
Запиши решение и ответ.

22. Рассмотрй рисунок и ответь на вопрос: какую сдачу получил покупатель, расплатившийся за пакет молока, батон хлеба и бутылку кефира двумя купюрами в 100 рублей?



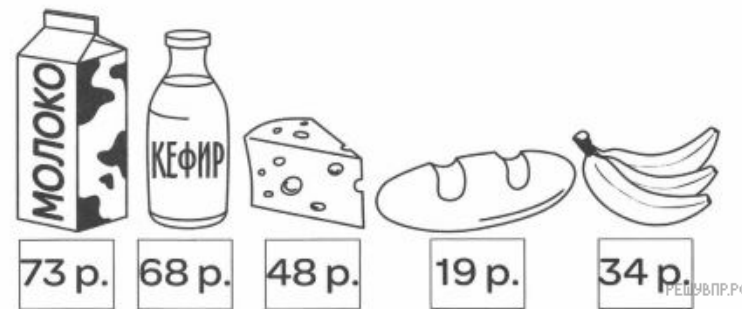
Запиши решение и ответ.

23. Рассмотрй рисунок и ответь на вопрос: какую сдачу получил покупатель, расплатившийся за пакет молока, кусок сыра и батон хлеба двумя купюрами в 100 рублей?



Запиши решение и ответ.

24. Рассмотрй рисунок и ответь на вопрос: какую сдачу получит покупатель, расплатившийся за пакет молока, кусок сыра и связку бананов двумя купюрами в 100 рублей?



Запиши решение и ответ.

25. Петя купил продукты. В чеке указано наименование каждого товара, количество и цена. Например, Петя купил две бутылки молока по 60 р. и заплатил за них 120 р. Помидоры, огурцы и сахар он купил для соседки. Сколько рублей соседка должна вернуть Пете?

ООО "ФАКТОР"		
МОСКВА, КРИВОШЕЙНЫЙ ПР-Д, 148		

ЧЕК НА ПРОДАЖУ		
КАССА 3		
ЧЕК ПРОДАЖИ #12		
МОЛОКО БУТ.		
2 * 60.00	=	120.00
СЫР ЭДАМ, 200 ГР.		
1 * 150.00	=	150.00
САХАР-ПЕСОК ФАС.		
1 * 50.00	=	50.00
ЙОГУРТ СВЕЖИЙ		
3 * 55.00	=	165.00
БАТОН НАРЕЗНОЙ		
2 * 25.00	=	50.00
МОРКОВЬ ФАС.		
1 * 30.00	=	30.00
ПОМИДОРЫ		
1 * 80.00	=	80.00
ОГУРЦЫ		
1 * 75.00	=	75.00

ПОЗИЦИЙ		8
ИТОГО		720.00

ИТОГО		720.00
ОПЛАТА НАЛИЧНЫМИ		
08.02.2016		

СПАСИБО ЗА ПОКУПКУ! РЕШУВ.РФ		

Запиши решение и ответ.

26. Петя купил продукты. В чеке указано наименование каждого товара, количество и цена. Например, Петя купил две пачки сливочного масла по 86 р. и заплатил за них 172 р. Макароны, подсолнечное масло и помидоры он купил для соседки. Сколько рублей соседка должна вернуть Пете?

ООО "ФАКТОР"		
МОСКВА, КРИВОШЕЙНЫЙ ПР-Д, 148		

ЧЕК НА ПРОДАЖУ		
КАССА 3		
ЧЕК ПРОДАЖИ #12		
КАРТОФЕЛЬ ФАС.		
1 * 45.00	=	45.00
ЙОГУРТ СВЕЖИЙ		
3 * 55.00	=	165.00
БАТОН НАРЕЗНОЙ		
2 * 25.00	=	50.00
МАСЛО СЛИВОЧНОЕ		
2 * 86.00	=	172.00
МАСЛО ПОДСОЛНЕЧНОЕ		
1 * 95.00	=	95.00
КРУПА ГРЕЧНЕВАЯ		
1 * 65.00	=	65.00
МАКАРОНЫ ЛУЧШИЕ		
1 * 70.00	=	70.00
ПОМИДОРЫ		
1 * 80.00	=	80.00


ПОЗИЦИЙ		8
ИТОГО		742.00

ИТОГО		742.00
ОПЛАТА НАЛИЧНЫМИ		
08.02.2016		

СПАСИБО ЗА ПОКУПКУ! РЕШУВ.РФ		

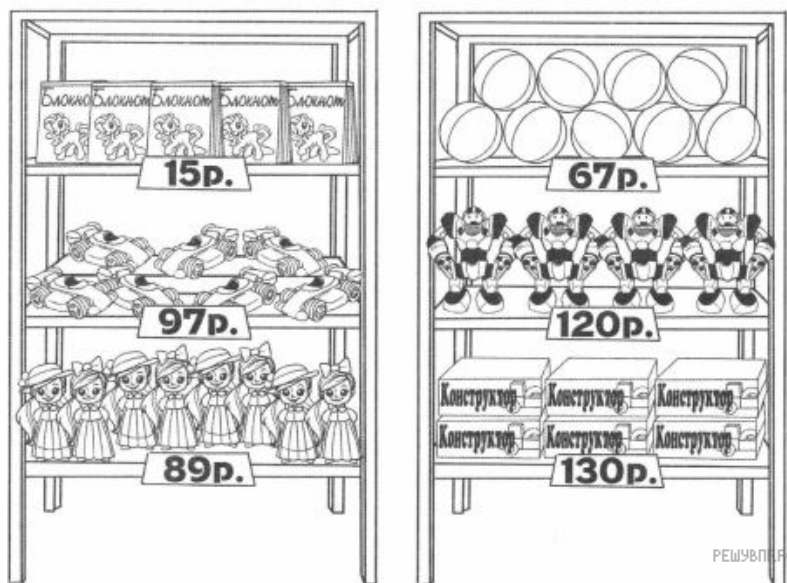
Запиши решение и ответ.

27. Рассмотрй рисунок и ответь на вопрос: сколько рублей надо заплатить за покупку, состоящую из двух машинок и четырёх роботов?




Запиши решение и ответ.

28. Рассмотрй рисунок и ответь на вопрос: сколько рублей надо заплатить за покупку, состоящую из шести конструкторов и пяти мячей?




Запиши решение и ответ.

29. Рассмотрй рисунок и ответь на вопрос: сколько рублей надо заплатить за покупку, состоящую из четырёх теннисных ракеток и пяти теннисных мячей?



Запиши решение и ответ.

30. Рассмотрй рисунок и ответь на вопрос: хватит ли 2000 р. на покупку двух теннисных ракеток и трёх теннисных мячей?



Запиши решение и ответ.

31. Коля пришёл в школьную столовую пообедать, у него с собой есть 65 рублей. В столовой висит меню:

Первые блюда	Бульон куриный с яйцом	19 рублей
	Суп молочный с вермишелью	22 рубля
Вторые блюда	Овощная запеканка с мясом	33 рубля
	Котлетка куриная с овощами	41 рубль
	Творожная запеканка	37 рублей
Напитки	Какао	14 рублей
	Кисель	10 рублей

Выбери обед из трёх блюд (первое, второе и напиток), который может купить Коля. В ответе укажи названия блюд и стоимость обеда. Достаточно указать один возможный вариант обеда.

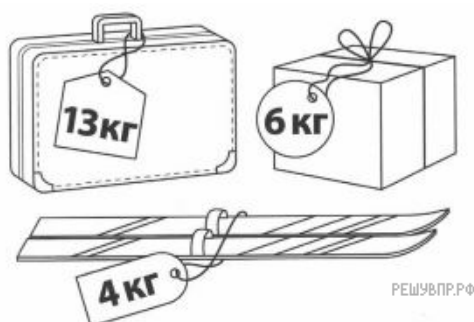
Запиши решение и ответ.

32. Из Люберец в Раменское можно проехать двумя способами. Рассмотрим рисунок и ответь на вопрос: на сколько километров один путь короче другого?




Запиши решение и ответ.

33. По правилам авиаперевозок, если багаж весит больше 20 кг, то за перевес нужно доплатить. Рассмотрим рисунок с багажом туриста и ответь на вопрос: за сколько килограммов туристу придётся доплатить?



Запиши решение и ответ.

34. Рассмотрите рисунок и ответьте на вопрос: сколько рублей сдачи получит покупатель, если даст кассиру 2000 р. для оплаты четырёх ракеток для бадминтона и десяти воланчиков?



Запиши решение и ответ.

35. Рассмотрите рисунок и ответьте на вопрос: сколько рублей сдачи получит покупатель, расплатившийся за одно блюдо и один стакан купюрой в 500 руб.?



Запиши решение и ответ.