

1. Рассмотрй рисунок и ответь на вопрос: сколько рублей сдачи получит покупатель, расплатившийся за пакет молока и батон хлеба купюрой в 100 рублей?



Запиши решение и ответ.

2. У Лёни есть 450 рублей, и ему нужно купить три пакета молока и пачку масла. Лёня решил на все оставшиеся деньги купить шоколадки. Сколько шоколадок он сможет купить?



Запиши решение и ответ.

3. У Саши есть 300 рублей, и ему нужно купить шесть стаканчиков йогурта и две булки хлеба. Саша решил на все оставшиеся деньги купить бублики. Сколько сдачи он получит в итоге?



Запиши решение и ответ.

4. У Тани есть 1500 рублей, и ей нужно купить 2 кг капусты, 1 кг перца, 1 кг моркови и 2 килограмма помидоров. Какое наибольшее число лукошек клубники может купить Таня на оставшиеся деньги?

ЯБЛОКИ  85 руб.	КЛУБНИКА  150 руб.	ПЕРЕЦ  150 руб.
МОРКОВЬ  35 руб.	ПОМИДОРЫ  120 руб.	КАПУСТА  50 руб.

Запиши решение и ответ.

5. У Пети есть 1075 рублей, и ему нужно купить 1 кг моркови, 2 кг перца, 1 кг яблок и 2 кг помидоров. Какое наибольшее количество бананов сможет купить Петя на оставшиеся деньги, если пять бананов весят 1 килограмм?

ЯБЛОКИ  90 руб.	БАНАНЫ  100 руб.	ПЕРЕЦ  160 руб.
МОРКОВЬ  45 руб.	ПОМИДОРЫ  110 руб.	КАПУСТА  35 руб.

Запиши решение и ответ.

6. У Марины есть список продуктов, которые ей нужно купить:

Масло — 1 пачка
 Сахар — 3 пачки
 Яблоки — 2 кг
 Хлеб белый — 1 батон

Сколько сдачи она получит с 500 рублей, если пачка масла стоит 80 рублей, килограмм яблок — 70 рублей, батон хлеба — 23 рубля, а пачка сахара — 23 рубля?

Запиши решение и ответ.

7. У Кати есть список школьных принадлежностей, которые ей нужно купить:

Ручка синяя — 5 штук
 Линейка — 1 штука
 Тетрадь — 6 штук
 Карандаш — 3 штуки

Сколько сдачи она получит с 500 рублей, если линейка стоит 35 рублей, карандаш — 12 рублей, тетрадь — 18 рублей, а синяя ручка — 21 рубль?

Запиши решение и ответ.

8. Определи стоимость приготовления 1 кг салата «Греческий», если для этого требуется:

Помидоры — 4 штуки
Огурец — 3 штуки
Перец — 2 штуки
Маслины — 1 банка
Сыр — 1 упаковка
Листья салата — 1 упаковка

Помидоры стоят 11 рублей за штуку, банка маслин стоит 52 рубля, огурцы — 8 рублей за штуку, упаковка сыра стоит 89 рублей, перец — 24 рубля за штуку, упаковка листьев салата стоит 35 рублей.

Запиши решение и ответ.

9. Определи стоимость приготовления большой салатницы с салатом «Оливье», если для этого требуется:

Картофель — 1 килограмм
Зелёный горошек — 4 банки
Яйцо — 20 штук
Маринованные огурцы — 4 банка
Майонез — 4 пакета
Филе курицы — 2 килограмма

Яйца стоят 70 рублей за 10 штук, 1 кг картофеля — 60 рублей, пакет майонеза — 62 рубля, банка зелёного горошка — 57 рублей, банка маринованных огурцов — 87 рублей, 1 кг филе курицы — 140 рублей.

Запиши решение и ответ.

10. Настя пришла в школьную столовую пообедать, у неё с собой есть 90 рублей. В столовой висит меню:

Первые блюда	Свекольник	25 рублей
	Суп куриный	32 рубля
Вторые блюда	Котлета куриная с макаронами	55 рублей
	Овощное рагу	40 рублей
	Плов	58 рублей
Напитки	Компот	12 рублей
	Морс	15 рублей

Выбери обед из трёх блюд (первое, второе и напиток), который может купить Настя. В ответе укажи названия блюд и стоимость обеда. Достаточно указать один возможный вариант обеда.

Запиши решение и ответ.

11. Галя пришла в школьную столовую пообедать, у неё с собой есть 75 рублей. В столовой висит меню:

Первые блюда	Борщ	31 рубль
	Рассольник	28 рублей
Вторые блюда	Голубцы	42 рубля
	Макароны с сыром	30 рублей
	Котлета рыбная с рисом	34 рубля
Напитки	Чай	8 рублей
	Какао	12 рублей

Выбери обед из трёх блюд (первое, второе и напиток), который может купить Галя. В ответе укажи названия блюд и стоимость обеда. Достаточно указать один возможный вариант обеда.

Запиши решение и ответ.

12. Лёша пришёл в школьную столовую пообедать, у него с собой есть 75 рублей. В столовой висит меню:

Первые блюда	Щи	27 рублей
	Рисовый суп	30 рублей
Вторые блюда	Тефтели с картофельным пюре	45 рублей
	Жаркое по-домашнему	48 рублей
	Печень тушёная с овощами	35 рублей
Напитки	Чай	6 рублей
	Компот	8 рублей

Выбери обед из трёх блюд (первое, второе и напиток), который может купить Лёша. В ответе укажи названия блюд и стоимость обеда. Достаточно указать один возможный вариант обеда.

Запиши решение и ответ.

13. Ниже приведены цены на некоторые спорттовары в двух спортивных магазинах.

1-й магазин	2-й магазин
Домино — 150 руб.	Домино — 140 руб.
Нарды — 250 руб.	Нарды — 290 руб.
Шахматные часы — 950 руб.	Шахматные часы — 900 руб.
Эспандер — 100 руб.	Эспандер — 120 руб.
Очки для плавания — 560 руб.	Очки для плавания — 620 руб.
Секундомер — 890 руб.	Секундомер — 940 руб.

В каком магазине дешевле будет стоять такая покупка: два секундомера, нарды и шахматные часы? Какова стоимость более дешёвой покупки?

Запиши решение и ответ.

14. Ниже приведены цены на некоторые товары в двух магазинах товаров для дома.

1-й магазин	2-й магазин
Салфетка — 50 руб.	Салфетка — 40 руб.
Стакан — 120 руб.	Стакан — 150 руб.
Хлебница — 210 руб.	Хлебница — 260 руб.
Скатерть — 400 руб.	Скатерть — 370 руб.
Полотенце — 190 руб.	Полотенце — 240 руб.
Противень — 850 руб.	Противень — 740 руб.

В каком магазине дешевле будет стоять такая покупка: скатерть, шесть салфеток и три полотенца? Какова стоимость более дешёвой покупки?

Запиши решение и ответ.

15. Из Егорьевска в Коломну можно проехать двумя способами. Рассмотрим рисунок и ответ на вопрос: на сколько километров один путь короче другого?



Запиши решение и ответ.

16. Из Реутова в Черноголовку можно проехать двумя способами. Рассмотрим рисунок и ответ на вопрос: на сколько километров Один путь короче другого?



Запиши решение и ответ.

17. На афише представлено расписание сеансов кинотеатра на сегодня. После каждого сеанса в зале проводится уборка. Уборку нужно закончить за 10 минут до начала следующего сеанса. Известно, что мультфильм «Три поросёнка» состоит из двух частей, которые показывают без перерыва, а каждая часть длится 25 минут. Рассмотрим расписание и ответ на вопрос: сколько времени будет у сотрудников на уборку зала после показа мультфильма «Три поросёнка»?

	Три толстяка	09 : 45	☆☆☆☆☆
	Три поросёнка	11 : 00	☆☆☆☆☆
	Три медведя	12 : 10	☆☆☆☆☆
	Три мушкетёра	14 : 50	☆☆☆☆☆
	101 далматинец	17 : 20	☆☆☆☆☆

РЕШУ ВПР.РФ

Запиши решение и ответ.

18. На афише представлено расписание сеансов кинотеатра на сегодня. После каждого сеанса в зале проводится уборка. Уборку нужно закончить за 10 минут до начала следующего сеанса. Известно, что мультфильм «Три медведя» состоит из двух частей, которые показывают без перерыва, а каждая часть длится 30 минут. Рассмотрим расписание и ответь на вопрос: сколько времени будет у сотрудников на уборку зала после показа мультфильма «Три медведя»?

	Три мушкетёра 10 : 30 ☆☆☆☆☆
	Три медведя 12 : 20 ☆☆☆☆☆
	Три толстяка 13 : 55 ☆☆☆☆☆
	Три поросёнка 15 : 10 ☆☆☆☆☆
	Два Капитана 16 : 15 ☆☆☆☆☆

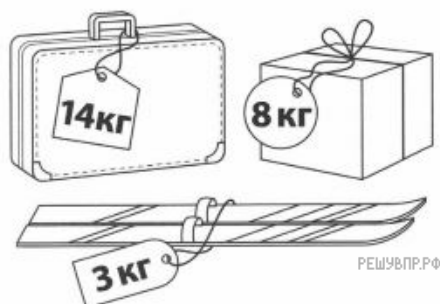
Запиши решение и ответ.

19. На афише представлено расписание сеансов кинотеатра на сегодня. После каждого сеанса в зале проводится уборка. Уборку нужно закончить за 15 минут до начала следующего сеанса. Известно, что мультфильм «Три толстяка» состоит из двух частей, которые показывают без перерыва, а каждая часть длится 45 минут. Рассмотрим расписание и ответь на вопрос: сколько времени будет у сотрудников на уборку зала после показа мультфильма «Три толстяка»?

	Три медведя 10 : 10 ☆☆☆☆☆
	Три толстяка 11 : 55 ☆☆☆☆☆
	Три мушкетёра 14 : 10 ☆☆☆☆☆
	Три поросёнка 16 : 40 ☆☆☆☆☆
	Белоснежка и 7 гномов 17 : 40 ☆☆☆☆☆


Запиши решение и ответ.

20. По правилам авиаперевозок, если багаж весит больше 20 кг, то за перевес нужно доплатить. Рассмотрим рисунок с багажом туриста и ответь на вопрос: за сколько килограммов туристу придётся доплатить?



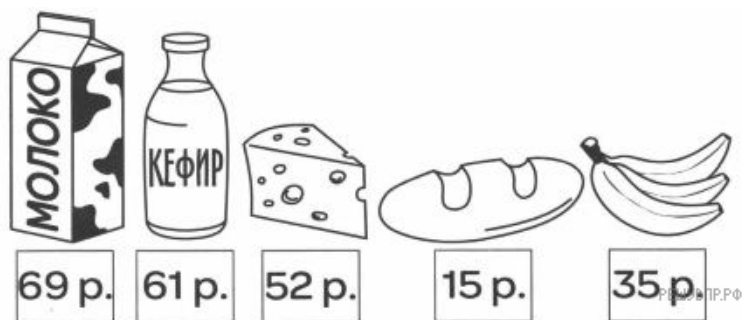
Запиши решение и ответ.

21. По правилам авиаперевозок, если багаж весит больше 20 кг, то за перевес нужно доплатить. Рассмотрим рисунок с багажом туриста и ответь на вопрос: за сколько килограммов туристу придётся доплатить?




Запиши решение и ответ.

22. Рассмотрим рисунок и ответь на вопрос: какую сдачу получил покупатель, расплатившийся за пакет молока, батон хлеба и бутылку кефира двумя купюрами в 100 рублей?




Запиши решение и ответ.

23. Рассмотрим рисунок и ответь на вопрос: какую сдачу получил покупатель, расплатившийся за пакет молока, кусок сыра и батон хлеба двумя купюрами в 100 рублей?



Запиши решение и ответ.

24. Рассмотрите рисунок и ответьте на вопрос: какую сдачу получит покупатель, расплатившийся за пакет молока, кусок сыра и связку бананов двумя купюрами в 100 рублей?



Запиши решение и ответ.

25. Петя купил продукты. В чеке указано наименование каждого товара, количество и цена. Например, Петя купил две бутылки молока по 60 р. и заплатил за них 120 р. Помидоры, огурцы и сахар он купил для соседки. Сколько рублей соседка должна вернуть Пете?

ООО "ФАКТОР"		
МОСКВА, КРИВОШЕЙНЫЙ ПР-Д, 148		

ЧЕК НА ПРОДАЖУ		
КАССА 3		
ЧЕК ПРОДАЖИ #12		
МОЛОКО БУТ.		
2 * 60.00	=	120.00
СЫР ЭДАМ, 200 ГР.		
1 * 150.00	=	150.00
САХАР-ПЕСОК ФАС.		
1 * 50.00	=	50.00
ЙОГУРТ СВЕЖИЙ		
3 * 55.00	=	165.00
БАТОН НАРЕЗНОЙ		
2 * 25.00	=	50.00
МОРКОВЬ ФАС.		
1 * 30.00	=	30.00
ПОМИДОРЫ		
1 * 80.00	=	80.00
ОГУРЦЫ		
1 * 75.00	=	75.00

ПОЗИЦИЙ	8	
ИТОГО		720.00

ИТОГО		720.00
ОПЛАТА НАЛИЧНЫМИ		
08.02.2016		

СПАСИБО ЗА ПОКУПКУ!		

Запиши решение и ответ.

26. Петя купил продукты. В чеке указано наименование каждого товара, количество и цена. Например, Петя купил две пачки сливочного масла по 86 р. и заплатил за них 172 р. Макароны, подсолнечное масло и помидоры он купил для соседки. Сколько рублей соседка должна вернуть Пете?

ООО "ФАКТОР"		
МОСКВА, КРИВОШЕЙНЫЙ ПР-Д, 148		

ЧЕК НА ПРОДАЖУ		
КАССА 3		
ЧЕК ПРОДАЖИ #12		
КАРТОФЕЛЬ ФАС.		
1 *	45.00	= 45.00
ЙОГУРТ СВЕЖИЙ		
3 *	55.00	= 165.00
БАТОН НАРЕЗНОЙ		
2 *	25.00	= 50.00
МАСЛО СЛИВОЧНОЕ		
2 *	86.00	= 172.00
МАСЛО ПОДСОЛНЕЧНОЕ		
1 *	95.00	= 95.00
КРУПА ГРЕЧНЕВАЯ		
1 *	65.00	= 65.00
МАКАРОНЫ ЛУЧШЕ		
1 *	70.00	= 70.00
ПОМИДОРЫ		
1 *	80.00	= 80.00


ПОЗИЦИЙ	8	
ИТОГО		742.00

ИТОГО		742.00
ОПЛАТА НАЛИЧНЫМИ		
08.02.2016		

СПАСИБО ЗА ПОКУПКУ! РЕШУ ВПР.РФ		

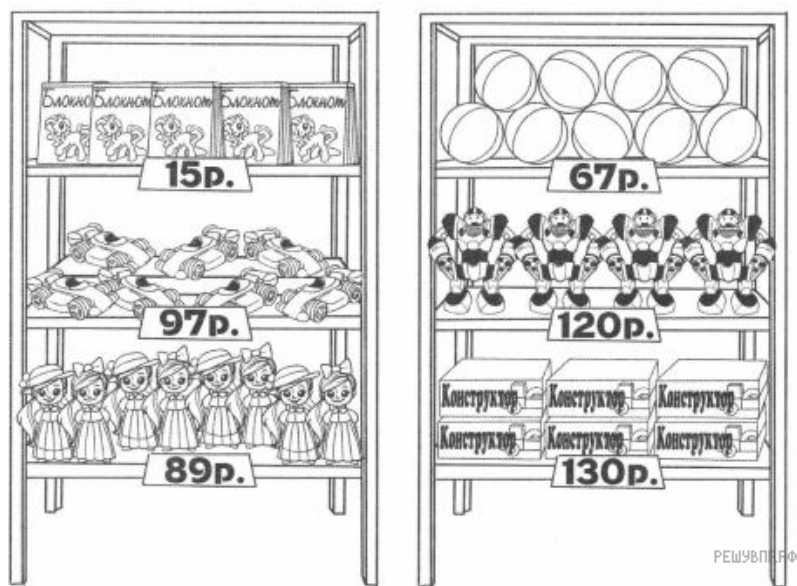
Запиши решение и ответ.

27. Рассмотрите рисунок и ответьте на вопрос: сколько рублей надо заплатить за покупку, состоящую из двух машинок и четырёх роботов?




Запиши решение и ответ.

28. Рассмотрите рисунок и ответьте на вопрос: сколько рублей надо заплатить за покупку, состоящую из шести конструкторов и пяти мячей?




Запиши решение и ответ.

29. Рассмотрите рисунок и ответьте на вопрос: сколько рублей надо заплатить за покупку, состоящую из четырёх теннисных ракеток и пяти теннисных мячей?



Запиши решение и ответ.

30. Рассмотрите рисунок и ответьте на вопрос: хватит ли 2000 р. на покупку двух теннисных ракеток и трёх теннисных мячей?



Запиши решение и ответ.

31. Коля пришёл в школьную столовую пообедать, у него с собой есть 65 рублей. В столовой висит меню:

Первые блюда	Бульон куриный с яйцом	19 рублей
	Суп молочный с вермишелью	22 рубля
Вторые блюда	Овощная запеканка с мясом	33 рубля
	Котлетка куриная с овощами	41 рубль
	Творожная запеканка	37 рублей
Напитки	Какао	14 рублей
	Кисель	10 рублей

Выбери обед из трёх блюд (первое, второе и напиток), который может купить Коля. В ответе укажи названия блюд и стоимость обеда. Достаточно указать один возможный вариант обеда.

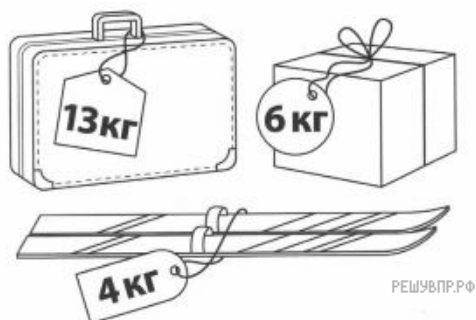
Запиши решение и ответ.

32. Из Люберец в Раменское можно проехать двумя способами. Рассмотрите рисунок и ответьте на вопрос: на сколько километров один путь короче другого?




Запиши решение и ответ.

33. По правилам авиаперевозок, если багаж весит больше 20 кг, то за перевес нужно доплатить. Рассмотрй рисунок с багажом туриста и ответь на вопрос: за сколько килограммов туристу придётся доплатить?



Запиши решение и ответ.

34. Рассмотрй рисунок и ответь на вопрос: сколько рублей сдачи получит покупатель, если даст кассиру 2000 р. для оплаты четырёх ракеток для бадминтона и десяти воланчиков?



Запиши решение и ответ.

35. Рассмотрй рисунок и ответь на вопрос: сколько рублей сдачи получит покупатель, расплатившийся за одно блюдо и один стакан купюрой в 500 руб.?



Запиши решение и ответ.