


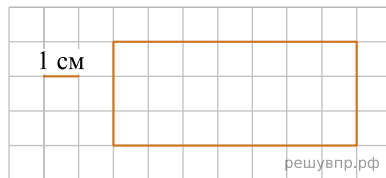
1. На клетчатом поле со стороной клетки 1 см изображён прямоугольник.

Найди площадь этого прямоугольника. Ответ дайте в квадратных сантиметрах. *В ответе писать единицы измерения не нужно.*



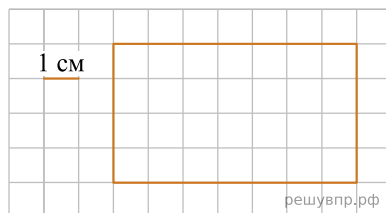
2. Ниже на клетчатом поле со стороной клетки 1 см изображён прямоугольник.

Найди площадь этого прямоугольника. Ответ дайте в квадратных сантиметрах.



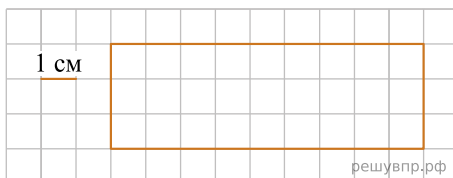
3. На клетчатом поле со стороной клетки 1 см изображён прямоугольник. Найди периметр этого прямоугольника.

Ответ дайте в сантиметрах.



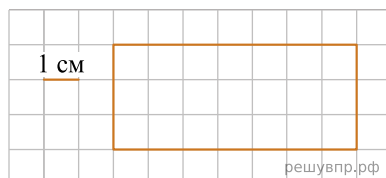
4. Ниже на клетчатом поле со стороной клетки 1 см изображён прямоугольник.

Найдите площадь этого прямоугольника. Ответ укажите в  $\text{см}^2$ . *В ответе писать единицы измерения не нужно.*



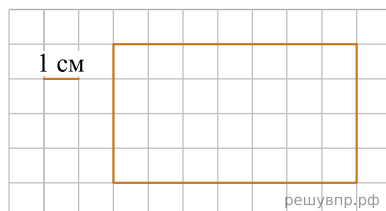
5. На клетчатом поле со стороной клетки 1 см изображён прямоугольник. Найди периметр этого прямоугольника.

*В ответе укажите число.*




6. Ниже на клетчатом поле со стороной клетки 1 см изображён прямоугольник.

Найди площадь этого прямоугольника. В ответ впишите только число.

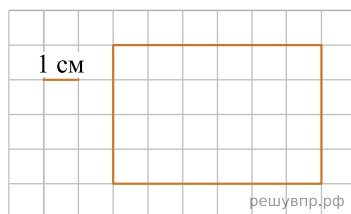


7. На клетчатом поле со стороной клетки 1 см изображён прямоугольник.

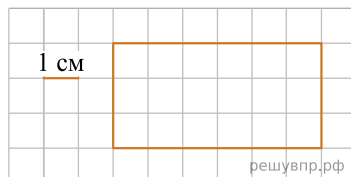
Найди периметр этого прямоугольника.



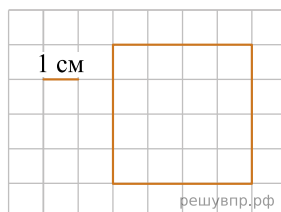
8. На рисунке изображён прямоугольник. Найди площадь прямоугольника, если сторона клетки равна 1 см.



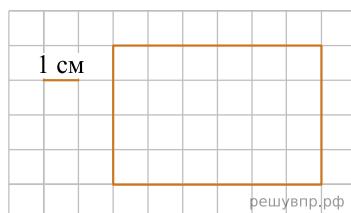
9. На клетчатом поле со стороной клетки 1 см изображён прямоугольник. Ответ дайте в кв. см. Найди площадь этого прямоугольника. *В ответе писать единицы измерения не нужно.*



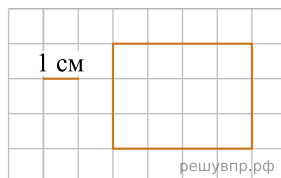
10. На клеточном поле со стороной клетки 1 см изображён квадрат. Найди периметр этого квадрата. *В ответе писать единицы измерения не нужно.*



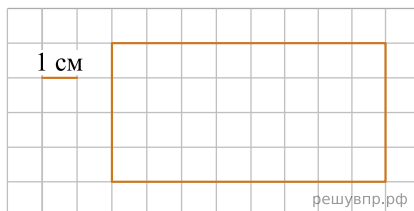
11. На клеточном поле со стороной клетки 1 см изображён прямоугольник. Найди периметр этого прямоугольника. *В ответе укажите число.*



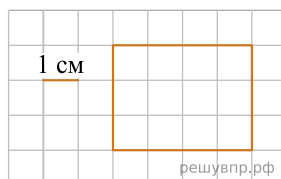
12. На клеточном поле со стороной клетки 1 см изображён прямоугольник. Найди площадь этого прямоугольника.



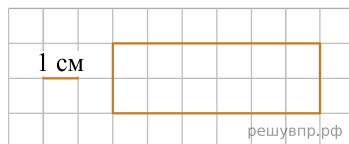
13. Ниже на клетчатом поле со стороной клетки 1 см изображён прямоугольник. Найди площадь этого прямоугольника.



14. На клеточном поле со стороной клетки 1 см изображён прямоугольник. Найди площадь этого прямоугольника.



15. На клеточном поле со стороной клетки 1 см изображён прямоугольник. Найди площадь этого прямоугольника.

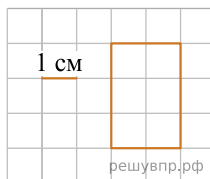


16. Ниже на клетчатом поле со стороной клетки 1 см изображён прямоугольник.

Найди площадь этого прямоугольника.

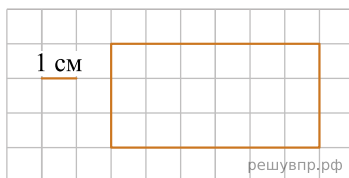


17. На клеточном поле со стороной клетки 1 см изображён прямоугольник. Найди площадь этого прямоугольника.

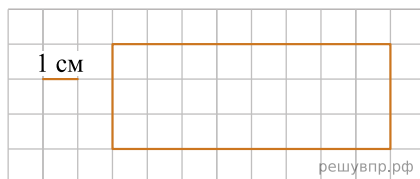


18. На клетчатом поле со стороной клетки 1 см изображён прямоугольник.

Найди периметр этого прямоугольника.

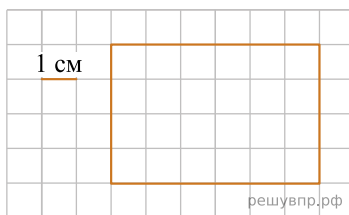


19. На клетчатом поле со стороной клетки 1 см изображён прямоугольник. Найди периметр этого прямоугольника.

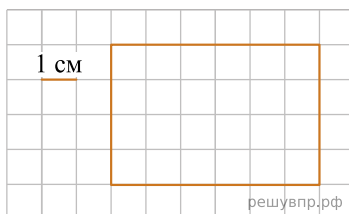


20. Ниже на клетчатом поле со стороной клетки 1 см изображён прямоугольник.

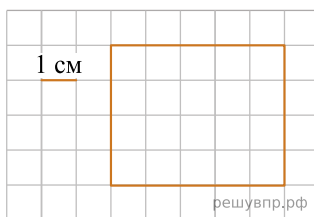
Найди площадь этого прямоугольника.




21. На клетчатом поле со стороной клетки 1 см изображён прямоугольник. Найди площадь этого прямоугольника.



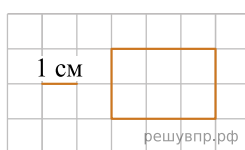
22. На клетчатом поле со стороной клетки 1 см изображён прямоугольник. Найди периметр этого прямоугольника.



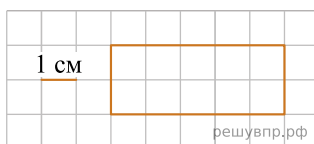
23. На клетчатом поле со стороной клетки 1 см изображён прямоугольник. Найди площадь этого прямоугольника.



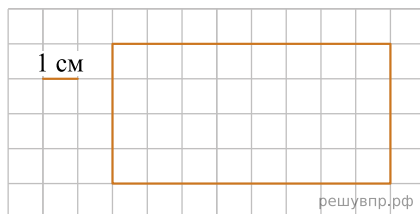
24. Ниже на клетчатом поле со стороной клетки 1 см изображён прямоугольник. Найди площадь этого прямоугольника.



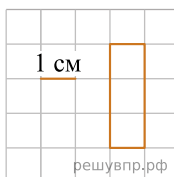
25. Ниже на клетчатом поле со стороной клетки 1 см изображён прямоугольник. Найди площадь этого прямоугольника.



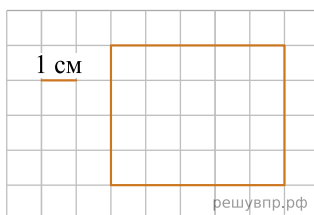
26. Ниже на клетчатом поле со стороной клетки 1 см изображён прямоугольник. Найди периметр этого прямоугольника. Ответ дайте в сантиметрах.



27. Ниже на клетчатом поле со стороной клетки 1 см изображён прямоугольник. Найди периметр этого прямоугольника.

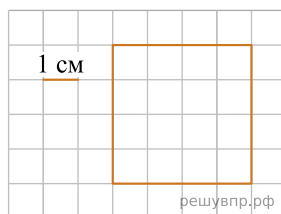


28. Ниже на клетчатом поле со стороной клетки 1 см изображён прямоугольник. Найди площадь этого прямоугольника.

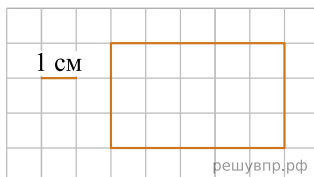


29. На клеточном поле со стороной клетки 1 см изображён квадрат.

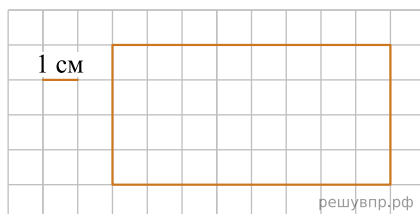
Найди площадь этого квадрата. Ответ дайте в  $\text{см}^2$ .



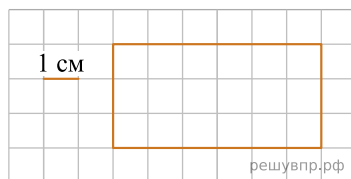
30. На клетчатом поле со стороной клетки 1 см изображён прямоугольник. Найди периметр этого прямоугольника.




31. На клетчатом поле со стороной клетки 1 см изображён прямоугольник. Найди периметр этого прямоугольника.



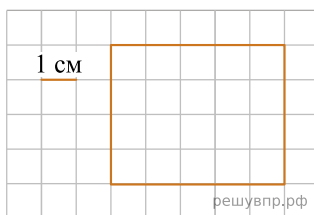
32. На клетчатом поле со стороной клетки 1 см изображён прямоугольник. Найди периметр этого прямоугольника.



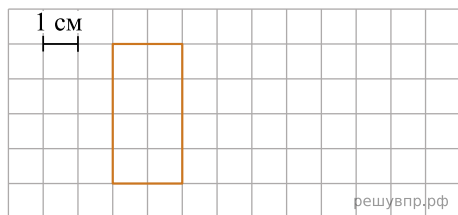
33. На клетчатом поле со стороной клетки 1 см изображён прямоугольник. Найди периметр этого прямоугольника.



34. На клеточном поле со стороной клетки 1 см изображён прямоугольник. Найди площадь этого прямоугольника.



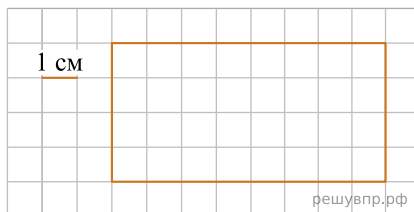
35. На клеточном поле со стороной клетки 1 см изображён прямоугольник.



Найди периметр этого прямоугольника.

**36.** Ниже на клетчатом поле со стороной клетки 1 см изображён прямоугольник. Найди периметр этого прямоугольника.

*В ответе писать единицы измерения не нужно.*



**37.** На клеточном поле со стороной клетки 1 см изображён квадрат. Найди периметр этого квадрата.

*В ответе писать единицы измерения не нужно.*

