

1. Татьяна должна обсудить свою новую идею с директором, бухгалтером и программистом. С каждым из них обсуждение длится ровно час. Известно, что директор занят с 10 до 12 часов, бухгалтер приезжает на работу к 10 часам, а у программиста важное совещание с 10 до 11 часов. При этом Татьяна смогла закончить все три обсуждения к 12 часам, придя на работу к 9 часам.

Назовите должность сотрудника, к которому отправилась Татьяна после обсуждения идеи с директором?

2. Дина приехала в Челябинск во вторник и планирует пробыть там до воскресенья. Она хочет встретиться с подругой, посетить концерт любимой музыкальной группы, сходить в музей и сходить в театр, причём каждому из этих дел она хочет посвятить отдельный день, концерт её любимой группы проводится только в четверг, музей работает со среды по субботу, спектакли в театре идут в среду и пятницу, подруга свободна в четверг и пятницу.

Назовите место, куда пойдёт Дина на следующий день после встречи с подругой.

3. Айгуль приехала в Уфу в понедельник и планирует пробыть там до субботы. Она хочет встретиться с подругой, посетить художественную выставку, сходить в музей и сходить в театр, причём каждому из этих дел она хочет посвятить отдельный день. Художественная выставка проводится только в среду, музей работает со вторника по четверг, спектакли в театре идут в среду и четверг, а подруга свободна во вторник и пятницу.

Назовите место, куда пойдёт Айгуль за день до встречи с подругой.

4. Начальник отдела продаж Вячеслав обсуждал свою новую идею с директором, программистом и бухгалтером. Каждое из обсуждений длилось ровно 50 минут с перерывами по 10 минут между ними. Известно, что директор приехал в офис к 10:30, а бухгалтер с 10:30 до 13:00 был занят подготовкой квартального отчёта. При этом Вячеслав смог закончить все три обсуждения к 12:00, начав первое из них в 9:10.

Назовите должность сотрудника, с которым Вячеслав обсуждал свою идею в 10:50.

5. Менеджер Наталья обсуждала свою новую идею с начальником отдела продаж, юристом и программистом. Каждое из обсуждений длилось ровно 45 минут с перерывами по 15 минут между ними. Известно, что юрист приехал в офис к 10:30, а у начальника отдела продаж было важное совещание с 9:00 до 10:00. При этом Наталья смогла закончить все три обсуждения к 12:00, начав первое из них в 9:15.

Назовите должность сотрудника, с которым Наталья обсуждала свою идею в 10:55.

6. Старый волшебник разложил свои сокровища в четыре разноцветных сундука — красный, жёлтый, зелёный и синий. В один сундук он положил золотые монеты, в другой — изумруды, в третий — алмазы, а в четвёртый — книги закллинаний. Он помнит, что:

- жёлтый сундук правее, чем изумруды и алмазы;
- золотые монеты правее, чем жёлтый сундук;
- изумруды лежат не в красном сундуке.

Что лежит в красном сундуке, если он стоит левее, чем жёлтый?

7. Принцесса разложила свои сокровища в четыре разноцветные коробки — фиолетовую, розовую, бордовую и оранжевую. В одну коробку она положила жемчужные ожерелья, в другую — золотые браслеты, в третью — драгоценные камни, а в четвёртую — письма влюблённого принца. Она помнит, что:

- фиолетовая коробка левее, чем драгоценные камни и жемчужные ожерелья;
- золотые браслеты левее, чем фиолетовая коробка;
- драгоценные камни лежат не в розовой коробке.

Назовите цвет коробки, в которой лежат драгоценные камни, если самая левая коробка оранжевого цвета.

8. Изюм, орехи, конфеты и мармелад лежат в четырёх непрозрачных банках с надписями «изюм или орехи», «конфеты или изюм», «мармелад или конфеты», «орехи или мармелад». Пете известно, что содержимое каждой из банок не соответствует сделанной на ней надписи. Открыв банку с надписью «орехи или мармелад», Петя увидел, что в ней лежит изюм.

Что лежит в банке с надписью «конфеты или изюм»?

9. Макароны, мука, рис и фасоль лежат в четырёх непрозрачных банках с надписями «макароны или мука», «рис или фасоль», «мука или рис», «макароны или фасоль». Помощнику повара известно, что содержимое каждой из банок не соответствует сделанной на ней надписи. Открыв банку с надписью «макароны или мука», он увидел, что в ней лежит фасоль.

Что лежит в банке с надписью «рис или фасоль»?

10. Новогодняя гирлянда составлена из красных и жёлтых лампочек, которые идут в таком порядке: одна красная, две жёлтых, три красных, четыре жёлтых, пять красных, шесть жёлтых и т. д. Всего в гирлянде 36 лампочек.

Сколько всего красных лампочек в этой гирлянде?

11. Бусы составлены из розовых и фиолетовых бусинок, которые идут в таком порядке: одна розовая, две фиолетовых, три розовых, четыре фиолетовых, пять розовых, шесть фиолетовых и т. д., всего 55 бусинок.

Сколько всего фиолетовых бусинок содержат эти бусы?

12. Вася и Петя играли в разведчиков. Они передавали друг другу зашифрованный световой сигнал с помощью фонариков следующим образом: сначала Вася включал свой фонарик на 1 минуту, затем Петя включал свой фонарик на 2 минуты, потом снова Вася включал фонарик на 3 минуты, затем Петя включал фонарик на 4 минуты и т. д. Когда Вася попробовал включить свой фонарик в девятый раз, у него сразу же перегорела лампочка.

Сколько времени прошло от начала передачи сигнала до того момента, когда у Васи перегорела лампочка? *В ответе укажите число минут.*

13. На рыбалку отправились пятеро мужчин из одной семьи: дедушка, оба его сына и два внука — сыновья одного из его сыновей. Их имена в алфавитном порядке такие: Иван Петрович, Михаил Иванович, Пётр Иванович, Пётр Михайлович, и Семён Петрович.

Как зовут внуков?

14. Коля пригласил на свой день рождения четверых друзей: Андрея, Диму, Максима и Рому. Все пять мальчиков, включая Колю, родились в 2006-ом году, но в разные месяцы, в промежутке между 15-ым и 25-ым числом. Дима старше Андрея примерно на 3 месяца, но младше Максима примерно на 7 месяцев. Коля младше Ромы примерно на 2 месяца. Рома старше Димы примерно на 5 месяцев.

Назовите месяц, когда родился Коля, если известно, что ни один из мальчиков не родился в декабре.

15. Маша, Таня, Света и Катя собираются пойти на дискотеку. При этом девочки хотят надеть платья разных цветов. У Маши есть красное и синее платья, у Тани — красное и зелёное, у Светы — красное и жёлтое, а у Кати только зелёное платье.

Назовите цвет платья, которое наденет Света.

16. Вика, Аня, Даша и Света собираются пойти на дискотеку. При этом девочки хотят надеть платья разных цветов. У Вики есть красное и жёлтое платья, у Ани — синее и зелёное, у Даши — только красное, а у Светы — синее и жёлтое платья.

Назовите цвет платья, которое наденет Аня.

17. Алина, Маша, Ира и Лера собираются пойти на дискотеку. При этом девочки хотят надеть платья разных цветов. У Алины есть только синее платье, у Маши — синее и жёлтое, у Иры — красное и жёлтое, а у Леры — красное и зелёное платья.

Назовите цвет платья, которое наденет Лера?

18. Чтобы поступить в 5 класс лицея, нужно с понедельника по пятницу пройти три вступительных испытания: по математике, по русскому языку и по английскому языку. В один и тот же день проходить два испытания не разрешается. В лицее повесили расписание: математику можно сдать в понедельник и в пятницу, русский — в понедельник, среду и пятницу, английский язык — только в среду. При этом математику обязательно нужно сдать до русского и английского языка. Вася успешно справился со всеми тремя испытаниями.

Назовите день недели, когда Вася сдавал русский язык?

19. Чтобы поступить в 5 класс лицея, нужно с понедельника по пятницу пройти три вступительных испытания: по математике, по русскому языку и по английскому языку. В один и тот же день проходить два испытания не разрешается. В лицее повесили расписание: математику можно сдать в среду и в пятницу, русский язык — в понедельник и в четверг, английский язык — в понедельник и в пятницу. При этом русский язык обязательно нужно сдать до математики и английского языка. Вася успешно справился со всеми тремя испытаниями.

Назовите день недели, когда Вася сдавал английский язык.

20. Аня делает открытки к Восьмому марта для родственников: мамы, бабушки и тёти. Сначала она сделала открытку сиреневого цвета, затем — розового, а потом — голубого. Известно, что мамин любимый цвет голубой, а бабушка не любит сиреневый цвет.

Назовите родственника, которому Аня сделала открытку сразу после открытки для бабушки?

21. Аня делает открытки к Восьмому марта для родственников: мамы, бабушки и тёти. Сначала она сделала открытку зелёного цвета, затем — жёлтого, а потом — голубого. Известно, что мамин любимый цвет жёлтый, а бабушка не любит зелёный цвет.

Назовите родственника, для которого Аня сделала открытку сразу после открытки для мамы.

22. Аня делает открытки к Восьмому марта для родственников: мамы, бабушки и тёти. Сначала она сделала открытку синего цвета, затем — оранжевого, а потом — зелёного. Известно, что мамин любимый цвет оранжевый, а бабушка не любит синий цвет.

Назовите родственника, для которого Аня сделала открытку сразу после открытки для мамы.

23. Алёша Попович сказал: «У Змея Горыныча больше четырёх голов». Добрыня Никитич сказал: «У Змея Горыныча больше пяти голов». Илья Муромец сказал: «У Змея Горыныча больше шести голов». Князь Киевский сказал: «У Змея Горыныча больше семи голов».

Известно, что только двое из них сказали правду. Сколько голов у Змея Горыныча?

24. Алёша Попович сказал: «У Змея Горыныча больше трёх голов». Добрыня Никитич сказал: «У Змея Горыныча больше четырёх голов». Илья Муромец сказал: «У Змея Горыныча больше пяти голов». Князь Киевский сказал: «У Змея Горыныча больше шести голов».

Известно, что двое из них сказали неправду. Сколько голов у Змея Горыныча?

25. Вася, Маша, Юлия и Петя собирали грибы. Вместе они собрали 86 грибов. Петя собрал 27 грибов, а Маша 16. Меньше всего грибов собрал мальчик. Кто-то из детей собрал 28 грибов.

Сколько грибов собрали мальчики?

26. Вася, Маша, Юля и Петя собирали грибы. Вместе они собрали 98 грибов. Петя собрал 30 грибов, а Маша 16. Меньше всего грибов собрала девочка. Кто-то из детей собрал 15 грибов.

Сколько грибов собрали девочки?

27. Вася, Маша, Юля и Петя собирали грибы. Вместе они собрали 82 гриба. Петя собрал 11 грибов, а Маша 23. Больше всего грибов собрала девочка. Кто-то из детей собрал 26 грибов.

Сколько грибов собрали мальчики?

28. Дети в загородном лагере отдыха хотели посетить три тренировки по разным видам спорта. Они располагали свободным временем, начиная с 10 ч. Тренировка по гандболу проходит с 12 до 13 ч, по настольному теннису — с 10 до 12 ч, а по бадминтону — с 11 до 13 ч.

Назовите вид тренировки, после которой ребята пойдут на гандбол.


29. После третьего урока, который заканчивается в 11 ч 30 мин, ученики 4 класса должны полить цветы в кабинете биологии, математики и химии. В кабинете биологии идут уроки с 11 ч 30 мин до 12 ч 30 мин, в кабинете математики — с 9 до 12 ч, а в кабинете химии — с 12 ч 30 мин до 15 ч.

Назовите название кабинета, с которого дети должны начать поливать цветы?


30. В первой половине дня мама должна успеть сходить на почту, в магазин и в аптечный киоск, а в 13 ч 30 мин встретить сына-первоклассника около школы. В магазине обеденный перерыв с 13 до 14 ч, аптечный киоск в первой половине дня работает только до 12 ч, а почта открывается только в 12 ч 30 мин. Мама хочет спланировать дела так, чтобы успеть посетить почту, магазин и аптеку перед тем, как пойти в школу.

Назовите место, куда пойдёт мама после того, как сделает покупки в магазине?

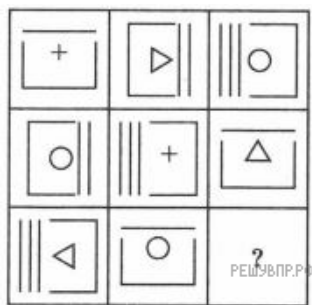
31. Рассмотрите рисунок и установите закономерность.



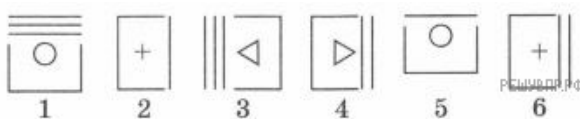
Выбери фигуру, которую надо поставить вместо вопросительного знака. Запиши её номер.



32. Рассмотрите рисунок и установите закономерность.



Выбери фигуру, которую надо поставить вместо вопросительного знака. Запиши её номер.



33. Отличник Петя Иванов после школы должен сделать следующие важные дела: побывать на тренировке по теннису, на занятии в музыкальной школе и посетить стоматолога, чтобы запломбировать зуб. Тренировки по теннису проводятся с 14 до 16 ч и длятся 1 ч, занятия в музыкальной школе с 13 до 15 ч и тоже длятся 1 ч, а визит к стоматологу запланирован на 15 ч 30 мин.

Назовите вид занятия, на которое поспешил Петя после занятия в музыкальной школе.

34. В семье пятеро мужчин: Алексей Александрович, Александр Алексеевич, Алексей Дмитриевич, Дмитрий Алексеевич и Михаил Дмитриевич. Один из них смотрит в окно, его отец спит, брат читает книгу, а оба его сына ушли гулять.

Как зовут того, кто смотрит в окно?

35. У Димы есть любимая полосатая футболка. Полоски на ней чередуются сверху вниз: самая верхняя синяя, под ней жёлтая, затем красная, затем снова синяя, потом снова жёлтая и так далее. При этом после каждых девяти чередующихся таким образом полосок следует десятая полоска — белая, и полоски снова повторяются. Всего на футболке 42 полоски.

Сколько красных полосок на футболке Димы?

36. У Кати есть любимая юбка в полоску. Полоски на ней чередуются сверху вниз: самая верхняя белая, под ней красная, затем коричневая, затем снова белая, потом снова красная и так далее. При этом после каждых шести чередующихся таким образом полосок следует седьмая полоска — голубая, и полоски снова повторяются. Всего на юбке 34 полоски.

Сколько голубых полосок на Кагиной юбке?