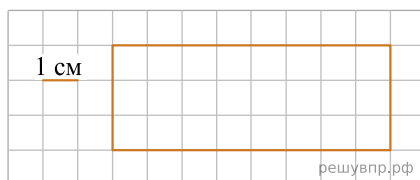


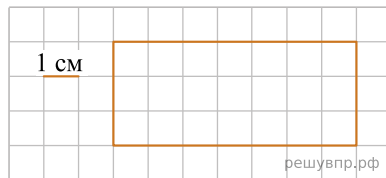
1. На клетчатом поле со стороной клетки 1 см изображён прямоугольник.

Проведи на рисунке выше прямую линию так, чтобы этот прямоугольник оказался разбит на квадрат и ещё один прямоугольник.




2. Ниже на клетчатом поле со стороной клетки 1 см изображён прямоугольник.

Изобрази на рисунке прямоугольник, который имеет площадь на  $9 \text{ см}^2$  меньше исходного и весь является его частью.

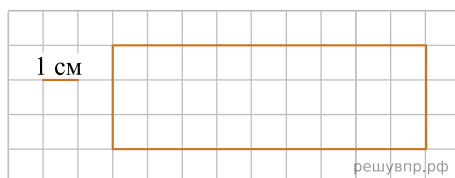


3. На клетчатом поле со стороной клетки 1 см изображена фигура. Изобрази на рисунке прямоугольник площадью  $20 \text{ см}^2$  так, чтобы он весь был частью данной фигуры.



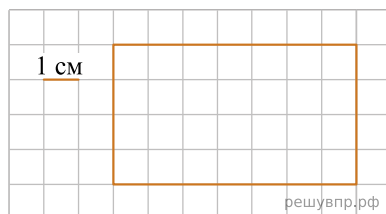
4. Ниже на клетчатом поле со стороной клетки 1 см изображён прямоугольник.

Изобрази на рисунке прямоугольник, который имеет площадь на  $9 \text{ см}^2$  меньше исходного и весь является его частью.



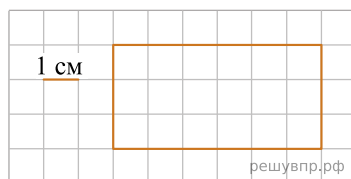
5. Ниже на клетчатом поле со стороной клетки 1 см изображён прямоугольник.

Изобрази на рисунке прямоугольник, имеющий площадь  $42 \text{ см}^2$ , так, чтобы весь исходный прямоугольник был его частью.



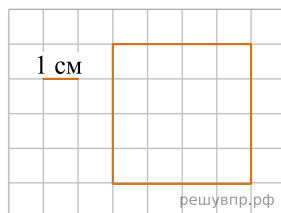
6. На клетчатом поле со стороной клетки 1 см изображён прямоугольник.

На клеточном поле рядом с прямоугольником нарисуй квадрат, площадь которого в 2 раза меньше площади данного прямоугольника.



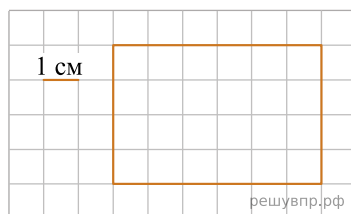
7. На клеточном поле со стороной клетки 1 см изображён квадрат.

Проведи на рисунке прямую линию, которая разделит квадрат на два прямоугольника, так, чтобы площадь одного из них была равна  $4 \text{ кв. см.}$



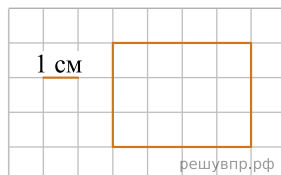
**8.** На клеточном поле со стороной клетки 1 см изображён прямоугольник.

Проведи на рисунке прямую линию, которая разделит этот прямоугольник на два прямоугольника, так, чтобы площадь одного из них была равна 8 кв. см.



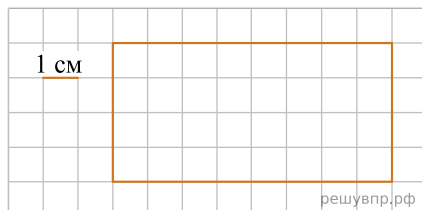
**9.** На клеточном поле со стороной клетки 1 см изображён прямоугольник.

На клеточном поле рядом с прямоугольником нарисуй квадрат, площадь которого в 3 раза меньше площади данного прямоугольника.



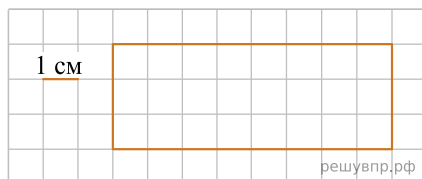
**10.** Ниже на клетчатом поле со стороной клетки 1 см изображён прямоугольник.

Изобрази на рисунке прямоугольник, который имеет площадь на  $12 \text{ см}^2$  меньше исходного и весь является его частью.



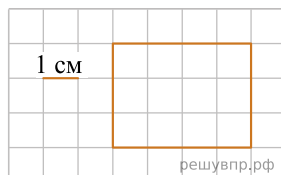
**11.** Ниже на клетчатом поле со стороной клетки 1 см изображён прямоугольник.

Изобрази на рисунке прямоугольник, который имеет площадь на  $12 \text{ см}^2$  меньше исходного и весь является его частью.



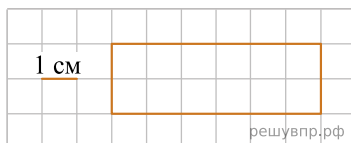
**12.** На клеточном поле со стороной клетки 1 см изображён прямоугольник.

На клеточном поле рядом с прямоугольником нарисуй квадрат, площадь которого в 3 раза меньше площади данного прямоугольника.



**13.** На клеточном поле со стороной клетки 1 см изображён прямоугольник.

Проведи на рисунке прямую линию, которая разделит этот прямоугольник на квадрат и прямоугольник.



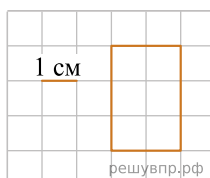
**14.** Ниже на клетчатом поле со стороной клетки 1 см изображён прямоугольник.

Изобрази на рисунке прямоугольник, имеющий площадь  $14 \text{ см}^2$ , так, чтобы весь исходный прямоугольник был его частью.

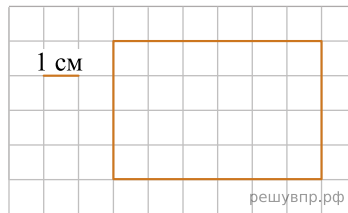


**15.** На клеточном поле со стороной клетки 1 см изображён прямоугольник.

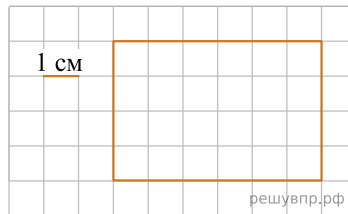
На клеточном поле рядом с прямоугольником нарисуй квадрат, периметр которого в 2 раза больше периметра данного прямоугольника.



16. Изобрази на рисунке прямоугольник, который имеет площадь на  $8 \text{ см}^2$  меньше исходного и весь является его частью.

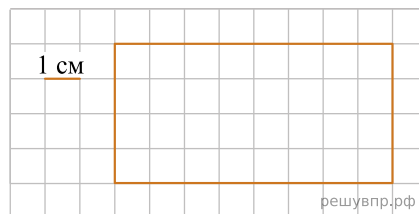


17. Изобрази на рисунке прямоугольник, имеющий площадь на  $8 \text{ см}^2$  больше исходного, так, чтобы весь исходный прямоугольник был его частью.

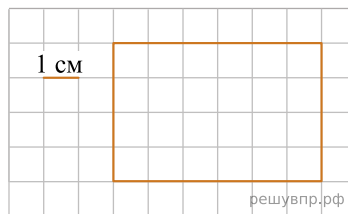


18. Ниже на клетчатом поле со стороной клетки 1 см изображён прямоугольник.

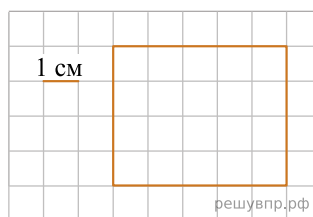
Изобрази на рисунке прямоугольник, имеющий площадь на  $12 \text{ см}^2$  больше исходного, так, чтобы весь исходный прямоугольник был его частью.




19. На клетчатом поле со стороной клетки 1 см изображён прямоугольник. Изобрази на рисунке прямоугольник, имеющий площадь на  $8 \text{ см}^2$  больше исходного, так, чтобы весь исходный прямоугольник был его частью.



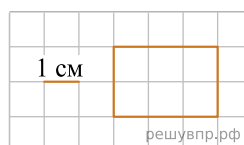
20. На клетчатом поле со стороной клетки 1 см изображён прямоугольник. Найди периметр этого прямоугольника. Проведи на рисунке прямую линию, которая разделит этот прямоугольник на два прямоугольника, так, чтобы площадь одного из них была равна  $12 \text{ кв. см}$ .



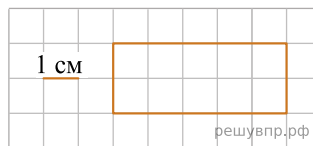
21. На клетчатом поле со стороной клетки 1 см изображён прямоугольник. Изобрази на рисунке прямоугольник, который имеет площадь на  $8 \text{ см}^2$  меньше исходного и весь является его частью.



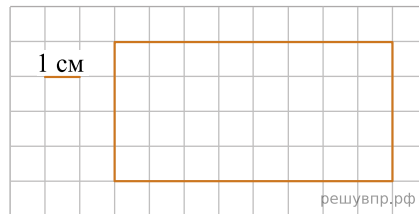
22. Ниже на клетчатом поле со стороной клетки 1 см изображён прямоугольник. Изобрази на рисунке прямоугольник, имеющий площадь  $14 \text{ см}^2$ , так, чтобы весь исходный прямоугольник был его частью.



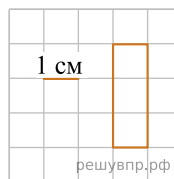
23. Ниже на клетчатом поле со стороной клетки 1 см изображён прямоугольник. Изобрази на рисунке прямоугольник, имеющий площадь  $25 \text{ см}^2$  так, чтобы весь исходный прямоугольник был его частью.



24. Ниже на клетчатом поле со стороной клетки 1 см изображён прямоугольник. На клеточном поле рядом с прямоугольником нарисуй квадрат, периметр которого в 2 раза меньше периметра данного прямоугольника.

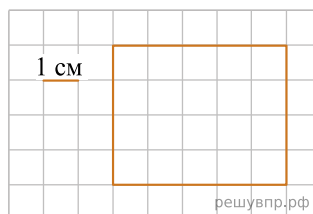


25. Ниже на клетчатом поле со стороной клетки 1 см изображён прямоугольник. На клеточном поле рядом с прямоугольником нарисуй квадрат, площадь которого в 3 раза больше площади данного прямоугольника.



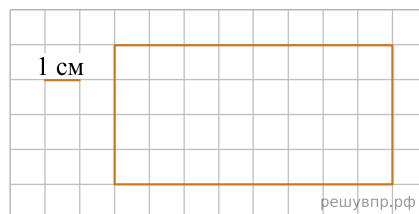
26. Ниже на клетчатом поле со стороной клетки 1 см изображён прямоугольник.

Изобрази на рисунке прямоугольник, имеющий площадь на  $8 \text{ см}^2$  больше исходного, так, чтобы весь исходный прямоугольник был его частью.



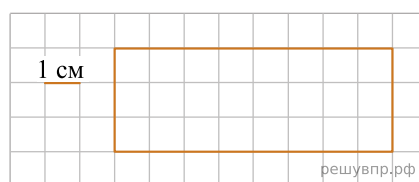
27. Ниже на клетчатом поле со стороной клетки 1 см изображён прямоугольник.

Изобрази на рисунке прямоугольник, который имеет площадь на  $12 \text{ см}^2$  больше исходного и весь является его частью.



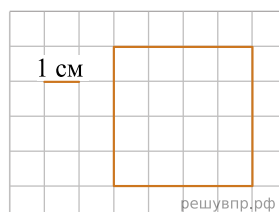
28. Ниже на клетчатом поле со стороной клетки 1 см изображён прямоугольник.

Изобрази на рисунке прямоугольник, который имеет площадь на  $12 \text{ см}^2$  меньше исходного и весь является его частью.

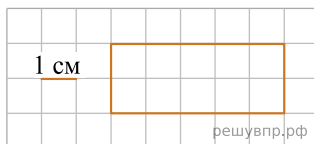


29. На клеточном поле со стороной клетки 1 см изображён квадрат.

Проведи на рисунке прямую линию, которая разделит этот квадрат на два прямоугольника, так, чтобы периметр одного из них был равен 14 см.

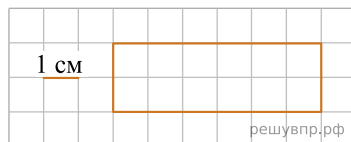


30. Изобрази на рисунке прямоугольник, имеющий площадь  $15 \text{ см}^2$ , так, чтобы весь исходный прямоугольник был его частью.

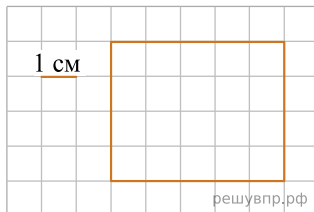


31. На клеточном поле со стороной клетки 1 см изображён прямоугольник.

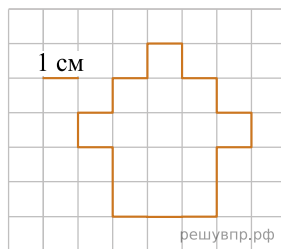
Изобрази на рисунке прямоугольник, имеющий площадь на  $6 \text{ см}^2$  больше исходного, так, чтобы весь исходный прямоугольник был его частью.



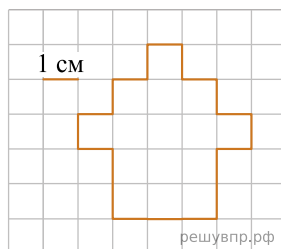
32. На клеточном поле со стороной клетки 1 см изображён прямоугольник. Проведи на рисунке прямую линию, которая разделит этот прямоугольник на два прямоугольника, так, чтобы периметр одного из них был равен 12 см.



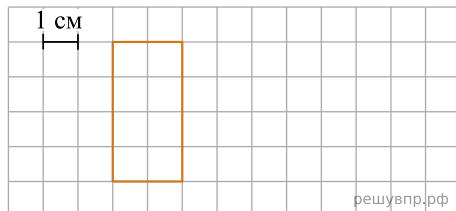
33. На клетчатом поле рядом с фигурой нарисуй квадрат, периметр которого равен периметру данной фигуры.



34. На клетчатом поле рядом с фигурой нарисуй прямоугольник, площадь которого равна площади данной фигуры.

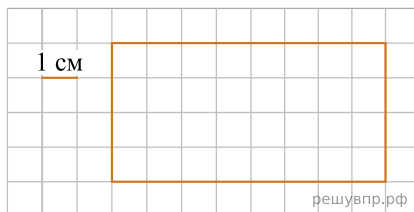


35. На клеточном поле со стороной клетки 1 см изображён прямоугольник.



На клеточном поле рядом с прямоугольником нарисуй квадрат, площадь которого в 2 раза больше площади данного прямоугольника.

**36.** Ниже на клетчатом поле со стороной клетки 1 см изображён прямоугольник. На клеточном поле рядом с прямоугольником нарисуй квадрат, периметр которого в 3 раза меньше периметра данного прямоугольника.



**37.** На клеточном поле со стороной клетки 1 см изображён квадрат. Проведи на рисунке прямую линию, которая разделит квадрат на два прямоугольника, так, чтобы площадь одного из них была равна 4 кв. см.

