

При выполнении заданий с кратким ответом впишите в поле для ответа цифру, которая соответствует номеру правильного ответа, или число, слово, последовательность букв (слов) или цифр. Ответ следует записывать без пробелов и каких-либо дополнительных символов. Дробную часть отделяйте от целой десятичной запятой. Единицы измерений писать не нужно.

Если вариант задан учителем, вы можете вписать или загрузить в систему ответы к заданиям с развернутым ответом. Учитель увидит результаты выполнения заданий с кратким ответом и сможет оценить загруженные ответы к заданиям с развернутым ответом. Выставленные учителем баллы отобразятся в вашей статистике.

1. Найдите значение выражения $116 - 35$.

2. Найдите значение выражения $18 + 4 \cdot 3 - 11$.

3. Определи стоимость приготовления большой салатницы с салатом «Оливье», если для этого требуется:

- Картофель — 1 килограмм
- Зелёный горошек — 4 банки
- Яйцо — 20 штук
- Маринованные огурцы — 4 банка
- Майонез — 4 пакета
- Филе курицы — 2 килограмма

Яйца стоят 70 рублей за 10 штук, 1 кг картофеля — 60 рублей, пакет майонеза — 62 рубля, банка зелёного горошка — 57 рублей, банка маринованных огурцов — 87 рублей, 1 кг филе курицы — 140 рублей.

Запиши решение и ответ.

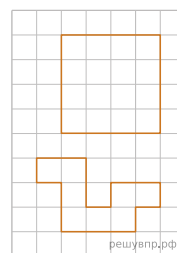
4.

На рисунке показан календарь на апрель 2013 года. На какое число пришёлся первый вторник мая 2013 года?

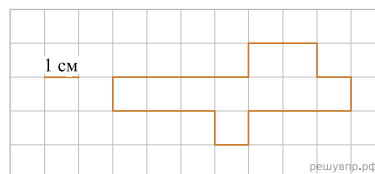
пн	вт	ср	чт	пт	сб	вс
1	2	3	4	5	6	7
8	9	10	11	12	13	14
15	16	17	18	19	20	21
22	23	24	25	26	27	28
29	30					

Апрель


5. На клетчатой бумаге нарисован квадрат, а ниже — некоторая фигура. Площадь квадрата равна 48 кв. см. Найди площадь этой фигуры. Ответ дай в кв. см. В ответе писать единицы измерения не нужно.



6. На рисунке изображена фигура.



Начертите прямоугольник с такой же площадью, каждая из сторон которого больше 1 см.



7. В таблице указаны средние цены (в рублях) на некоторые основные продукты питания в двух городах России (по данным на конец 2013 года).

Наименование продукта	Белгород	Челябинск
Яйца куриные (1 десяток)	58	66
Сметана (1 л, жирность 20%)	145	140
Мясо (говядина) (1 кг)	250	270
Сливочное масло (1 кг)	234	221

Какой из продуктов в каком из этих городов является наиболее дорогим среди всех, указанных в таблице?

8. В таблице указаны средние цены (в рублях) на некоторые основные продукты питания в двух городах России (по данным на конец 2013 года). Ответ записать в формате: Астрахань 15.

Наименование продукта	Астрахань	Краснодар
Мука пшеничная (1 кг)	42	39
Гречневая крупа (1 кг)	59	43
Сливочное масло (1 кг)	374	383
Филе куриное (1 кг)	259	261

В каком из городов и на сколько рублей окажется дороже следующий набор продуктов: 4 кг муки, 1 кг сливочного масла, 2 кг куриного филе?

9. Найди значение выражения $62013 : 3 + 130 \cdot 5$.

10. Две бригады рабочих выкладывают с двух сторон асфальтовую дорогу длиной в 2 км. На тот момент, когда бригады рабочих встретились, первая положила 10 участков по 80 м каждый, а вторая — 20 участков одинаковой длины. Участки какой длины (в метрах) кладёт вторая бригада?

Запиши решение и ответ.

11. Даша, Миша и Катя пошли по грибы. Миша нашёл больше грибов, чем Катя. Вместе Миша и Катя нашли столько же грибов, сколько нашла Даша. Меньше трёх грибов не нашёл никто из них, а все вместе они нашли 14 грибов.

Сколько грибов нашла Даша?

12. Аня делает открытки к Восьмому марта для родственников: мамы, бабушки и тётки. Сначала она сделала открытку сиреневого цвета, затем — розового, а потом — голубого. Известно, что мамин любимый цвет голубой, а бабушка не любит сиреневый цвет.

Назовите родственника, которому Аня сделала открытку сразу после открытки для бабушки?

13. Миша написал на футболке своё имя (см. рис. 1). Затем он подошел к зеркалу. Нарисуй, как будет выглядеть отражение его имени в зеркале (рис. 2).




Рис. 1




Рис. 2

14. Куртка на 700 руб. дешевле, чем пять шапок, но на 200 руб. дороже, чем две шапки. Сколько стоит шапка?

Запиши решение и ответ.