

При выполнении заданий с кратким ответом впишите в поле для ответа цифру, которая соответствует номеру правильного ответа, или число, слово, последовательность букв (слов) или цифр. Ответ следует записывать без пробелов и каких-либо дополнительных символов. Дробную часть отделяйте от целой десятичной запятой. Единицы измерений писать не нужно.

Если вариант задан учителем, вы можете вписать или загрузить в систему ответы к заданиям с развернутым ответом. Учитель увидит результаты выполнения заданий с кратким ответом и сможет оценить загруженные ответы к заданиям с развернутым ответом. Выставленные учителем баллы отобразятся в вашей статистике.

1. Найдите значение выражения $45 + 63$.
2. Найдите значение выражения $(9 + 12) \cdot 9 - 6$.

3. На рисунке показаны цены на хлебобулочные изделия в магазине. Сколько всего рублей надо заплатить за две арабские лепёшки и одну буханку «Бородинского» хлеба?

Хлеб "Дарницкий" 26 руб. 	Хлеб "Столичный" 25 руб. 	Хлеб "Бородинский" 47 руб.
Хлеб заварной...45 руб. 	Хлеб с отрубями...27 руб. 	Батон нарезной.....18 руб.
Багет.....67 руб. 	Лепёшка арабская 31 руб. 	Лаваш армянский 48 руб.

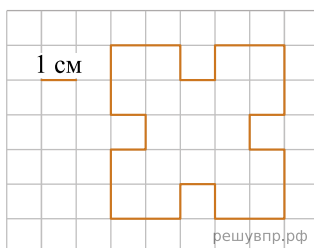
Запиши решение и ответ.

4. Экскурсионный теплоход по маршруту Казань-Астрахань-Казань отправляется в пятницу ровно в 10 часов. Каков день и час его возвращения в Казань, если длительность этого экскурсионного маршрута составляет 237 часов? *Ответ запишите в формате: вторник, 8:00.*

5. На клетчатой бумаге нарисована фигура. Сторона клетки равна 1 см.

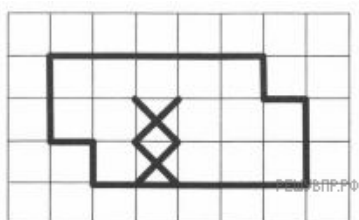
Найди площадь этой фигуры. Ответ дай в кв. см.

В ответе писать единицы измерения не нужно.



6. На рисунке ниже изображена фигура.

Разрежь фигуру по границам клеток на две одинаковые части так, чтобы в каждой части было по одной отмеченной клетке.



7. Марина в течение четырёх дней собирала грибы и каждый день записывала количество найденных грибов в таблицу. Используя данные этой таблицы, ответь на вопросы.

Дни по порядку	Подберёзовики	Подосиновики	Белые
Первый день	9	6	2
Второй день	3	3	7
Третий день	1	2	8
Четвёртый день	2	3	3

Сколько подберёзовиков собрала Марина во второй день?

8. На игре КВН судьи поставили оценки командам за конкурсы:

Команда	Баллы за конкурс «Приветствие»	Баллы за конкурс «СТЭМ»	Баллы за музыкальный конкурс
«Диоды»	23	20	24
«Шарм»	28	21	22
«Блеск»	21	18	27
«Лирики»	27	22	20

Какое место заняла команда «Блеск»?

9. Найди значение выражения $2016 : (2 + 0 + 1 + 6) - (2 + 0) \cdot (1 + 6)$.

10. Масса семи одинаковых ящиков с курагой равна 210 кг. Масса пустого ящика — 700 г. Чему равна масса кураги в одном ящике?

Запиши решение и ответ.


11. Денис Евгеньевич планирует отпуск с 1 по 28 августа. Он хочет за шесть дней сделать ремонт квартиры, двенадцать дней безвыездно быть на даче и десять дней подряд провести на море. На море Денис Евгеньевич может ехать только после того, как закончит все дела на даче.

Назови самое позднее число, когда Денис Евгеньевич может быть на даче последний день.

12. Витя, Федя и Лена ходили за грибами. Витя собрал 12 грибов, Федя собрал на 5 грибов меньше, чем Витя и Лена вместе. Один из троих ребят собрал 6 грибов.

Сколько всего грибов собрали ребята?

13. Марина с книгой в руках подошла к зеркалу и увидела в отражении название книги. Как называется книга?



14. 6 карандашей стоят на 30 рублей дешевле, чем 3 ручки и 3 карандаша. На сколько рублей карандаш дешевле ручки? Запиши решение и ответ.