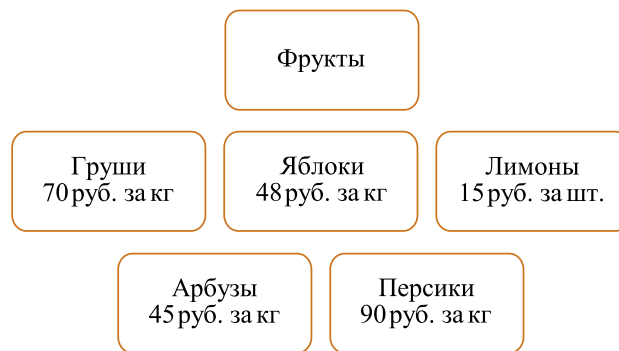


ВПР по математике 4 класс 2025 год. Вариант 8.

При выполнении заданий с кратким ответом впишите в поле для ответа цифру, которая соответствует номеру правильного ответа, или число, слово, последовательность букв (слов) или цифр. Ответ следует записывать без пробелов и каких-либо дополнительных символов. Дробную часть отделяйте от целой десятичной запятой. Единицы измерений писать не нужно.

Если вариант задан учителем, вы можете вписать или загрузить в систему ответы к заданиям с развернутым ответом. Учитель увидит результаты выполнения заданий с кратким ответом и сможет оценить загруженные ответы к заданиям с развернутым ответом. Выставленные учителем баллы отобразятся в вашей статистике.

1. Найди значение выражения $61 - 19$.
2. Вычисли: $(73 + 74) : 7 + 9$.
3. Рассмотрите рисунок и ответьте на вопрос: сколько в рублях стоит покупка, состоящая из 3 кг груш и 1 кг яблок?



решувпр.рф

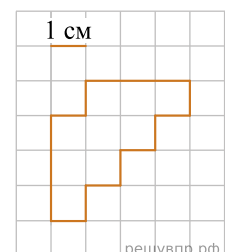
Запиши решение и ответ.

4. Первый акт спектакля длится 1 ч 30 мин, второй акт длится 1 ч 15 мин. Между первым и вторым актами есть антракт. Спектакль начался в 18 ч 40 мин, а закончился в 21 ч 50 мин. Какова продолжительность антракта?

Ответ: мин.

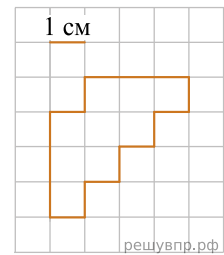
5. Ниже на клетчатом поле со стороной клетки 1 см изображена фигура. Найдите периметр этой фигуры.

В ответе писать единицы измерения не нужно.



решувпр.рф

6. Ниже на клетчатом поле со стороной клетки 1 см изображена фигура. На клетчатом поле рядом с фигурой нарисуй прямоугольник, периметр которого на 4 см больше периметра данной фигуры.



7. Илья, Кирилл и Ваня участвовали в олимпиадах по школьным предметам. Их баллы указаны в таблице. Ответь на вопросы.

| Участник | Олимпиада по французскому языку | Олимпиада по химии | Олимпиада по физике |
|----------|---------------------------------|--------------------|---------------------|
| Илья | 15 | 8 | 6 |
| Кирилл | 6 | 5 | 16 |
| Ваня | 11 | 9 | 10 |

Кто из школьников набрал наибольшее количество баллов в олимпиаде по французскому языку?

8. Илья, Кирилл и Ваня участвовали в олимпиадах по школьным предметам. Их баллы указаны в таблице. Ответь на вопросы.

| Участник | Олимпиада по французскому языку | Олимпиада по химии | Олимпиада по физике |
|----------|---------------------------------|--------------------|---------------------|
| Илья | 15 | 8 | 6 |
| Кирилл | 6 | 5 | 16 |
| Ваня | 11 | 9 | 10 |

Сколько баллов в сумме набрали Илья, Кирилл и Ваня на олимпиаде по физике?

9. Найди значение выражения $(3262 - 1048) \cdot 6 - 4637$.

10. Объём бочки 250 л. В пустую бочку вылили 13 двенадцатилитровых и 5 десятилитровых вёдер воды. Сколько ещё литров воды может поместиться в бочке?

11. Маша решила заняться изучением английского языка. В первый день она занималась 40 мин., а в каждый последующий день тратила на занятия на 5 мин. меньше, чем в предыдущий день. Когда в очередной день она занималась всего 15 мин., мама попросила её уделять занятиям больше времени, и каждый следующий день Маша занималась английским языком на 5 мин. больше, чем в предыдущий день.

Сколько минут занималась английским языком Маша на четвёртый день занятий?

12. Маша решила заняться изучением английского языка. В первый день она занималась 40 мин., а в каждый последующий день тратила на занятия на 5 мин. меньше, чем в предыдущий день. Когда в очередной день она занималась всего 15 мин., мама попросила её уделять занятиям больше времени, и каждый следующий день Маша занималась английским языком на 5 мин. больше, чем в предыдущий день.

Сколько всего минут Маша потратила на изучение английского языка в первую неделю занятий?

13. На столбе висела табличка (рис. 1). Верхний винт, державший табличку, выпал, и табличка перевернулась. Нарисуй, как будет выглядеть перевернутая табличка с надписью (рис. 2).

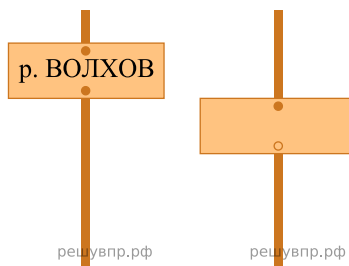


Рис. 1

Рис. 2

14. Учитель предложил четырём ученикам несколько задач. Каждую задачу решили только трое. Известно, что все решили разное количество задач. Андрей решил больше всех — девять задач, а Женя решил меньше всех — пять задач. Сколько всего задач предложил учитель?