

При выполнении заданий с кратким ответом впишите в поле для ответа цифру, которая соответствует номеру правильного ответа, или число, слово, последовательность букв (слов) или цифр. Ответ следует записывать без пробелов и каких-либо дополнительных символов. Дробную часть отделяйте от целой десятичной запятой. Единицы измерений писать не нужно.

Если вариант задан учителем, вы можете вписать или загрузить в систему ответы к заданиям с развернутым ответом. Учитель увидит результаты выполнения заданий с кратким ответом и сможет оценить загруженные ответы к заданиям с развернутым ответом. Выставленные учителем баллы отобразятся в вашей статистике.

1. Найдите значение выражения $78 : 6$.
2. Найдите значение выражения $(19 + 17) : 4 + 19$.
3. Рассмотрите рисунок и ответьте на вопрос: сколько рублей сдачи получит покупатель, расплатившийся за одну конфету и одну плитку шоколада купюрой в 100 руб.?

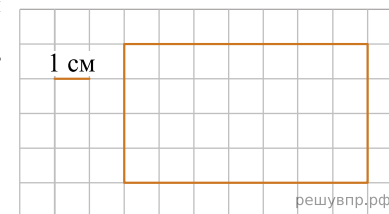


Запиши решение и ответ.

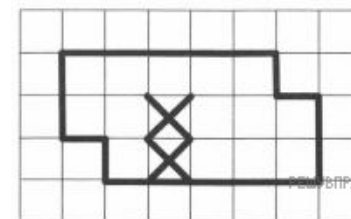
4. Средняя скорость бегущего зайца — 57 км/ч, лошади — 61 км/ч, антилопы — 40 км/ч. Кто из животных быстрее преодолеет расстояние 7 км? Запишите название животного.

5. Ниже на клетчатом поле со стороной клетки 1 см изображён прямоугольник.

Найди площадь этого прямоугольника. В ответ впиши только число.



6. На рисунке ниже изображена фигура. Разрежь фигуру по границам клеток на две одинаковые части так, чтобы в каждой части было по одной отмеченной клетке.



7. Марина в течение четырёх дней собирала грибы и каждый день записывала количество найденных грибов в таблицу. Используя данные этой таблицы, ответьте на вопросы.

Дни по порядку	Подберёзовики	Подосиновики	Белые
Первый день	9	6	2
Второй день	3	3	7
Третий день	1	2	8
Четвёртый день	2	3	3

Сколько подберёзовиков собрала Марина во второй день?

8. В таблице приведены цены на пирожные в трёх кондитерских (в рублях). Используя эти данные, ответь на вопросы.

Название пирожного	Цена в рублях в кондитерской		
	«Сладкая жизнь»	«Наслаждение»	«Домашняя»
«Эклер»	13	15	14
«Картошка»	27	26	28
«Корзинка»	25	23	22
«Ромовая баба»	10	13	14

Какое пирожное и в какой кондитерской дороже всего?

9. Найди значение выражения $963 : 3 - (753 - 468)$.

10. Для перевозки 16 тонн груза были использованы два автомобиля «газель», грузоподъёмность одного из которых 1 тонна 900 кг, а другого — 2 тонны 500 кг. Автомобиль грузоподъёмностью 1 тонна 900 кг сделал два рейса, будучи полностью загруженным. Сколько рейсов нужно сделать второму автомобилю, чтобы перевести весь оставшийся груз?

Запиши решение и ответ.

11. Бусы составлены из розовых и фиолетовых бусинок, которые идут в таком порядке: одна розовая, две фиолетовых, три розовых, четыре фиолетовых, пять розовых, шесть фиолетовых и т. д., всего 55 бусинок.

Назовите цвет двадцать шестой по счёту бусинки.

12. Семён приехал в Сыктывкар в понедельник и планирует пробыть там до субботы. Он хочет встретиться с другом, пойти в музей и посетить театр, причём каждому из этих дел он хочет посвятить отдельный день. Музей работает по вторникам и четвергам, спектакли в театре идут только по средам, а друг свободен в среду и четверг.

Назовите место, куда пойдёт Семён за день до встречи с другом.

13. Из трёх кубиков сложили постройку. Если посмотреть на неё в направлении по стрелке, то будет видна фигура, состоящая из трёх квадратов (рис. 1). Из 27 таких же кубиков сложили куб (рис. 2). Затем с этого куба сняли несколько кубиков (рис. 3). Какая фигура будет видна, если смотреть на получившуюся постройку в направлении по стрелке?

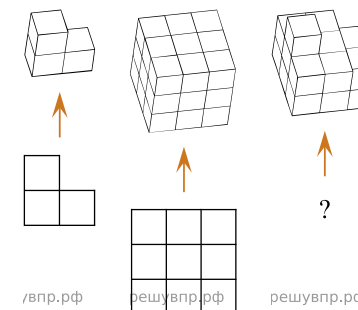


Рис. 1 Рис. 2 Рис. 3

Изобрази эту фигуру на клетчатом поле. Один кубик следует изображать одной клеткой.

14. На новогодние праздники мама купила детям шоколадки трёх видов: большие, средние и маленькие. Каждая большая шоколадка стоила 60 рублей, средняя — 40 рублей, а маленькая — 20 рублей. За 15 шоколадок мама заплатила 800 рублей. Какое наименьшее число больших шоколадок могла купить мама?