

ВПР по математике 4 класс 2018 год. Вариант 20.

При выполнении заданий с кратким ответом впишите в поле для ответа цифру, которая соответствует номеру правильного ответа, или число, слово, последовательность букв (слов) или цифр. Ответ следует записывать без пробелов и каких-либо дополнительных символов. Дробную часть отделяйте от целой десятичной запятой. Единицы измерений писать не нужно.

Если вариант задан учителем, вы можете вписать или загрузить в систему ответы к заданиям с развернутым ответом. Учитель увидит результаты выполнения заданий с кратким ответом и сможет оценить загруженные ответы к заданиям с развернутым ответом. Выставленные учителем баллы отобразятся в вашей статистике.

1. Найдите значение выражения $76 : 2$.

2. Найдите значение выражения $(17 + 13) \cdot 8 - 3$.

3. Папа с сыном пришли в парк с аттракционами и купили два билета на автодром: взрослый и детский, а также детский билет в комнату смеха. Цены на билеты показаны на рисунке. Сколько рублей они заплатили за все билеты?

<p>Колесо обозрения</p> <p>Детский.....60 руб.</p> <p>Взрослый.....80 руб.</p>	<p>Американские горки</p> <p>Детский.....100 руб.</p> <p>Взрослый.....120 руб.</p>	<p>Лабиринт</p> <p>Детский.....60 руб.</p> <p>Взрослый.....80 руб.</p>
<p>Автодром</p> <p>Детский.....70 руб.</p> <p>Взрослый.....90 руб.</p>	<p>Карусель</p> <p>Детский.....50 руб.</p> <p>Взрослый.....70 руб.</p>	<p>Комната страха</p> <p>Детский.....50 руб.</p> <p>Взрослый.....70 руб.</p>
<p>Батут</p> <p>Детский.....50 руб.</p> <p>5 мин.</p>	<p>Паровозик</p> <p>Детский.....50 руб.</p>	<p>Комната смеха</p> <p>Детский.....60 руб.</p> <p>Взрослый.....100 руб.</p>

решувпр.рф

Запиши решение и ответ.

4.

На рисунке показан календарь на февраль 2008 года. На какое число приходилась первая среда марта 2008 года?

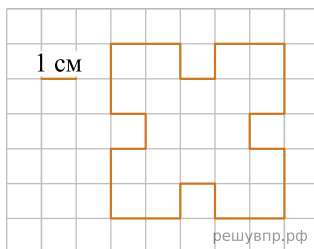
пн	вт	ср	чт	пт	сб	вс
				1	2	3
4	5	6	7	8	9	10
11	12	13	14	15	16	17
18	19	20	21	22	23	24
25	26	27	28	29		

Февраль

5. На клетчатой бумаге нарисована фигура. Сторона клетки равна 1 см.

Найди площадь этой фигуры. Ответ дай в кв. см.

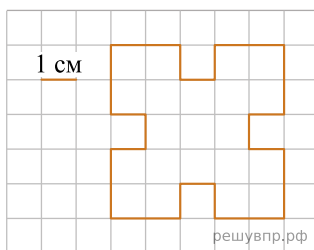
В ответе писать единицы измерения не нужно.



решувпр.рф

6. На клетчатой бумаге нарисована фигура. Сторона клетки равна 1 см.

Нарисуй по клеточкам прямоугольник, площадь которого равна площади изображённой фигуры.



7. Пятиклассники занимаются в школьных спортивных секциях. В таблице показано, сколько пятиклассников занимается в каждой секции. Ответь на вопросы.

Класс	Волейбольная	Баскетбольная	Футбольная
5 «А»	1	5	5
5 «Б»	5	2	4
5 «В»	4	3	3
5 «Г»	3	4	8

Сколько учащихся из 5 «Б» занимается в баскетбольной секции?

8. Пятиклассники занимаются в школьных спортивных секциях. В таблице показано, сколько пятиклассников занимается в каждой секции. Ответь на вопросы.

Класс	Волейбольная	Баскетбольная	Футбольная
5 «А»	1	5	5
5 «Б»	5	2	4
5 «В»	4	3	3
5 «Г»	3	4	8

Сколько пятиклассников занимается в футбольной секции?

9. Найди значение выражения $760 : 4 - 192 : 6$.

10. Пять килограммов варенья разложили по маленьким и большим банкам. В каждую большую банку помещается 500 г варенья, а в маленькую — 200 г. Получилось 4 большие банки варенья. Сколько понадобилось маленьких банок?


11. Витя, Катя и Света съели вместе 17 конфет. Больше 9 конфет не съел никто. Витя съел больше всех конфет, а Катя съела на 3 конфеты больше, чем Света.

Сколько конфет съел Витя?

12. Витя, Катя и Света съели вместе 17 конфет. Больше 9 конфет не съел никто. Витя съел больше всех конфет, а Катя съела на 3 конфеты больше, чем Света.

Сколько конфет съела Света?

13. Марина с книгой в руках подошла к зеркалу и увидела в отражении название книги. Как называется книга?



14. Коля вырезал из бумаги несколько шестиугольников и семиугольников. Всего у вырезанных фигурок 40 вершин. Сколько шестиугольников вырезал Коля?

Запиши решение и ответ.