

ВПР по математике 4 класс 2018 год. Вариант 17.

При выполнении заданий с кратким ответом впишите в поле для ответа цифру, которая соответствует номеру правильного ответа, или число, слово, последовательность букв (слов) или цифр. Ответ следует записывать без пробелов и каких-либо дополнительных символов. Дробную часть отделяйте от целой десятичной запятой. Единицы измерений писать не нужно.

Если вариант задан учителем, вы можете вписать или загрузить в систему ответы к заданиям с развернутым ответом. Учитель увидит результаты выполнения заданий с кратким ответом и сможет оценить загруженные ответы к заданиям с развернутым ответом. Выставленные учителем баллы отобразятся в вашей статистике.

1. Найдите значение выражения $72 : 2$.
2. Найдите значение выражения $(9 + 12) \cdot 9 - 6$.

3. Папа с сыном пришли в парк с аттракционами и купили два билета на американские горки: взрослый и детский, а также билет на паровозик. Цены на билеты показаны на рисунке. Сколько рублей они заплатили за все билеты?

<p>Колесо обозрения Детский.....60 руб. Взрослый.....80 руб.</p>	<p>Американские горки Детский.....100 руб. Взрослый.....120 руб.</p>	<p>Лабиринт Детский.....60 руб. Взрослый.....80 руб.</p>
<p>Автодром Детский.....70 руб. Взрослый.....90 руб.</p>	<p>Карусель Детский.....50 руб. Взрослый.....70 руб.</p>	<p>Комната страха Детский.....50 руб. Взрослый.....70 руб.</p>
<p>Батут Детский.....50 руб. 5 мин.</p>	<p>Паровозик Детский.....50 руб.</p>	<p>Комната смеха Детский.....60 руб. Взрослый.....100 руб.</p>

решувпр.рф

Запиши решение и ответ.

4.

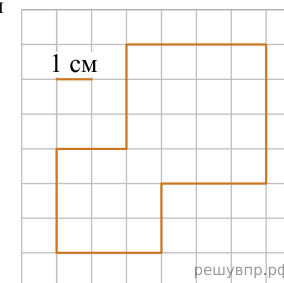
На рисунке показан календарь на сентябрь 2009 года. На какое число пришлось первая среда октября 2009 года? *В ответе укажите число.*

пн	вт	ср	чт	пт	сб	вс
	1	2	3	4	5	6
7	8	9	10	11	12	13
14	15	16	17	18	19	20
21	22	23	24	25	26	27
28	29	30		решувпр.рф		

Сентябрь

5. На клетчатой бумаге нарисована фигура. Сторона клетки равна 1 см.

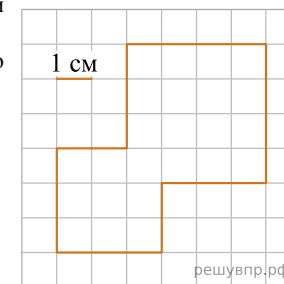
Найди площадь этой фигуры. Ответ дай в кв. см.
В ответе писать единицы измерения не нужно.



решувпр.рф

6. На клетчатой бумаге нарисована фигура. Сторона клетки равна 1 см.

Нарисуй по клеточкам прямоугольник, площадь которого равна площади изображённой фигуры.



решувпр.рф

7. Пятиклассники занимаются в школьных спортивных секциях. В таблице показано, сколько пятиклассников занимается в каждой секции. Ответь на вопросы.

Класс	Волейбольная	Баскетбольная	Футбольная
5 «А»	3	5	6
5 «Б»	6	2	4
5 «В»	8	4	5
5 «Г»	6	3	7

Сколько учащихся из 5 «Б» занимается в футбольной секции?

8. Пятиклассники занимаются в школьных спортивных секциях. В таблице показано, сколько пятиклассников занимается в каждой секции. Ответь на вопросы.

Класс	Волейбольная	Баскетбольная	Футбольная
5 «А»	3	5	6
5 «Б»	6	2	4
5 «В»	8	4	5
5 «Г»	6	3	7

Сколько всего пятиклассников занимается в баскетбольной секции?

9. Найди значение выражения $1050 : 7 - 115 : 5$.

10. Пять килограммов варенья разложили по маленьким и большим банкам. В каждую большую банку помещается 300 г варенья, а в маленькую — 200 г. Получилось 6 больших банок варенья. Сколько понадобилось маленьких банок?


11. Илья, Кирилл и Лена вместе съели 16 конфет. Больше 9 конфет не съел никто. Илья съел больше всех конфет, а Лена съела на 2 конфеты больше, чем Кирилл.

Сколько конфет съел Илья?

12. Илья, Кирилл и Лена вместе съели 16 конфет. Больше 9 конфет не съел никто. Илья съел больше всех конфет, а Лена съела на 2 конфеты больше, чем Кирилл.

Сколько конфет съела Лена?

13. Вова с книгой в руках подошёл к зеркалу и увидел в отражении название книги. Как называется книга?



14. Оля вырезала из бумаги несколько шестиугольников и семиугольников. Всего у вырезанных фигурок 32 вершины. Сколько семиугольников вырезала Оля? Запиши решение и ответ.