

ВПР по математике 4 класс 2018 год. Вариант 14.

При выполнении заданий с кратким ответом впишите в поле для ответа цифру, которая соответствует номеру правильного ответа, или число, слово, последовательность букв (слов) или цифр. Ответ следует записывать без пробелов и каких-либо дополнительных символов. Дробную часть отделяйте от целой десятичной запятой. Единицы измерений писать не нужно.

Если вариант задан учителем, вы можете вписать или загрузить в систему ответы к заданиям с развернутым ответом. Учитель увидит результаты выполнения заданий с кратким ответом и сможет оценить загруженные ответы к заданиям с развернутым ответом. Выставленные учителем баллы отобразятся в вашей статистике.

1. Найдите значение выражения $38 \cdot 2$.
2. Найдите значение выражения $21 - 12 : (13 - 9)$.

3. В магазине продаются кондитерские изделия в пачках. На рисунке показаны цены. Сколько всего рублей надо заплатить за две пачки печенья «Мария» и одну пачку слоёных десертов?

Овсяное печенье 64 руб. 	Миндальное печенье 74 руб. 	Печенье "Курабье" 131 руб. 
Печенье "Юбилейное" 24 руб. 	Печенье "Мария" 34 руб. 	Зефир 93 руб. 
Крекеры 28 руб. 	Слоёные десерты 128 руб. 	Галеты 46 руб. 

Запиши решение и ответ.

4. На рисунке показан календарь на октябрь 2014 года. На какое число пришёлся первый четверг ноября 2014 года?

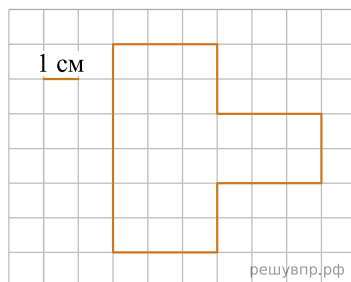
пн	вт	ср	чт	пт	сб	вс
		1	2	3	4	5
6	7	8	9	10	11	12
13	14	15	16	17	18	19
20	21	22	23	24	25	26
27	28	29	30	31		

Октябрь

5. На клетчатой бумаге нарисована фигура. Сторона клетки равна 1 см.

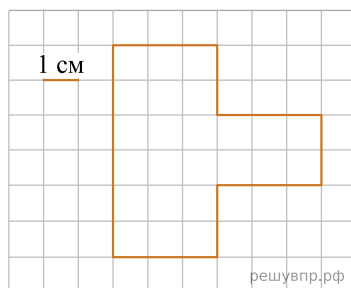
Найди периметр этой фигуры. Ответ дай в сантиметрах.

В ответе писать единицы измерения не нужно.



6. На клетчатой бумаге нарисована фигура. Сторона клетки равна 1 см.

Нарисуй по клеточкам квадрат, периметр которого равен периметру этой фигуры.



7. Пятиклассники сравнивали свои четвертные отметки. Они записали в таблицу, сколько у кого троек, четвѐрок и пятѐрок. Ответь на вопросы.

	«3»	«4»	«5»
Серѐжа	0	3	7
Настя	1	4	5
Рита	1	3	6
Костя	2	4	4

Сколько четвѐрок у Риты?

8. Пятиклассники сравнивали свои четвертные отметки. Они записали в таблицу, сколько у кого троек, четвѐрок и пятѐрок. Ответь на вопросы.

	«3»	«4»	«5»
Серѐжа	0	3	7
Настя	1	4	5
Рита	1	3	6
Костя	2	4	4

У кого из них ровно половина всех отметок — пятѐрки?

9. Найди значение выражения $1780 : 4 + 723 : 3$.

10. Семь килограммов мороженого упаковали в большие и маленькие пачки. Большая пачка весит 600 г, а маленькая — 400 г. Получилось 4 маленьких пачки. Сколько понадобилось больших пачек?

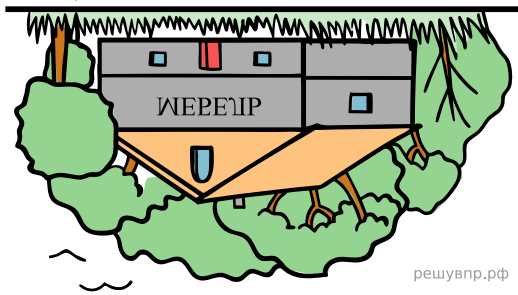
11. Вера, Игорь и Миша ловили окуней. Игорь поймал больше окуней, чем Вера. Вместе Игорь и Вера поймали столько же окуней, сколько поймал Миша. Меньше двух окуней не поймал никто из них, а все вместе они поймали 12 окуней.

Сколько окуней поймал Миша?

12. Вера, Игорь и Миша ловили окуней. Игорь поймал больше окуней, чем Вера. Вместе Игорь и Вера поймали столько же окуней, сколько поймал Миша. Меньше двух окуней не поймал никто из них, а все вместе они поймали 12 окуней.

Сколько окуней поймал Игорь?

13. Паша смотрит в реку и видит там отражение вывески на здании. Что написано на вывеске?



14. Лена вырезала из бумаги несколько пятиугольников и семиугольников. Всего у вырезанных фигурок 39 вершин. Сколько пятиугольников вырезала Лена? Запиши решение и ответ.