

ВПР по математике 4 класс 2018 год. Вариант 12.

При выполнении заданий с кратким ответом впишите в поле для ответа цифру, которая соответствует номеру правильного ответа, или число, слово, последовательность букв (слов) или цифр. Ответ следует записывать без пробелов и каких-либо дополнительных символов. Дробную часть отделяйте от целой десятичной запятой. Единицы измерений писать не нужно.

Если вариант задан учителем, вы можете вписать или загрузить в систему ответы к заданиям с развернутым ответом. Учитель увидит результаты выполнения заданий с кратким ответом и сможет оценить загруженные ответы к заданиям с развернутым ответом. Выставленные учителем баллы отобразятся в вашей статистике.

1. Найдите значение выражения $88 + 21$.

2. Найдите значение выражения $12 + (20 + 15) : 5$.

3. В магазине продаются кондитерские изделия в пачках. На рисунке показаны цены. Сколько всего рублей надо заплатить за две пачки печенья «Юбилейное» и одну пачку галет?

Овсяное печенье 64 руб. 	Миндальное печенье 74 руб. 	Печенье "Курабье" 131 руб. 
Печенье "Юбилейное" 24 руб. 	Печенье "Мария" 34 руб. 	Зефир 93 руб. 
Крекеры 28 руб. 	Слоёные десерты 128 руб. 	Галеты 46 руб. 

Запиши решение и ответ.

4.

На рисунке показан календарь на июнь 2012 года. На какое число пришёлся первый четверг июля 2012 года?

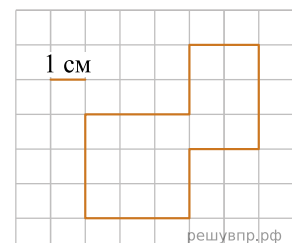
пн	вт	ср	чт	пт	сб	вс
				1	2	3
4	5	6	7	8	9	10
11	12	13	14	15	16	17
18	19	20	21	22	23	24
25	26	27	28	29	30	рф

Июнь

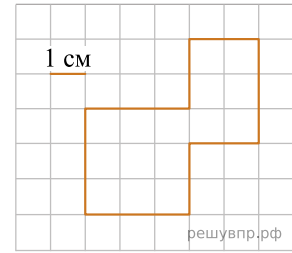
5. На клетчатой бумаге нарисована фигура. Сторона клетки равна 1 см.

Найди периметр этой фигуры. Ответ дай в сантиметрах.

В ответе писать единицы измерения не нужно.



6. На клетчатой бумаге нарисована фигура. Сторона клетки равна 1 см. Нарисуй по клеточкам квадрат, периметр которого равен периметру этой фигуры.



7. Подруги прочитали несколько книг из списка литературы, заданной на лето. Количество прочитанных книг по месяцам указано в таблице. Ответ на вопросы.

	Июнь	Июль	Август
Катя	3	1	2
Маша	2	4	1
Алиса	2	4	2
Вика	3	2	4

Сколько книг прочитала Маша в июле?

8. Подруги прочитали несколько книг из списка литературы, заданной на лето. Количество прочитанных книг по месяцам указано в таблице. Ответ на вопросы.

	Июнь	Июль	Август
Катя	3	1	2
Маша	2	4	1
Алиса	2	4	2
Вика	3	2	4

Кто из подруг за лето прочитал книг больше всех?

9. Найди значение выражения $190 \cdot 5 - 95 \cdot 3$.

10. Шесть килограммов мёда разлили в большие и маленькие банки. В большую банку помещается 600 г мёда, а в маленькую — 400 г. Было заполнено 6 больших банок. Сколько потребовалось маленьких банок?

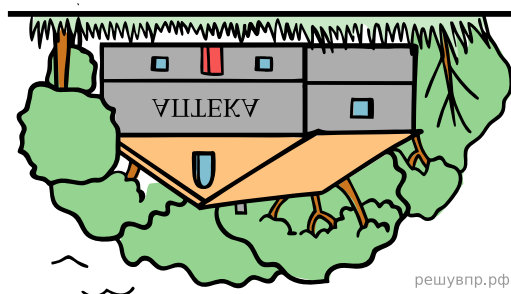
11. Саша, Дима и Ира ловили окуней. Саша поймал больше окуней, чем Ира. Дима поймал столько же окуней, сколько Саша и Ира вместе. Меньше четырёх окуней не поймал никто из них, а все вместе они поймали 18 окуней.

Сколько окуней поймал Дима?

12. Саша, Дима и Ира ловили окуней. Саша поймал больше окуней, чем Ира. Дима поймал столько же окуней, сколько Саша и Ира вместе. Меньше четырёх окуней не поймал никто из них, а все вместе они поймали 18 окуней.

Сколько окуней поймала Ира?

13. Дима смотрит в реку и видит там отражение вывески на здании. Что написано на вывеске?



14. Юля вырезала из бумаги несколько пятиугольников и семиугольников. Всего у вырезанных фигурок 38 вершин. Сколько семиугольников вырезала Юля?

Запиши решение и ответ.