

ВПР по математике 4 класс 2018 год. Вариант 6.

При выполнении заданий с кратким ответом впишите в поле для ответа цифру, которая соответствует номеру правильного ответа, или число, слово, последовательность букв (слов) или цифр. Ответ следует записывать без пробелов и каких-либо дополнительных символов. Дробную часть отделяйте от целой десятичной запятой. Единицы измерений писать не нужно.


Если вариант задан учителем, вы можете вписать или загрузить в систему ответы к заданиям с развернутым ответом. Учитель увидит результаты выполнения заданий с кратким ответом и сможет оценить загруженные ответы к заданиям с развернутым ответом. Выставленные учителем баллы отобразятся в вашей статистике.

1. Найдите значение выражения $108 - 36$.

2. Найдите значение выражения $(26 + 18) : 2 - 7$.

3. На рисунке показаны цены на хлебобулочные изделия в магазине. Сколько всего рублей надо заплатить за три буханки «Дарницкого» и один лаваш?

Хлеб "Дарницкий" 26 руб.



Хлеб "Столичный" 25 руб.



Хлеб "Бородинский" 47 руб.



Хлеб заварной....45 руб.



Хлеб с отрубями...27 руб.




Батон нарезной.....18 руб.



Багет.....67 руб.



Лепёшка арабская 31 руб.



Лаваш армянский 48 руб.



решувпр.рф

Запиши решение и ответ.

4.

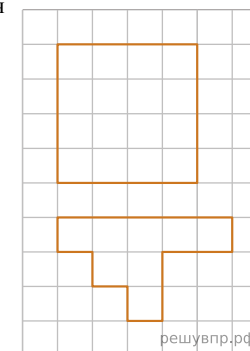
На рисунке показан календарь на ноябрь 2007 года. Каким днём недели в 2007 году было 7 декабря? *Ответ приведите в именительном падеже.*

пн	вт	ср	чт	пт	сб	вс
			1	2	3	4
5	6	7	8	9	10	11
12	13	14	15	16	17	18
19	20	21	22	23	24	25
26	27	28	29	30	явпр.рф	

Ноябрь

5. На клетчатой бумаге нарисован квадрат, а ниже — некоторая фигура. Площадь квадрата равна 32 кв. см.

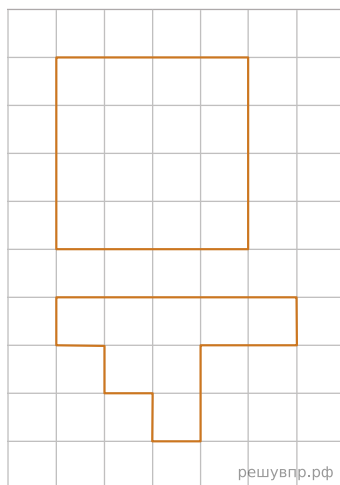
Найди площадь этой фигуры. Ответ дай в кв. см.
В ответе писать единицы измерения не нужно.



решувпр.рф

6. На клетчатой бумаге нарисован квадрат, а ниже — некоторая фигура. Площадь квадрата равна 32 кв. см.

Нарисуй по клеточкам прямоугольник, площадь которого равна 8 кв. см.



7. Четыре друга решили заняться спортивными упражнениями, а результаты — кто сколько раз подтянулся, присел и отжался — записали в таблицу. Ответь на вопросы.

	Подтягивания	Приседания	Отжимания
Саша	8	25	20
Максим	6	20	17
Илья	7	22	12
Олег	5	18	15

Сколько подтягиваний сделал Илья?

8. Четыре друга решили заняться спортивными упражнениями, а результаты — кто сколько раз подтянулся, присел и отжался — записали в таблицу. Ответь на вопросы.

	Подтягивания	Приседания	Отжимания
Саша	8	25	20
Максим	6	20	17
Илья	7	22	12
Олег	5	18	15

Сколько всего приседаний они сделали вместе?

9. Найди значение выражения $155 \cdot 4 - 575 : 5$.

10. В коробки разложили 7 кг печенья. В большую коробку помещается 500 г, а в маленькую — 300 г печенья. Было использовано 5 больших коробок. Сколько потребовалось маленьких коробок?

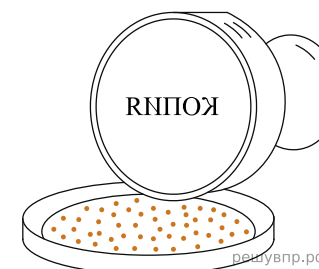
11. Перед отпуском Иван Иванович купил горные лыжи, куртку и рюкзак, потратив на эти покупки 21 000 рублей. Самая дорогая покупка стоила 12 000 рублей. Самая дешёвая покупка стоила 4000 рублей. А лыжи и куртка вместе стоили на 7000 рублей дороже, чем куртка и рюкзак вместе.

Сколько рублей стоили лыжи?

12. Перед отпуском Иван Иванович купил горные лыжи, куртку и рюкзак, потратив на эти покупки 21 000 рублей. Самая дорогая покупка стоила 12 000 рублей. Самая дешёвая покупка стоила 4000 рублей. А лыжи и куртка вместе стоили на 7000 рублей дороже, чем куртка и рюкзак вместе.

Сколько рублей стоила куртка?

13. На рисунке изображён штамп. Что будет отпечатано на бумаге при использовании этого штампа?



14. Ира вырезала из бумаги несколько пятиугольников и шестиугольников. Всего у вырезанных фигурок 38 вершин. Сколько пятиугольников вырезала Ира?
Запиши решение и ответ.