

При выполнении заданий с кратким ответом впишите в поле для ответа цифру, которая соответствует номеру правильного ответа, или число, слово, последовательность букв (слов) или цифр. Ответ следует записывать без пробелов и каких-либо дополнительных символов. Дробную часть отделяйте от целой десятичной запятой. Единицы измерений писать не нужно.

Если вариант задан учителем, вы можете вписать или загрузить в систему ответы к заданиям с развернутым ответом. Учитель увидит результаты выполнения заданий с кратким ответом и сможет оценить загруженные ответы к заданиям с развернутым ответом. Выставленные учителем баллы отобразятся в вашей статистике.

1. Найдите значение выражение  $123 \cdot 4$ .

2. Найди значение выражения  $4 + 5 \cdot (9 + 11)$ .

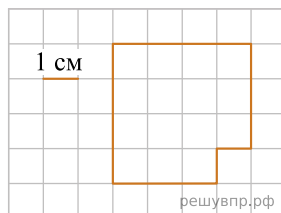
3. У Тани есть 1500 рублей, и ей нужно купить 2 кг капусты, 1 кг перца, 1 кг моркови и 2 килограмма помидоров. Какое наибольшее число лукошек клубники может купить Таня на оставшиеся деньги?



Запиши решение и ответ.


4. Электричка из Ростова-на-Дону в Краснодар отправилась в 7 часов 40 минут и прибыла в 12 часов 25 минут. Сколько времени занимает дорога из Ростова-на-Дону в Краснодар, если ехать этой электричкой? Ответ вырази в минутах.

5. На клетчатом поле со стороной клетки 1 см изображена геометрическая фигура. Найди периметр этой фигуры.



6. На клетчатом поле со стороной клетки 1 см изображён прямоугольник.

Проведи на рисунке выше прямую линию так, чтобы этот прямоугольник оказался разбит на квадрат и ещё один прямоугольник.



7. В хозяйстве тётки Ани куры, гусыни и утки несли яйца, а тётя Аня вела учёт количеству снесённых яиц. Используя таблицу, ответь на вопросы.

Дни по порядку	Куры	Гусыни	Утки
Первый день	10	4	6
Второй день	4	1	4
Третий день	9	7	7
Четвёртый день	7	4	5

Сколько яиц снесли куры в третий день?

8. Ниже приведены данные за три года о количестве дождливых дней в июне-октябре в Челябинске. Используя эти данные, ответь на вопрос.

Месяц	2010 год	2011 год	2012 год
Июнь	2	7	4
Июль	3	4	2
Август	4	8	4
Сентябрь	4	10	7
Октябрь	1	4	6

В каком месяце с июня по октябрь какого года в Челябинске было наименьшее количество дождливых дней за период с 2010 по 2012 год?

9. Найди значение выражения  $15015 : 5 - 230 \cdot 3$ .

10. Масса восьми одинаковых ящиков с черносливом равна 100 кг. Масса пустого ящика равна 500 грамм. Чему равна масса чернослива в одном ящике? Запиши решение и ответ.

11. В новогодней гирлянде 21 лампочка. Лампочки идут в таком порядке: одна красная, две синих, три красных, четыре синих и так далее. Назовите цвет семнадцатой лампочки. Ответ дайте в именительном падеже.

12. Менеджер Наталья обсуждала свою новую идею с начальником отдела продаж, юристом и программистом. Каждое из обсуждений длилось ровно 45 минут с перерывами по 15 минут между ними. Известно, что юрист приехал в офис к 10:30, а у начальника отдела продаж было важное совещание с 9:00 до 10:00. При этом Наталья смогла закончить все три обсуждения к 12:00, начав первое из них в 9:15.

Назовите должность сотрудника, с которым Наталья обсуждала свою идею в 10:55.

13. Люда написала на футболке своё имя (см. рис. 1). Затем она подошла к зеркалу. Нарисуй, как будет выглядеть отражение её имени в зеркале (рис. 2).



Рис. 1




Рис. 2

РЕШУ ВПР.РФ

14. Куртка на 700 руб. дешевле, чем пять шапок, но на 200 руб. дороже, чем две шапки. Сколько стоит шапка?  
Запиши решение и ответ.