

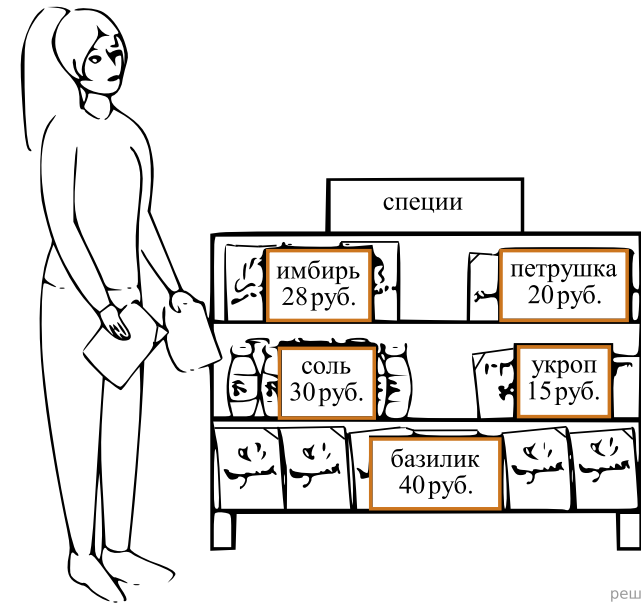
**ВПР по математике 4 класс 2023 год. Вариант 9.**

При выполнении заданий с кратким ответом впишите в поле для ответа цифру, которая соответствует номеру правильного ответа, или число, слово, последовательность букв (слов) или цифр. Ответ следует записывать без пробелов и каких-либо дополнительных символов. Дробную часть отделяйте от целой десятичной запятой. Единицы измерений писать не нужно.

Если вариант задан учителем, вы можете вписать или загрузить в систему ответы к заданиям с развернутым ответом. Учитель увидит результаты выполнения заданий с кратким ответом и сможет оценить загруженные ответы к заданиям с развернутым ответом. Выставленные учителем баллы отобразятся в вашей статистике.

1. Вычисли:  $47 + 261$ .
2. Найдите значение выражения  $(39 + 24) : 3 - 9$ .

3. Рассмотрите рисунок и ответьте на вопрос: сколько рублей стоит покупка, состоящая из четырёх пакетов укропа и одной банки соли?

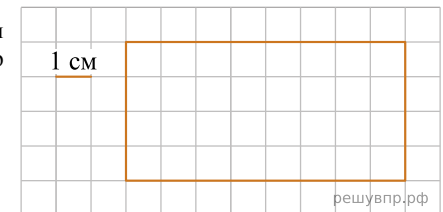


решувпр.рф

Запиши решение и ответ.

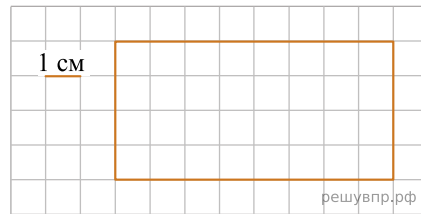
4. В 2050 году 30 апреля — суббота. Какой день недели 12 апреля?
- 5.

Ниже на клетчатом поле со стороной клетки 1 см изображён прямоугольник. Найди периметр этого прямоугольника. Ответ дайте в сантиметрах.



решувпр.рф

6. На клеточном поле рядом с прямоугольником нарисуй квадрат, периметр которого в 3 раза меньше периметра данного прямоугольника.



7. Кассир в кинотеатре отмечал в таблице количество проданных билетов на различные кинофильмы. Используя данные этой таблицы, ответь на вопросы.

Название кинофильма	15 июня	16 июня	17 июня
«Книга джунглей»	91	200	39
«Джентльмены удачи»	109	144	98
«Приключения Электроника»	125	56	102
«Приключения Буратино»	75	25	61

Сколько билетов было продано 16 июня на кинофильм «Книга джунглей»?

8. Кассир в кинотеатре отмечал в таблице количество проданных билетов на различные кинофильмы. Используя данные этой таблицы, ответь на вопросы.

Название кинофильма	15 июня	16 июня	17 июня
«Книга джунглей»	91	200	39
«Джентльмены удачи»	109	144	98
«Приключения Электроника»	125	56	102
«Приключения Буратино»	75	25	61

На какой из кинофильмов было продано меньше всего билетов за эти три дня?

9. Найди значение выражения  $197 + (2102 - 1987) \cdot 4$ .

10. Даша получила на день рождения посылку, вес которой был равен 3 кг. В посылке было три куклы одинакового веса, а также шесть коробок конфет, каждая из которых весила 300 г. Сколько весила одна кукла? Запиши решение и ответ.

11. Вера, Игорь и Миша ловили окуней. Игорь поймал больше окуней, чем Вера. Вместе Игорь и Вера поймали столько же окуней, сколько поймал Миша. Меньше двух окуней не поймал никто из них, а все вместе они поймали 12 окуней.

Сколько окуней поймал Миша?

12. Вера, Игорь и Миша ловили окуней. Игорь поймал больше окуней, чем Вера. Вместе Игорь и Вера поймали столько же окуней, сколько поймал Миша. Меньше двух окуней не поймал никто из них, а все вместе они поймали 12 окуней.

Сколько окуней поймал Игорь?

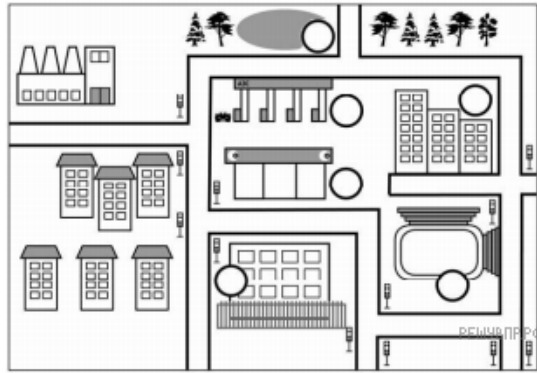
13. Артём написал сочинение «Поездка в соседний город» и начертил план этого города.

*В воскресенье мы с мамой решили попутешествовать и поехали в соседний город, чтобы навестить мамину подругу Иру. Я уснул как только мы отъехали от дома. Проснулся, когда мы въехали в город, и стал смотреть по сторонам.*

*Слева была больница за высоким забором, а справа — стадион, но мы быстро проехали его, и я не заметил, бежал ли там кто-то. Мы повернули налево и проехали мимо большого магазина. Мама сказала, что мы приехали раньше, чем планировали, и стоит сделать круг по городу, чтобы осмотреться. Тут улица упёрлась в квартал из четырёхэтажных домов. Мама свернула направо, так как дороги прямо не было, а налево был выезд из города. Мы поехали направо, увидев магазин с другой стороны. За магазином оказалась автозаправка, где стояли в очереди машины. За заправкой виднелся лес. Мы проехали вдоль большого озера. За озером был перекрёсток, но мы проехали прямо и увидели справа большие красивые дома. Прежде чем подъехать к подъезду тёти Иры, нам пришлось ещё два раза повернуть направо. «Вот и приехали», — сказала мама. Мы взяли из машины торт в картонной коробке и зашли в подъезд номер два.*

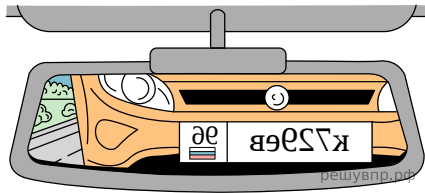
Рассмотри план города. Пользуясь описанием, которое дал Артём, отметь на плане цифрами шесть объектов.

1. Магазин.
2. Автозаправка.
3. Дом, где живёт мама подруга Ира.
4. Больница.
5. Стадион.
6. Озеро.



14. Водитель видит в зеркале заднего вида автомобиль, идущий сзади. Номер автомобиля тоже отражается в зеркале.

Какой номер у этого автомобиля, если смотреть на него не в зеркало?



15. У Максима есть игрушечные солдатики. Сначала он построил их в шеренги по 10 солдатиков, у него остались 4 лишних. Тогда Максим построил солдатиков в шеренги по 6, и лишних не осталось. Сколько солдатиков у Максима, если их больше 60, но меньше 100? Запиши решение и ответ.