

ВПР по математике 4 класс 2023 год. Вариант 6.

При выполнении заданий с кратким ответом впишите в поле для ответа цифру, которая соответствует номеру правильного ответа, или число, слово, последовательность букв (слов) или цифр. Ответ следует записывать без пробелов и каких-либо дополнительных символов. Дробную часть отделяйте от целой десятичной запятой. Единицы измерений писать не нужно.

Если вариант задан учителем, вы можете вписать или загрузить в систему ответы к заданиям с развернутым ответом. Учитель увидит результаты выполнения заданий с кратким ответом и сможет оценить загруженные ответы к заданиям с развернутым ответом. Выставленные учителем баллы отобразятся в вашей статистике.

1. Вычисли: $293 - 62$.

2. Вычисли: $7 + 95 : 5 + 14$.

3. Рассмотрите рисунок и ответьте на вопрос: сколько рублей сдачи получит покупатель, расплатившийся за 1 кг груш и 1 кг персиков купюрой в 500 руб.?

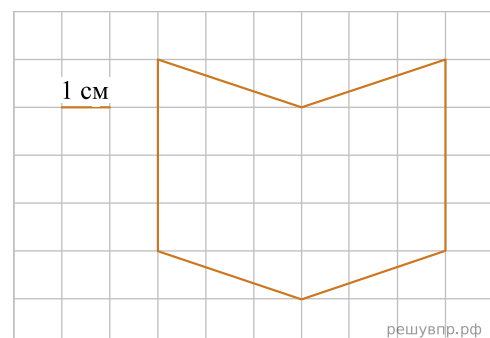


Запиши решение и ответ.

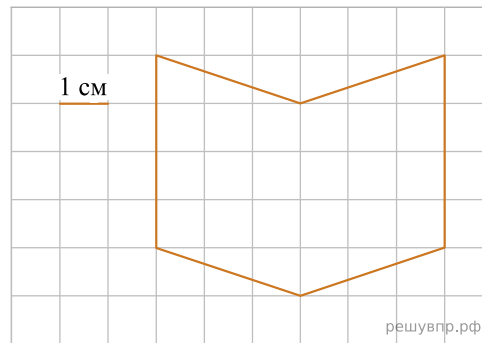
4. Каждая серия мультфильма длится одно и то же число минут. Света посмотрела две серии мультфильма без перерыва. Мультфильм начался в 17 ч 25 мин. и закончился в 18 ч 15 мин. Сколько минут длится каждая серия?

5.

На клетчатой бумаге нарисована фигура. Сторона клетки равна 1 см. Найди площадь этой фигуры. Ответ дай в квадратных сантиметрах.



6. Нарисуй по клеточкам прямоугольник, площадь которого равна площади изображённой фигуры.



7. Среди школьников провели опрос «Твой любимый вид спорта». Результаты опроса показаны в таблице. Ответь на вопросы.

Класс	Бадминтон	Карате	Бег на коньках	Футбол
6-й класс	3	2	7	10
7-й класс	7	4	3	5
8-й класс	5	7	4	6

В каком классе больше всего школьники любят бег на коньках?

8. Среди школьников провели опрос «Твой любимый вид спорта». Результаты опроса показаны в таблице. Ответь на вопросы.

Класс	Бадминтон	Карате	Бег на коньках	Футбол
6-й класс	3	2	7	10
7-й класс	7	4	3	5
8-й класс	5	7	4	6

Сколько всего школьников этих классов назвали своим любимым видом спорта бадминтон?

9. Найди значение выражения $(209 + 117) \cdot 16 + 39$.

10. Шесть килограммов мёда разлили в большие и маленькие банки. В большую банку помещается 400 г мёда, а в маленькую — 300 г. Было заполнено 6 больших банок. Сколько потребовалось маленьких банок?

11. Кирилл, Лена и Саша ловили окуней. Кирилл поймал окуней меньше, чем Лена. Вместе Кирилл и Лена поймали столько же окуней, сколько поймал Саша. Меньше четырёх окуней не поймал никто из них, а вместе они поймали 20 окуней.

Сколько окуней поймал Саша?

12. Кирилл, Лена и Саша ловили окуней. Кирилл поймал окуней меньше, чем Лена. Вместе Кирилл и Лена поймали столько же окуней, сколько поймал Саша. Меньше четырёх окуней не поймал никто из них, а вместе они поймали 20 окуней.

Сколько окуней поймала Лена?

13. Таня написала сочинение «Поездка в соседний город» и начертила план этого города.

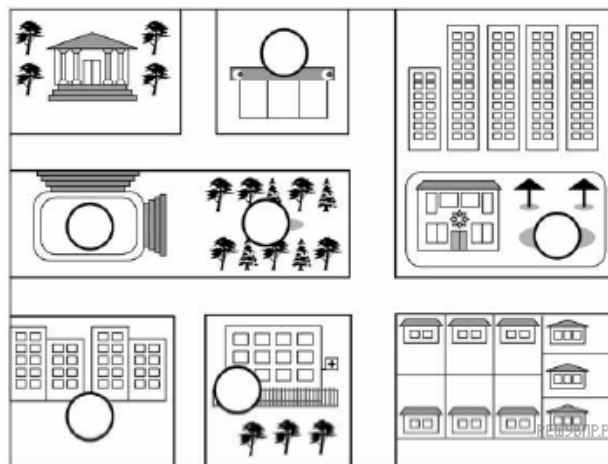
На каникулах мы с моими родителями поехали на машине в соседний город в гости к папиному другу дяде Ване. Всю дорогу я смотрела в окно.

Когда мы въехали в город, слева вдоль дороги тянулись новые высокие дома. Большие 10 этажей, точно я сосчитать не успела. Папа сказал, что это новый жилой район. Справа, напротив многоэтажек, был магазин. За магазином был перекрёсток — направо уходила дорога, а налево поворота не было. Папа сказал, что это Т-образный перекрёсток. Но мы поехали прямо. Справа оказался парк, слева двухэтажное здание, а рядом с ним — очень красивая детская площадка. Вечером мы пошли туда гулять, и я смогла покачаться на качелях и покататься с горок.

На следующем перекрёстке мы повернули направо и проехали мимо городской поликлиники. Затем был снова Т-образный перекрёсток, а за ним стадион. Там спортсмены бегали по беговой дорожке. Наверно, тренировались. Напротив стадиона ещё один жилой квартал. Оказалось, что нам как раз туда и нужно. В одном из домов живёт дядя Ваня с семьёй. Они все вышли встречать нас. Мы увидели их прямо из машины, и я замахала рукой.

Рассмотри план города. Пользуясь описанием, которое дала Таня, отметь на плане цифрами шесть объектов.

1. Жилой квартал, в котором находится дом дяди Вани.
2. Поликлиника.
3. Стадион.
4. Парк.
5. Магазин.
6. Детская площадка.



14. На столбе висела табличка (рис. 1). Верхний винт, державший табличку, выпал, и табличка перевернулась. Нарисуй, как будет выглядеть перевернутая табличка с надписью (рис. 2).

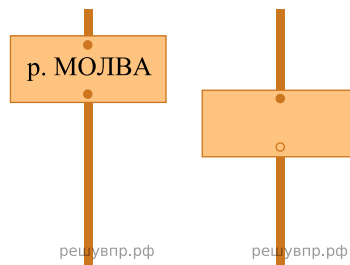


Рис. 1

Рис. 2

15. В коробке лежат синие, красные и зелёные карандаши. Всего их 15 штук. Синих карандашей в 5 раз больше, чем зелёных, а красных меньше, чем синих. Сколько в коробке красных карандашей? Запиши решение и ответ.