

ВПР по математике 4 класс 2023 год. Вариант 4.

При выполнении заданий с кратким ответом впишите в поле для ответа цифру, которая соответствует номеру правильного ответа, или число, слово, последовательность букв (слов) или цифр. Ответ следует записывать без пробелов и каких-либо дополнительных символов. Дробную часть отделяйте от целой десятичной запятой. Единицы измерений писать не нужно.

Если вариант задан учителем, вы можете вписать или загрузить в систему ответы к заданиям с развернутым ответом. Учитель увидит результаты выполнения заданий с кратким ответом и сможет оценить загруженные ответы к заданиям с развернутым ответом. Выставленные учителем баллы отобразятся в вашей статистике.

1. Вычисли: $14 \cdot 4$.
2. Найдите значение выражения $(15 + 9) \cdot 9 - 7$.
3. На садовом рынке продаются саженцы деревьев и кустарников (см. рис.).

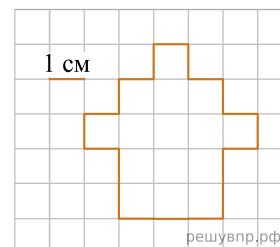
Яблоня 420 руб.		Малина 280 руб.
Груша 350 руб.		Крыжовник 390 руб.
Слива 570 руб.		Красная смородина 200 руб.
Вишня 370 руб.		Чёрная смородина 250 руб.
Черешня 490 руб.		

Сколько всего рублей надо заплатить за шесть кустов красной смородины и одну грушу? Запиши решение и ответ.

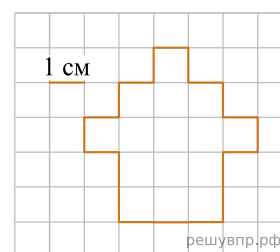
4. Друзья начали собирать пазл в 17 часов 25 минут и собирали его, не отвлекаясь, в течение 55 минут. Сколько было времени, когда они закончили?

Ответ: ч мин.

5. Ниже на клетчатом поле со стороной клетки 1 см изображена фигура. Найди площадь этой фигуры.



6. На клетчатом поле рядом с фигурой нарисуй прямоугольник, площадь которого равна площади данной фигуры.



7. Среди школьников провели опрос «Твой любимый вид спорта». Результаты опроса показаны в таблице. Ответь на вопросы.

Класс	Бокс	Гимнастика	Велогонки	Волейбол
6-й класс	1	5	9	8
7-й класс	5	6	7	2
8-й класс	3	8	6	5

В каком классе больше всего школьники любят волейбол?

8. Среди школьников провели опрос «Твой любимый вид спорта». Результаты опроса показаны в таблице. Ответь на вопросы.

Класс	Бокс	Гимнастика	Велогонки	Волейбол
6-й класс	1	5	9	8
7-й класс	5	6	7	2
8-й класс	3	8	6	5

Сколько всего школьников этих классов назвали своим любимым видом спорта гимнастику?

9. Найди значение выражения $235 \cdot 3 - 82 \cdot 5$.

10. На изготовление одного пододеяльника требуется 4 м 60 см полотна, а на одну наволочку — 80 см полотна. Всего было израсходовано 70 м полотна. Пододеяльников сшили 10 штук. Сколько сшили наволочек?

Запиши решение и ответ.

11. В конце учебного года Максим сдавал экзамены по математике, истории, физике и русскому языку. Экзамен по истории был вторым по счёту, а по русскому языку — последним. Повторять теорию к экзамену по физике Максим начал на следующий день после того, как успешно сдал математику.

Какой экзамен был у Максима первым?

12. В конце учебного года Максим сдавал экзамены по математике, истории, физике и русскому языку. Экзамен по истории был вторым по счёту, а по русскому языку — последним. Повторять теорию к экзамену по физике Максим начал на следующий день после того, как успешно сдал математику.

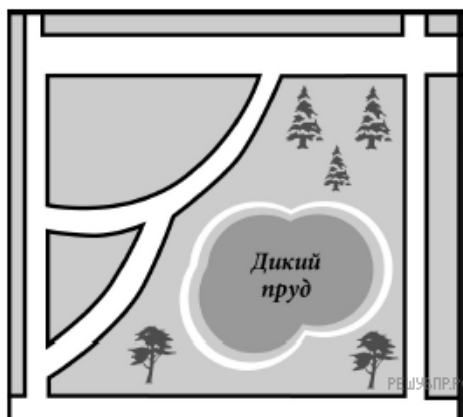
Какой экзамен Максим сдавал сразу после экзамена по истории?

13. Журналист написал очерк о парке и новых кварталах в его родном городке.

Любимое место отдыха наших горожан — парк, в центре которого раскинулся пруд с романтическим названием Дикий. Рядом с парком недавно появились два новых жилых квартала. Если посмотреть на план города, то видно, что новые кварталы треугольные. Квартал поменьше — он называется «Парковый» — ограничен прямой как стрела улицей Полевой, а также двумя улочками поменьше — ул. Швейной и ул. Прудовой. Обе улочки старые и узкие, но при строительстве новых домов их привели в порядок и заасфальтировали. Прудовая длиннее Швейной. Она позволяет объехать перекрёсток Полевой и Широкой, где всё чаще скапливаются автомобильные пробки.

В планах мэрии города продлить Полевую улицу на юг к будущей застройке. Сейчас Полевая заканчивается, упираясь в ул. Ельскую. Если свернуть с Полевой на Ельскую налево, то слева вы снова увидите парк и Дикий пруд, а затем будет поворот на улицу со смешным названием Воробей. Откуда взялось такое птичье название, никто сейчас уже не помнит. Улица Воробей выведет вас опять на ул. Широкую, где и завершится ваше путешествие вокруг Дикого пруда.

Прочти очерк и рассмотри план. Пользуясь описанием, которое дал журналист, надпиши названия всех улиц на плане.



14. На столе лежит штамп (см. рис.). Напиши, какое слово отпечатается на бумаге, если к ней приложить этот штамп.



15. Игорь вырезал из бумаги несколько пятиугольников и шестиугольников. Всего у вырезанных фигурок 28 вершин. Сколько пятиугольников вырезал Игорь?
Запиши решение и ответ.