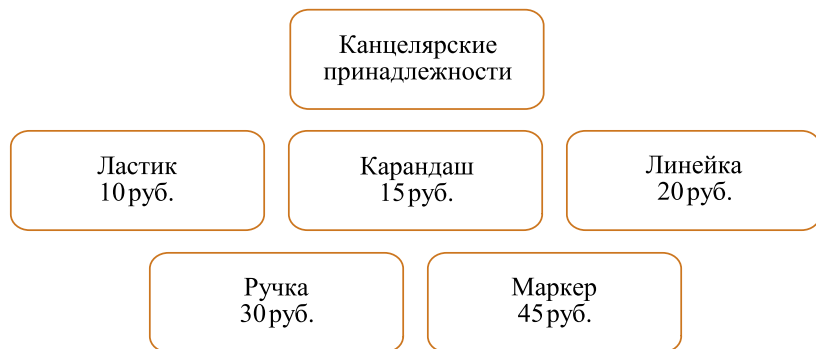


ВПР по математике 4 класс 2023 год. Вариант 2.

При выполнении заданий с кратким ответом впишите в поле для ответа цифру, которая соответствует номеру правильного ответа, или число, слово, последовательность букв (слов) или цифр. Ответ следует записывать без пробелов и каких-либо дополнительных символов. Дробную часть отделяйте от целой десятичной запятой. Единицы измерений писать не нужно.

Если вариант задан учителем, вы можете вписать или загрузить в систему ответы к заданиям с развернутым ответом. Учитель увидит результаты выполнения заданий с кратким ответом и сможет оценить загруженные ответы к заданиям с развернутым ответом. Выставленные учителем баллы отобразятся в вашей статистике.

1. Вычисли: $712 : 8$.
2. Вычисли: $95 - (62 - 58) \cdot 7$.
3. Рассмотрите рисунок и ответьте на вопрос: сколько рублей нужно будет заплатить, если купить одну ручку и четыре карандаша?

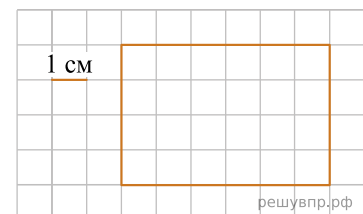


Запиши решение и ответ.

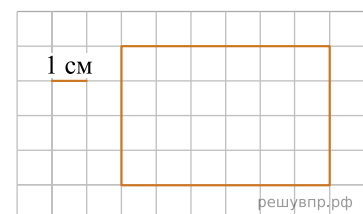
4. Вениамин с бабушкой прилетели из Москвы в Мурманск. Во сколько самолёт вылетел из Москвы, если в Мурманск он прилетел в 13 ч 30 мин, а длительность перелёта равна 2 ч 50 мин? Разницы во времени в городах нет.

Ответ: в ч мин.

5. На клеточном поле со стороной клетки 1 см изображён прямоугольник. Найди периметр этого прямоугольника. *В ответе укажите число.*



6. На клеточном поле со стороной клетки 1 см изображён прямоугольник. Найди периметр этого прямоугольника. *В ответе укажите число.*



7. У тёти Веры три коровы: Бурёнка, Красавица и Любава. Тётя Вера заносит в таблицу количество литров молока, которое она получает от каждой коровы за день. Используя таблицу, ответь на вопросы.

Какая корова дала больше всех молока за второй день?

Дни по порядку	Бурёнка	Красавица	Любава
Первый день	12	20	14
Второй день	15	22	11
Третий день	14	18	12
Четвёртый день	18	17	13

8. У тёти Веры три коровы: Бурёнка, Красавица и Любава. Тётя Вера заносит в таблицу количество литров молока, которое она получает от каждой коровы за день. Используя таблицу, ответь на вопросы.

Сколько литров молока дала Любава за все четыре дня?

Дни по порядку	Бурёнка	Красавица	Любава
Первый день	12	20	14
Второй день	15	22	11
Третий день	14	18	12
Четвёртый день	18	17	13

9. Найди значение выражения $235 \cdot 3 - 82 \cdot 5$.

10. В зал привезли оборудование: беговые дорожки и скамейки — общим весом 2 т. При этом вес беговой дорожки — 200 кг, а вес скамейки — 50 кг. Беговых дорожек привезли восемь штук. Сколько привезли скамеек?

Запиши решение и ответ.

11. У Лены есть белые, синие и красные бусины. Она нанизывает бусины на нитку в таком порядке: одну белую, две красные, три синие, снова белые, но уже четыре, потом пять красных и так далее. Последней будет нанизана белая бусина.

Какого цвета двадцатая по счёту бусина?

12. У Лены есть белые, синие и красные бусины. Она нанизывает бусины на нитку в таком порядке: одну белую, две красные, три синие, снова белые, но уже четыре, потом пять красных и так далее. Последней будет нанизана белая бусина.

Сколько на нитке всего красных бусин, если синих бусин всего 45?

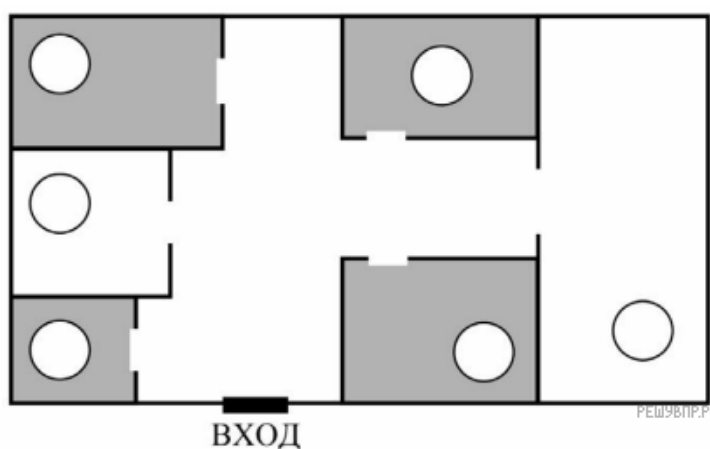
13. Алёша написал сочинение о торговом центре около его дома и нарисовал план торгового центра.

Недалеко от нашего дома расположен торговый центр. Если войти в него с улицы, то сразу слева находится терминал, папа часто там пополняет счёт моей транспортной карты школьника. Вплотную к терминалу расположена аптека. В ней продаются не только лекарства, а есть отдел, где можно проверить зрение и заказать очки. Бабушка заказывала себе год назад очки и осталась очень довольна. Аптека расположена между терминалом и магазином «Игрушки». Это мой любимый магазин в нашем торговом центре. Даже если мне ничего не покупают из игрушек, всё равно очень интересно зайти и посмотреть, что нового там появилось.

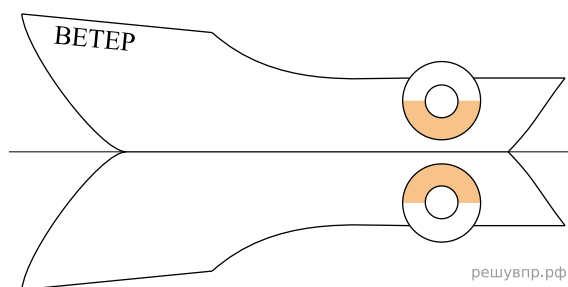
Самое большое помещение в торговом центре занимает супермаркет. Папа туда не любит ходить, говорит, что это скучное занятие. Поэтому старается найти предлог, чтобы остаться снаружи, когда мама идёт в супермаркет за продуктами. Папа полностью полагается на мамин вкус, поэтому часто мама одна покупает там всё необходимое. Мы с папой ждём её в кафе, а потом помогаем донести до дома сумки. Если стоять лицом ко входу в супермаркет, то кафе будет справа, а слева — магазин «Одежда», в котором продаётся школьная форма.

Рассмотри план торгового центра. Пользуясь описанием, которое дал Алёша, отметь на плане цифрами шесть объектов.

1. Магазин «Игрушки».
2. Магазин «Одежда».
3. Аптека.
4. Супермаркет.
5. Терминал.
6. Кафе.



14. На рисунке изображена лодка и её отражение в воде. На борту лодки написано название «Ветер». Напиши название лодки на отражении в воде.



15. Полоску бумаги разрезали на три части. После этого самую большую из полученных частей снова разрезали на три части. Затем снова самую большую из полученных частей разрезали на три части. Так поступили много раз: на каждом шаге самую большую часть разрезали на три части. Могло ли в итоге получиться 250 частей? Запиши решение и ответ.