

ВПР по математике 4 класс 2022 год. Вариант 12.

При выполнении заданий с кратким ответом впишите в поле для ответа цифру, которая соответствует номеру правильного ответа, или число, слово, последовательность букв (слов) или цифр. Ответ следует записывать без пробелов и каких-либо дополнительных символов. Дробную часть отделяйте от целой десятичной запятой. Единицы измерений писать не нужно.

Если вариант задан учителем, вы можете вписать или загрузить в систему ответы к заданиям с развернутым ответом. Учитель увидит результаты выполнения заданий с кратким ответом и сможет оценить загруженные ответы к заданиям с развернутым ответом. Выставленные учителем баллы отобразятся в вашей статистике.

1. Вычисли: $67 + 26$.

2. Вычисли: $15 + 5 \cdot 3 - 16$.

3. Кирилл хочет пообедать в кафе. Меню показано на рисунке. Кирилл выбрал крем-суп, филе-о-фиш и кекс и отдал продавцу 500 рублей. Сколько рублей сдачи он должен получить?

Пицца пепперони
210 руб.

Филе-о-фиш
110 руб.

Крем-суп
230 руб.

Барбекю
120 руб.

Чизбургер
70 руб.

Кекс
80 руб.



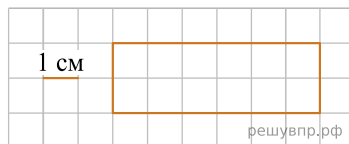
решувпр.рф

Запиши решение и ответ.

4. В 2040 году 3 января — вторник. Какой день недели 26 января?

5.

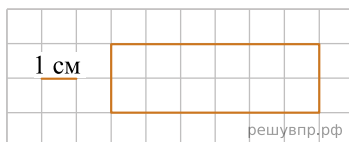
На клеточном поле со стороной клетки 1 см изображён прямоугольник. Найди площадь этого прямоугольника.



решувпр.рф

6. На клеточном поле со стороной клетки 1 см изображён прямоугольник.

Изобрази на рисунке прямоугольник, имеющий площадь на 6 см^2 больше исходного, так, чтобы весь исходный прямоугольник был его частью.



решувпр.рф

7. Соревнования по футболу проходили в четыре круга. Марина следила за количеством забитых голов своих любимых команд и записывала результаты в таблицу. Используя данные этой таблицы, ответь на вопросы.

Номер игрового круга	«Спартак»	«Динамо»	«Торпедо»
Первый круг	12	11	22
Второй круг	21	15	17
Третий круг	14	23	9
Четвёртый круг	32	24	14

Сколько голов забила команда «Торпедо» в первом круге?

8. Соревнования по футболу проходили в четыре круга. Марина следила за количеством забитых голов своих любимых команд и записывала результаты в таблицу. Используя данные этой таблицы, ответь на вопросы.

Номер игрового круга	«Спартак»	«Динамо»	«Торпедо»
Первый круг	12	11	22
Второй круг	21	15	17
Третий круг	14	23	9
Четвёртый круг	32	24	14

Какая команда забила меньше всего голов в первом круге и во втором круге вместе?

9. Найди значение выражения $(377 + 414) : 7 + 37$.

10. Красная Шапочка пошла в гости к бабушке, которая живёт от неё на расстоянии 4 км. Она боялась идти вечером, поэтому спешила и за каждую минуту проходила 200 м. Через 10 мин. она поняла, что успеваеет до заката, и замедлилась, проходя 100 м за каждую минуту. Сколько времени она шла до бабушки после того как замедлилась?

11. Учитель геометрии планирует изучение тем «Треугольники», «Четырёхугольники» и «Параллельные прямые». Чтобы разобраться с признаками параллельности прямых, школьники должны знать признаки равенства треугольников. У некоторых четырёхугольников стороны могут быть параллельны.

Какую из трёх тем учитель должен объяснять первой?

12. Учитель геометрии планирует изучение тем «Треугольники», «Четырёхугольники» и «Параллельные прямые». Чтобы разобраться с признаками параллельности прямых, школьники должны знать признаки равенства треугольников. У некоторых четырёхугольников стороны могут быть параллельны.

После изучения какой темы учитель сразу перейдёт к изучению темы «Четырёхугольники»?


13. Оля написала сочинение «Прогулка в парке» и нарисовала план парка.

Мне всегда хотелось погулять в парке, когда ещё раннее утро и в парке почти никого нет. Вчера мы с папой, наконец, сделали это!

Мы встали рано утром, тихо оделись, чтобы не разбудить маму и сестру, и пошли в парк. Сразу за воротами — развилка. Правая дорожка идёт вдоль тира и детской площадки и ведёт к кафе «Берёзка». А левая идёт мимо каруселей и летнего театра и упирается в центральную аллею парка. Мы пошли по правой дорожке. Справа стоит тир. Он был ещё закрыт. А за тиром, тоже справа, детская площадка. На качелях я чуть-чуть покачалась, они были мокрыми от росы, но это ничего, потому что я была с папой. Мама не разрешила бы. Мы пришли к кафе, но оно тоже ещё не работало. Поэтому мы свернули налево. Но не на центральную аллею, по которой мы могли бы дойти до каруселей, а на самую дальнюю. Мы прошли до самого конца, никуда не сворачивая, и пришли к воротам, около которых находится памятник композитору Глинке. Памятник стоит прямо у выхода из парка. На этом наш утренний поход в парк закончился. Оказалось, что рано утром в парке мокро и ничего не работает.

Рассмотри план парка и, пользуясь описанием, которое дала Оля, обозначь цифрами на плане шесть объектов.

1. Кафе «Берёзка».
2. Памятник Глинке.
3. Карусели.
4. Летний театр.
5. Детская площадка.
6. Тир.



14. Поверни слово по образцу:

ПАЁК	→	КАЁП
ЛОЖКА	→	КАЖУВР.РФ

15. В школьной столовой один стакан компота, четыре пирожка с мясом и два пирожка с вишней стоят 110 руб., а пять стаканов компота, два пирожка с мясом и четыре пирожка с вишней — 160 руб. Сколько рублей заплатил мальчик за покупку в школьной столовой одного стакана компота, одного пирожка с мясом и одного пирожка с вишней?