

Всероссийская проверочная работа по математике 4 класс 2016 год. Вариант 26.

При выполнении заданий с кратким ответом впишите в поле для ответа цифру, которая соответствует номеру правильного ответа, или число, слово, последовательность букв (слов) или цифр. Ответ следует записывать без пробелов и каких-либо дополнительных символов. Дробную часть отделяйте от целой десятичной запятой. Единицы измерений писать не нужно.

Если вариант задан учителем, вы можете вписать или загрузить в систему ответы к заданиям с развернутым ответом. Учитель увидит результаты выполнения заданий с кратким ответом и сможет оценить загруженные ответы к заданиям с развернутым ответом. Выставленные учителем баллы отобразятся в вашей статистике.

1. Найди значение выражения $50 - 28$.

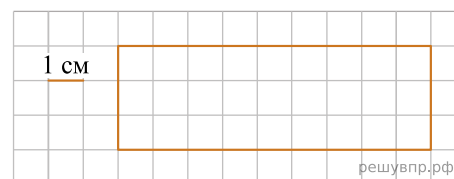
2. Найди значение выражения $17 + 3 \cdot 3 - 18$.

3. Поезда в метро ходят с одинаковым интервалом в 5 мин. 40 с. Первый утренний поезд прибыл на платформу в 6 ч 30 мин. 50 с. Во сколько прибудет следующий поезд?

Ответ: в час. мин. сек.

4. Ниже на клетчатом поле со стороной клетки 1 см изображён прямоугольник.

Найдите площадь этого прямоугольника. Ответ укажите в см^2 . В ответе писать единицы измерения не нужно.



5. Кассир в кинотеатре отмечал в таблице количество проданных билетов на различные кинофильмы. Используя данные этой таблицы, ответь на вопросы.

Название фильма	12 мая	13 мая	14 мая
«Книга джунглей»	91	200	25
«Джентльмены удачи»	109	144	98
«Приключения Электроника»	125	61	92
«Приключения Буратино»	75	39	56

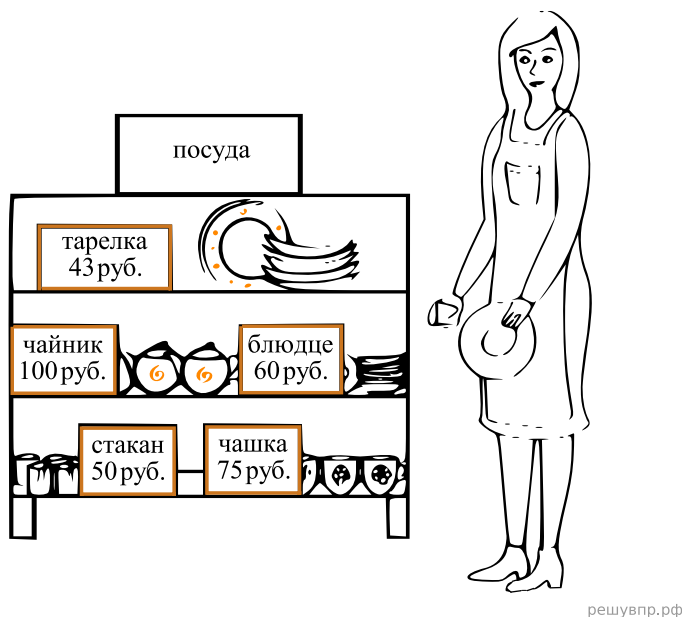
Сколько билетов было куплено 13 мая на кинофильм «Джентльмены удачи»?

6. Найди значение выражения $(2089 - 1903) : 3 + 236$.

7. В новогодней гирлянде 28 лампочек. Лампочки идут в таком порядке: одна жёлтая, две зелёных, три жёлтых, четыре зелёных и так далее.

Назовите цвет пятнадцатой лампочки.

8. Рассмотрите рисунок и ответьте на вопрос: сколько рублей сдачи получит покупатель, расплатившийся за одно блюдо и один стакан купюрой в 500 руб.?



9. Автомобиль ехал 10 мин. и за каждую минуту проезжал 900 м, потом сделал остановку, а потом ехал несколько минут, проезжая за каждую минуту 800 м. Всего он проехал расстояние, равное 13 км. За сколько минут он проехал путь после остановки?

Запиши решение и ответ

10. Из трёх кубиков сложили постройку. Если посмотреть на неё в направлении по стрелке, то будет видна фигура, состоящая из трёх квадратов (рис. 1). Из 27 таких же кубиков сложили куб (рис. 2). Затем с этого куба сняли несколько кубиков (рис. 3). Какая фигура будет видна, если смотреть на получившуюся постройку в направлении по стрелке?

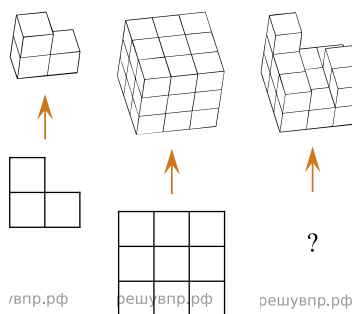


Рис. 1

Рис. 2

Рис. 3

Изобрази эту фигуру на клетчатом поле. Один кубик следует изображать одной клеткой.

11. В школьном буфете две чашки чая, один пирожок и четыре конфеты стоят 48 руб., а четыре чашки чая, пять пирожков и две конфеты — 66 руб. Сколько рублей заплатил мальчик за покупку одной чашки чая, одного пирожка и одной конфеты?

Запиши решение и ответ.