

ВПР по математике 4 класс 2021 год. Вариант 8.

При выполнении заданий с кратким ответом впишите в поле для ответа цифру, которая соответствует номеру правильного ответа, или число, слово, последовательность букв (слов) или цифр. Ответ следует записывать без пробелов и каких-либо дополнительных символов. Дробную часть отделяйте от целой десятичной запятой. Единицы измерений писать не нужно.

Если вариант задан учителем, вы можете вписать или загрузить в систему ответы к заданиям с развернутым ответом. Учитель увидит результаты выполнения заданий с кратким ответом и сможет оценить загруженные ответы к заданиям с развернутым ответом. Выставленные учителем баллы отобразятся в вашей статистике.

1. Найди значение выражения $164 \cdot 6$.
2. Найди значение выражения $36 - 15 : (21 - 18)$.
3. Рассмотрй рисунок и ответь на вопрос: сколько рублей нужно заплатить при покупке шапки-ушанки, платка и перчаток? Запиши решение и ответ.

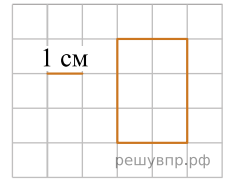
Шапка 320руб.	Шарф 190руб.	Платок 390руб.
Шапка-ушанка 460руб.	Варежки 140руб.	Перчатки 210руб.

решувпр.рф

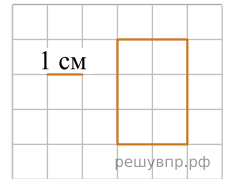
4. Праздничный салют начался в 20:55 и продолжался 28 минут. Сколько было времени, когда закончился салют?

Ответ: час. мин.

5. На клеточном поле со стороной клетки 1 см изображён прямоугольник. Найди площадь этого прямоугольника.



6. На клеточном поле со стороной клетки 1 см изображён прямоугольник. На клеточном поле рядом с прямоугольником нарисуй квадрат, периметр которого в 2 раза больше периметра данного прямоугольника.



7. В школьном шахматном турнире участвовало 8 человек. Каждый из участников сыграл 7 партий. В таблице показаны результаты трёх участников. Ответь на вопросы.

Участник	Результаты		
	победа	ничья	поражение
Катя	7	0	0
Федя	5	0	2
Вася	4	1	2

У кого из этих трёх участников было больше всего побед? В ответе укажите имя участника в именительном падеже.

8. В школьном шахматном турнире участвовало 8 человек. Каждый из участников сыграл 7 партий. В таблице показаны результаты трёх участников. Ответь на вопросы.

Участник	Результаты		
	победа	ничья	поражение
Катя	7	0	0
Федя	5	0	2
Вася	4	1	2

Сколько всего поражений получили эти три участника?

9. Найди значение выражения: $2254 - 903 : 43 + 207$.

10. Урожай картофеля общим весом 10 кг раскладывали в мешки весом по 400 г и 900 г. При этом 900-граммовых мешков получилось восемь штук. Сколько было 400-граммовых мешков? Запиши решение и ответ.

11. Даша, Миша и Катя пошли по грибы. Миша нашёл больше грибов, чем Катя. Вместе Миша и Катя нашли столько же грибов, сколько нашла Даша. Меньше трёх грибов не нашёл никто из них, а все вместе они нашли 14 грибов.

Сколько грибов нашла Даша?

12. Даша, Миша и Катя пошли по грибы. Миша нашёл больше грибов, чем Катя. Вместе Миша и Катя нашли столько же грибов, сколько нашла Даша. Меньше трёх грибов не нашёл никто из них, а все вместе они нашли 14 грибов.

Сколько грибов нашёл Миша?

13. Гриша написал сочинение о торговом центре около его дома и нарисовал план торгового центра.

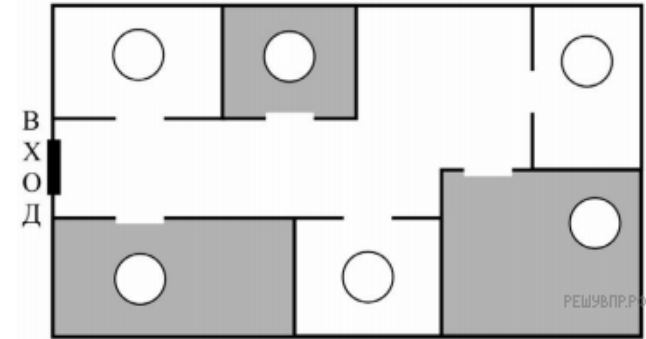
Около нашего дома недавно открылся новый торговый центр. Он небольшой, но очень удобный. В нём есть всё самое необходимое. Если войти в него с улицы, то сразу справа находится зоосалон. Туда можно заходить с животными. Мы с мамой водили туда нашу собачку Альму, чтобы перед покупкой примерить ей комбинезон на зиму. А мой одноклассник Костя рассказывал, что они подстригают там свою персидскую кошку.

Напротив зоосалона, слева от входа в торговый центр, находятся две палатки. Если повернуться к ним лицом и встать спиной к зоосалону, то слева будет палатка «Молочные продукты», а справа — палатка «Горячая выпечка». Выпечка там и правда продаётся горячая и очень вкусная, а молочные продукты натуральные и очень свежие. Бабушка говорит, что такого вкусного сливочного масла она не пробовала со времён своего детства.

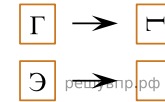
Самое большое помещение в торговом центре занимает продуктовый супермаркет. Если стоять лицом ко входу в супермаркет, то слева от него, в углу, мы увидим аптеку. А справа от входа в супермаркет около зоосалона находится металлоремонт, где можно изготовить запасные ключи и починить молнию на куртке или сумке.

Рассмотри план торгового центра. Пользуясь описанием, которое дал Гриша, отметь на плане цифрами шесть объектов.

1. Палатка «Горячая выпечка».
2. Зоосалон.
3. Продуктовый супермаркет.
4. Палатка «Молочные продукты».
5. Аптека.
6. Металлоремонт.



14. Преобразуй букву по образцу:



15. Ваня вырезал из бумаги несколько пятиугольников и семиугольников. Всего у вырезанных фигурок 44 вершины. Сколько пятиугольников вырезал Ваня?

Запиши решение и ответ.