

ВПР по математике 4 класс 2021 год. Вариант 6.

При выполнении заданий с кратким ответом впишите в поле для ответа цифру, которая соответствует номеру правильного ответа, или число, слово, последовательность букв (слов) или цифр. Ответ следует записывать без пробелов и каких-либо дополнительных символов. Дробную часть отделяйте от целой десятичной запятой. Единицы измерений писать не нужно.

Если вариант задан учителем, вы можете вписать или загрузить в систему ответы к заданиям с развернутым ответом. Учитель увидит результаты выполнения заданий с кратким ответом и сможет оценить загруженные ответы к заданиям с развернутым ответом. Выставленные учителем баллы отобразятся в вашей статистике.

1. Найди значение выражения $24 \cdot 3$.
2. Найди значение выражения $17 + 3 \cdot 3 - 18$.
3. На садовом рынке продаются саженцы деревьев и кустарников (см. рис.).

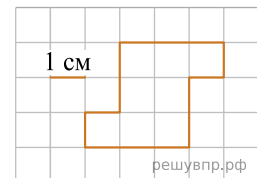
Яблоня 420 руб.		Малина 280 руб.
Груша 350 руб.		Крыжовник 390 руб.
Слива 570 руб.		Красная смородина 200 руб.
Вишня 370 руб.		Чёрная смородина 250 руб.
Черешня 490 руб.		

Сколько всего рублей надо заплатить за три куста чёрной смородины и одну черешню? Запиши решение и ответ.

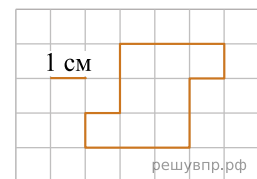
4. Электропоезд отправился от вокзала и через 1 час 55 минут прибыл на конечную станцию, в это время часы показывали 17 часов 20 минут. В котором часу электропоезд отошёл от вокзала?

Ответ: в час. мин.

5. На клетчатом поле со стороной клетки 1 см изображена фигура. Найди периметр этой фигуры.



6. На клетчатом поле со стороной клетки 1 см изображена фигура. На клетчатом поле рядом с фигурой нарисуй прямоугольник, периметр которого на 4 см больше периметра данной фигуры.



7. Семья ходила за грибами. В таблице показано, кто сколько и каких грибов нашёл. Используя эти данные, ответь на вопросы.

	Лисички	Сыроежки	Маслята
Папа	15	6	0
Мама	7	12	8
Сын	9	8	13
Дочь	3	15	7

Сколько сыроежек нашла дочь?

8. Семья ходила за грибами. В таблице показано, кто сколько и каких грибов нашёл. Используя эти данные, ответь на вопросы.

	Лисички	Сыроежки	Маслята
Папа	15	6	0
Мама	7	12	8
Сын	9	8	13
Дочь	3	15	7

Кто нашёл грибов больше всех?

9. Найди значение выражения $(245 + 186) \cdot 13 + 63$.

10. Объём бочки 200 л. В пустую бочку вылили 11 десятилитровых и 6 двенадцатилитровых вёдер воды. Сколько ещё литров воды может поместиться в бочке? Запиши решение и ответ.

11. Маша решила заняться изучением английского языка. В первый день она занималась 40 мин., а в каждый последующий день тратила на занятия на 5 мин. меньше, чем в предыдущий день. Когда в очередной день она занималась всего 15 мин., мама попросила её уделять занятиям больше времени, и каждый следующий день Маша занималась английским языком на 5 мин. больше, чем в предыдущий день.

Сколько минут занималась английским языком Маша на четвёртый день занятий?

12. Маша решила заняться изучением английского языка. В первый день она занималась 40 мин., а в каждый последующий день тратила на занятия на 5 мин. меньше, чем в предыдущий день. Когда в очередной день она занималась всего 15 мин., мама попросила её уделять занятиям больше времени, и каждый следующий день Маша занималась английским языком на 5 мин. больше, чем в предыдущий день.

Сколько всего минут Маша потратила на изучение английского языка в первую неделю занятий?

13. Данила написал сочинение о торговом центре около его дома и нарисовал план торгового центра.

Около нашего дома недавно открылся новый торговый центр. Он небольшой, но очень удобный. В нём есть всё самое необходимое. Если войти в него с улицы, то сразу справа находится магазин «Продукты». Слева от входа находится терминал, в котором мама обычно пополняет себе и мне транспортные карты.

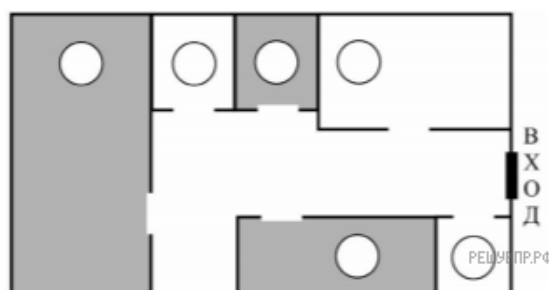
Рядом с терминалом расположен магазин «Зоотовары». Раз в неделю, по выходным, папа покупает в нём большую упаковку корма для нашей собаки Дуси и мячики, с которыми она любит гулять, но часто теряет их.

Самое большое помещение в торговом центре занимает магазин «Спорттовары». Он такой большой, потому что, кроме спортивной одежды и обуви, там есть роликовые коньки, лыжи и даже велосипеды с самокатами. Год назад мне родители купили здесь новый самокат.

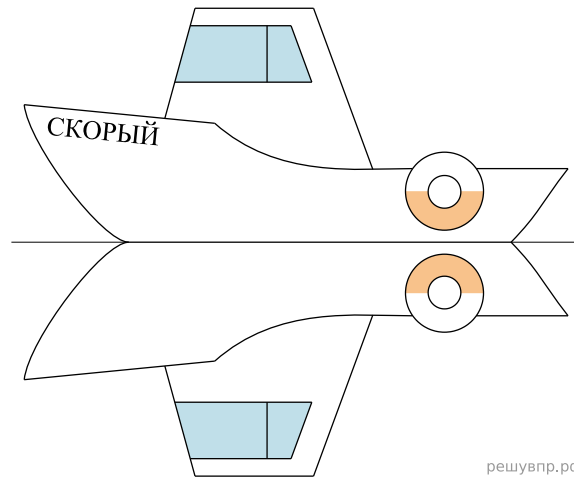
Между спортивным магазином и продуктовым находятся два небольших отдела. Это аптека и магазин «Всё для рукоделия». Аптека расположена ближе к продуктовому магазину, а товары для рукоделия — ближе к спортивным товарам. Моя старшая сестра увлекается вязанием и часто заходит сюда за спицами и пряжей.

Рассмотри план торгового центра. Пользуясь описанием, которое дал Данила, отметь на плане цифрами шесть объектов.

1. Терминал.
2. Магазин «Продукты».
3. Аптека.
4. Магазин «Зоотовары».
5. Магазин «Спорттовары».
6. Магазин «Всё для рукоделия».



14. На рисунке изображён катер и его отражение в воде. На борту катера написано название «Скорый». Напиши название катера на отражении в воде.



15. В коробке лежат синие, красные и зелёные карандаши. Всего их 20 штук. Синих карандашей в 8 раз больше, чем зелёных, а красных меньше, чем синих. Сколько в коробке красных карандашей? Запиши решение и ответ.