

ВПР по математике 4 класс 2021 год. Вариант 5.

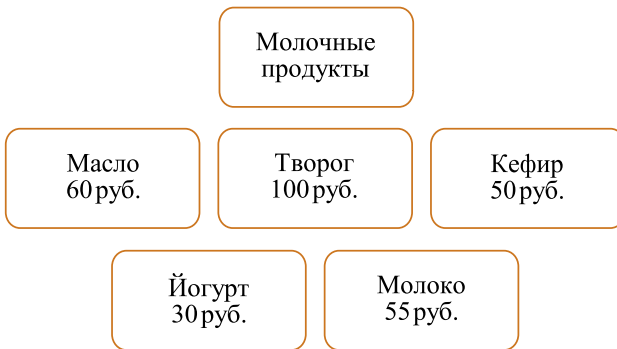
При выполнении заданий с кратким ответом впишите в поле для ответа цифру, которая соответствует номеру правильного ответа, или число, слово, последовательность букв (слов) или цифр. Ответ следует записывать без пробелов и каких-либо дополнительных символов. Дробную часть отделяйте от целой десятичной запятой. Единицы измерений писать не нужно.

Если вариант задан учителем, вы можете вписать или загрузить в систему ответы к заданиям с развернутым ответом. Учитель увидит результаты выполнения заданий с кратким ответом и сможет оценить загруженные ответы к заданиям с развернутым ответом. Выставленные учителем баллы отобразятся в вашей статистике.

1. Найдите значение выражения: $127 - 33$.

2. Найди значение выражения $14 + (31 + 5) : 9$.

3. Рассмотрим рисунок и ответь на вопрос: сколько рублей сдачи получит покупатель, расплатившийся за одну пачку творога и один пакет кефира купюрой в 500 руб.?



решувпр.рф

Запиши решение и ответ.

4. Мама закончила готовить ужин в 20 ч 40 мин. Сколько времени у неё заняло приготовление ужина, если она начала готовить в 18 ч 50 мин.?

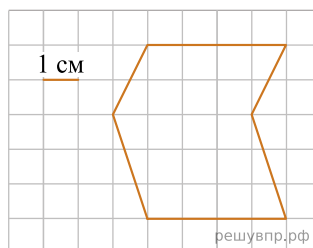
Ответ: час. мин.

5.

На клетчатой бумаге нарисована фигура. Сторона клетки равна 1 см.

Найди площадь этой фигуры. Ответ дай в кв. см.

В ответе писать единицы измерения не нужно.

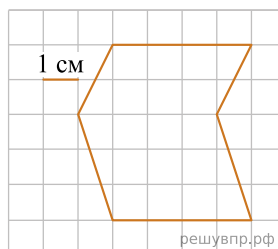


решувпр.рф

6.

На клетчатой бумаге нарисована фигура. Сторона клетки равна 1 см.

Нарисуй по клеточкам прямоугольник, площадь которого равна площади изображённой фигуры.



решувпр.рф

7. Карина посчитала, сколько «троек», «четвёрок» и «пятёрок» она получила в течение сентября, и составила таблицу. Используя таблицу, ответь на вопросы.

Неделя по порядку	«3»	«4»	«5»
Первая неделя	2	7	11
Вторая неделя	5	4	10
Третья неделя	4	13	7
Четвёртая неделя	1	10	15

За какую неделю Карина получила меньше всего «троек»?

8. Карина посчитала, сколько «троек», «четвёрок» и «пятёрок» она получила в течение сентября, и составила таблицу. Используя таблицу, ответь на вопросы.

Неделя по порядку	«3»	«4»	«5»
Первая неделя	2	7	11
Вторая неделя	5	4	10
Третья неделя	4	13	7
Четвёртая неделя	1	10	15

Сколько «пятёрок» получила Карина за все четыре недели?

9. Найди значение выражения $(3508 - 1813) \cdot 8 - 5279$.

10. Железнодорожный состав перевозит 1000 т щебня. В составе 4 новых вагонов, в каждом из которых 70 т щебня, остальные вагоны — старые, в них по 60 т щебня. Сколько в составе старых вагонов?

11. Петя, Никита, Вася и Георгий выстроились в шеренгу по росту (в порядке убывания). Известно, что Петя выше Васи, но ниже Георгия, а Никита и Георгий не стоят рядом.

Кто из мальчиков самый высокий?

12. Петя, Никита, Вася и Георгий выстроились в шеренгу по росту (в порядке убывания). Известно, что Петя выше Васи, но ниже Георгия, а Никита и Георгий не стоят рядом.

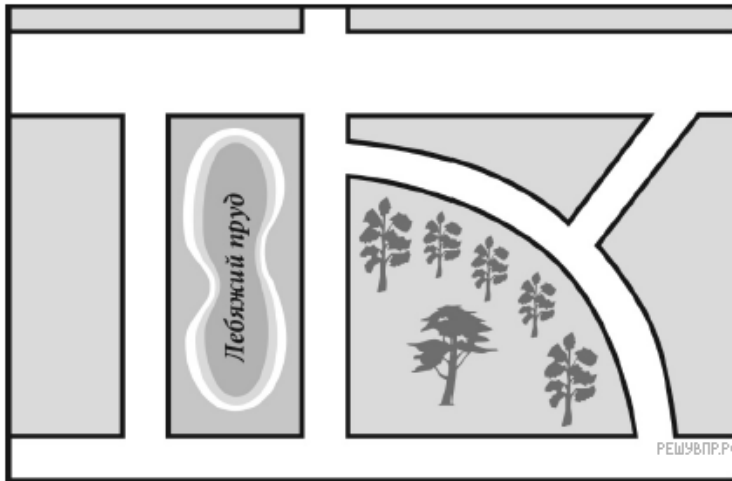
Кто из мальчиков в шеренге второй?

13. Лена написала сочинение «Мой город».

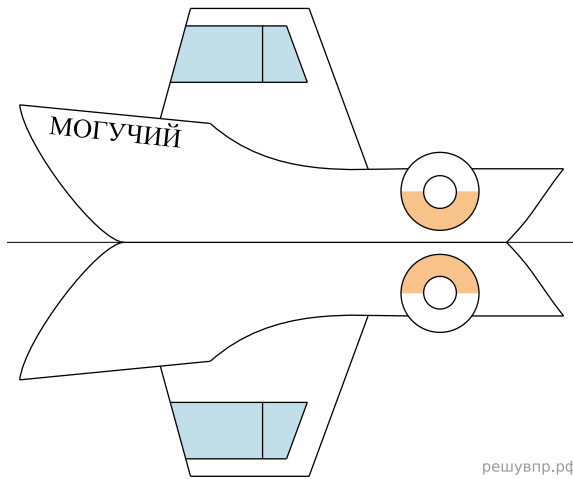
Меня зовут Лена. Я живу в красивом городе на улице с красивым названием Осенняя. Рядом с нашей улицей Лебяжий пруд, где мы с бабушкой любим гулять. Мы обходим пруд: сначала проходим немножко по нашей Осенней улице, затем поворачиваем налево на улицу Рябиновую, которая идёт вдоль пруда. А с другой стороны к Рябиновой улице примыкает небольшой парк; в парке, правда, много рябин. А ещё там есть качели и карусель. Пройдя через парк, мы выходим на Парковую улицу, которую ещё называют Подковой, потому что она на самом деле изогнутая. Но это не настоящее название, а настоящее название всё-таки Парковая.

Если бабушке нужно в аптеку, то с Парковой улицы мы сворачиваем в Огородный проезд. Он узкий, совсем короткий и наискосок выводит нас на широкую улицу. Она главная в нашем городе и так и называется: улица Широкая. На перекрёстке Огородного проезда и Широкой как раз аптека. Но гуляем мы по воскресеньям. В остальные дни я хожу в школу. Школа тоже рядом с Лебяжьим прудом. Между школой и прудом проходит улица Школьная. Она не очень длинная: она только соединяет Широкую и Осеннюю и больше никуда не ведёт.

Прочти сочинение и рассмотри план. Пользуясь описанием, которое дала Лена, надпиши названия всех улиц и проезда на плане.



14. На рисунке изображён катер и его отражение в воде. На борту катера написано название «Могучий». Напиши название катера на отражении в воде.



15. Вася с родителями собирал грибы. Мама нашла 9 грибов, папа нашёл 15 грибов, а Вася нашёл на столько же больше грибов, чем нашла мама, на сколько меньше, чем нашёл папа. Сколько грибов нашёл Вася? Запиши решение и ответ.