

ВПР по математике 4 класс 2020 год. Вариант 20.

При выполнении заданий с кратким ответом впишите в поле для ответа цифру, которая соответствует номеру правильного ответа, или число, слово, последовательность букв (слов) или цифр. Ответ следует записывать без пробелов и каких-либо дополнительных символов. Дробную часть отделяйте от целой десятичной запятой. Единицы измерений писать не нужно.

Если вариант задан учителем, вы можете вписать или загрузить в систему ответы к заданиям с развернутым ответом. Учитель увидит результаты выполнения заданий с кратким ответом и сможет оценить загруженные ответы к заданиям с развернутым ответом. Выставленные учителем баллы отобразятся в вашей статистике.

1. Найдите значение выражения $28 + 34$.

2. Вычисли: $4 \cdot (33 - 15) + 6$.

3. Сергей хочет позавтракать в кафе. Меню показано на рисунке. Сергей выбрал салат, блины и коктейль и отдал продавцу 500 рублей. Сколько рублей сдачи он должен получить?

Салат Цезарь 130 руб.	Фруктовый коктейль 80 руб.	Пирожное 40 руб.
Картофель фри 60 руб.	Пельмени 270 руб.	Блины 100 руб.



решувпр.рф

Запиши решение и ответ.

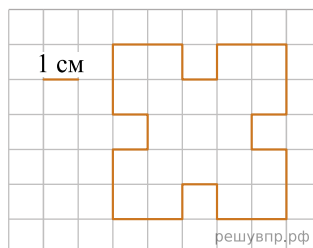
4. В 2040 году 3 января — вторник. Какой день недели 26 января?

5.

На клетчатой бумаге нарисована фигура. Сторона клетки равна 1 см.

Найди площадь этой фигуры. Ответ дай в кв. см.

В ответе писать единицы измерения не нужно.

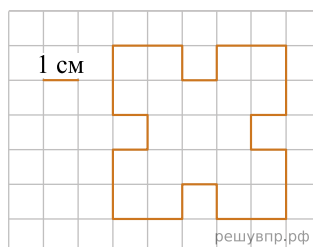


решувпр.рф

6.

На клетчатой бумаге нарисована фигура. Сторона клетки равна 1 см.

Нарисуй по клеточкам прямоугольник, площадь которого равна площади изображённой фигуры.



решувпр.рф

7. Дети из трёх школ посещают музыкальную школу. В таблице показано, сколько школьников ходит в каждый музыкальный класс. Ответь на вопросы.

Класс	1-я школа	2-я школа	3-я школа
Виолончель	4	9	4
Арфа	2	8	5
Саксофон	3	5	2

Сколько детей из 2-й школы посещают класс арфы?

8. Дети из трёх школ посещают музыкальную школу. В таблице показано, сколько школьников ходит в каждый музыкальный класс. Ответь на вопросы.

Класс	1-я школа	2-я школа	3-я школа
Виолончель	4	9	4
Арфа	2	8	5
Саксофон	3	5	2

Сколько всего детей занимается в классе саксофона?

9. Найди значение выражения $3274 - (645 + 255 : 15)$.

10. Железнодорожный состав перевозит 1200 т аммиака. В составе 10 новых цистерн, в каждой из которых 60 т аммиака, и несколько старых цистерн, в каждой из которых 40 т аммиака. Сколько в составе старых цистерн?

11. Пётр Иванович собирается в туристическую поездку по городам Сибири на неделю, с понедельника по воскресенье включительно. Он посетит по порядку города: Иркутск, Красноярск, Новосибирск и Омск. В каждом городе Пётр Иванович планирует быть не более двух дней, а переезжать из города в город будет только ночью.

В каком городе Пётр Иванович будет в пятницу днём?

12. Пётр Иванович собирается в туристическую поездку по городам Сибири на неделю, с понедельника по воскресенье включительно. Он посетит по порядку города: Иркутск, Красноярск, Новосибирск и Омск. В каждом городе Пётр Иванович планирует быть не более двух дней, а переезжать из города в город будет только ночью.

Если ночь со среды на четверг Пётр Иванович проведёт в гостинице, то в каком городе он будет во вторник днём?

13. Ваня написал сочинение «Наши соседи».

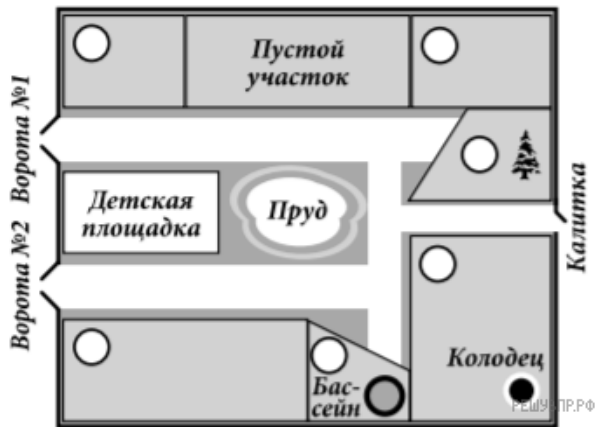
Я люблю ездить на дачу. У нас есть маленький пруд, а прямо около пруда детская площадка. Только маленьких детей уже нет. Все выросли и ходят в школу. Летом я в школу не хожу. Участок у нас небольшой, зато папа купил бассейн и поставил его рядом с домом. Потому что в нашем пруду купаться нельзя. Рядом с нами живёт Сергей Иванович. У него на участке есть колодец, и он шутит, что его колодец больше нашего бассейна. По другую сторону от нашего участка живёт Лев Петрович. Ему удобно, потому что его дача прямо около ворот.

Есть ещё одни ворота, около них стоит дача Марии Тимофеевны, а за её дачей пустой участок. Наверно, кто-нибудь его купит. Если от нашей дачи идти по маленькой дорожке, то пруд слева, а справа будет участок Евгения Ивановича. У него рядом с домом настоящая большая ель. У него нет ни огорода, ни сада, только ель и трава. Мимо участка Евгения Ивановича мы проходим, если идём в лес через маленькую калитку. За домом Евгения Ивановича участок Анны Сергеевны. Мария Тимофеевна часто ходит к Анне Сергеевне в гости через пустой участок, там большие дырки в заборе.

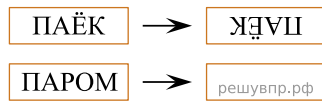
Рассмотри план дачного посёлка и, пользуясь описанием, которое дал Ваня, обозначь цифрами на плане шесть участков.

1. Участок автора сочинения Вани.
2. Участок, где живёт Сергей Иванович.
3. Участок Льва Петровича.

4. Участок Марии Тимофеевны.
5. Участок Евгения Ивановича.
6. Участок Анны Сергеевны.



14. Поверни слово по образцу:



15. В коробке лежат синие, красные и зелёные карандаши. Всего их 25 штук. Синих карандашей в 8 раз больше, чем зелёных, а красных меньше, чем синих. Сколько в коробке красных карандашей?