

ВПР по математике 4 класс 2020 год. Вариант 16.

При выполнении заданий с кратким ответом впишите в поле для ответа цифру, которая соответствует номеру правильного ответа, или число, слово, последовательность букв (слов) или цифр. Ответ следует записывать без пробелов и каких-либо дополнительных символов. Дробную часть отделяйте от целой десятичной запятой. Единицы измерений писать не нужно.

Если вариант задан учителем, вы можете вписать или загрузить в систему ответы к заданиям с развернутым ответом. Учитель увидит результаты выполнения заданий с кратким ответом и сможет оценить загруженные ответы к заданиям с развернутым ответом. Выставленные учителем баллы отобразятся в вашей статистике.

1. Вычисли: $54 : 18$.

2. Вычисли: $22 + 8 : 4 - 15$.

3. Покупатель купил крем для лица и шампунь. Рассмотрите рисунок и ответьте на вопрос. Сколько рублей сдачи получит покупатель с 1000 рублей?

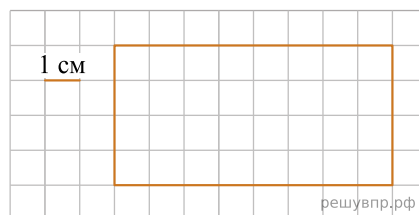
Мыло 22 руб.	Шампунь 185 руб.	Крем для рук 67 руб.
Крем для лица 143 руб.	Зубная паста 116 руб.	Зубная щётка 94 руб.

решувпр.рф

Запиши решение и ответ.

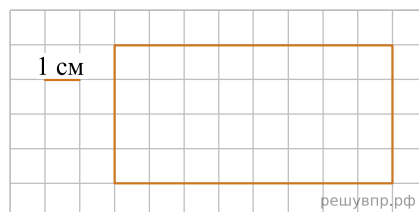
4. Каждая серия мультфильма длится одно и то же число минут. Маша посмотрела две серии мультфильма без перерыва. Мультфильм начался в 17 ч 50 мин и закончился в 18 ч 30 мин. Сколько минут длится каждая серия?

5. Ниже на клетчатом поле со стороной клетки 1 см изображён прямоугольник. Найдите периметр этого прямоугольника. Ответ дайте в сантиметрах.



решувпр.рф

6. Ниже на клетчатом поле со стороной клетки 1 см изображён прямоугольник. На клеточном поле рядом с прямоугольником нарисуйте квадрат, периметр которого в 2 раза меньше периметра данного прямоугольника.



решувпр.рф

7. В отдел, размещённый в трёх кабинетах, привезли канцелярские товары (см. таблицу). Ответь на вопросы.

Номер кабинета	Карандаши	Пачки бумаги	Скрепки (упаковка)	Флаконы клея
1	16	11	1	6
2	31	14	4	8
3	11	9	4	7

Сколько упаковок скрепок привезли в кабинет номер 1?

8. В отдел, размещённый в трёх кабинетах, привезли канцелярские товары (см. таблицу). Ответь на вопросы.

Номер кабинета	Карандаши	Пачки бумаги	Скрепки (упаковка)	Флаконы клея
1	16	11	1	6
2	31	14	4	8
3	11	9	4	7

Сколько всего флаконов клея привезли в отдел?

9. Найди значение выражения $(5600 - 4773) \cdot 11 - 39$.

10. Четыре килограмма мороженого упаковали в большие и маленькие пачки. Большая пачка весит 300 г, а маленькая — 200 г. Получилось 8 маленьких пачек. Сколько понадобилось больших пачек?

11. После ужина Миша поиграл с папой в шашки, повторил правила к завтрашнему уроку и посмотрел передачу по телевизору. На каждое из этих занятий он потратил по полчаса, а затем быстро умылся и лёг спать. Папа согласился поиграть в шашки, только когда были сделаны все уроки. Сразу после ужина до начала передачи оставался 1 час.

Чем Миша занимался сразу после ужина?

12. После ужина Миша поиграл с папой в шашки, повторил правила к завтрашнему уроку и посмотрел передачу по телевизору. На каждое из этих занятий он потратил по полчаса, а затем быстро умылся и лёг спать. Папа согласился поиграть в шашки, только когда были сделаны все уроки. Сразу после ужина до начала передачи оставался 1 час.

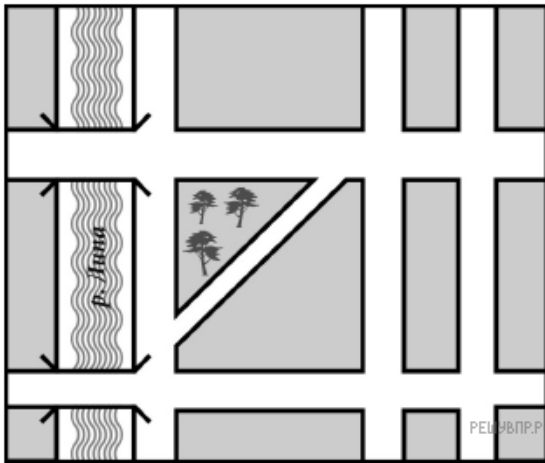
Чем Миша занимался перед самым сном — играл в шашки, повторял правила или смотрел передачу?

13. Витя написал сочинение «Мой городок».

Я знаю, что есть большой город Липецк, но там нет реки Липы. А в нашем городе река Липа есть. Город стоит на правом берегу Липы, а вдоль берега идёт Болотная набережная. Мне не нравится это название, но какое есть. Самое лучшее место в нашем городе — сквер «Треугольник». Мы там гуляем с ребятами после школы. С одной стороны — Болотная набережная, с другой Мучная улица, а наискосок идёт Ольховый переулок. Мучная улица широкая — главная в нашем городе. Она пересекает Липу по мосту и уходит куда-то вдаль. Бабушка говорила, что, если ехать по ней долго, можно приехать в Москву или даже в Париж.

У нас есть ещё один мост через Липу. По нему идёт улица Сосновая. Раньше на ней было много сосен, а сейчас осталось только три. Их охраняют. Зато много молодых сосен в треугольном сквере. Я бы их тоже охранял. Дальше от реки идут две улицы поперёк Сосновой. Ближе к реке — улица Кирпичная, а за ней улица Площа. Кирпичная — понятно. Там кирпичный завод. А что значит, Площа — не знаю. В старину так называли площади. Но нет там никакой площади. У нас в городе вообще нет площади. Может, раньше была. Но я думаю, что в нашем городе нужна площадь.

Прочти сочинение и рассмотри план. Пользуясь описанием, которое дал Витя, надпиши названия всех улиц, набережной и переулка на плане.



14. Поверни слово по образцу:

ПАЁК → КЯВШ

ВИЛКА → решувпр.рф

15. Учитель предложил четырём ученикам несколько задач. Каждую задачу решили только трое. Известно, что Вика решила больше всех — восемь задач, а Гриша решил меньше всех — четыре задачи. Сколько всего задач предложил учитель?