

**ВПР по математике 4 класс 2020 год. Вариант 3.**

При выполнении заданий с кратким ответом впишите в поле для ответа цифру, которая соответствует номеру правильного ответа, или число, слово, последовательность букв (слов) или цифр. Ответ следует записывать без пробелов и каких-либо дополнительных символов. Дробную часть отделяйте от целой десятичной запятой. Единицы измерений писать не нужно.

Если вариант задан учителем, вы можете вписать или загрузить в систему ответы к заданиям с развернутым ответом. Учитель увидит результаты выполнения заданий с кратким ответом и сможет оценить загруженные ответы к заданиям с развернутым ответом. Выставленные учителем баллы отобразятся в вашей статистике.

1. Вычисли:  $47 + 261$ .

2. Вычисли:  $2 \cdot 18 + 36 : 3$ .

3. Рассмотрите рисунок и ответьте на вопрос: сколько рублей нужно будет заплатить, если купить одну пачку овсяных хлопьев и четыре пачки манки?



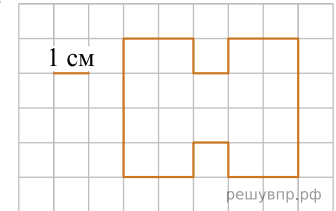
Запиши решение и ответ.

4. Праздничный салют начался в 20:55 и продолжался 28 минут. Сколько было времени, когда закончился салют?

Ответ:  час.  мин.

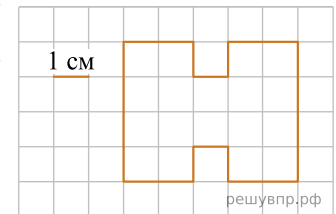
5. Ниже на клетчатом поле со стороной клетки 1 см изображена фигура.

Найди площадь этой фигуры.



6. Ниже на клетчатом поле со стороной клетки 1 см изображена фигура.

На клетчатом поле рядом с фигурой нарисуй прямоугольник, площадь которого равна площади данной фигуры.



7. Четыре подружки занимаются в кружке рукоделия. Из бумаги и лоскутов ткани они делают цветы. В таблице показано, сколько и каких цветов сделала каждая девочка. Используя эти данные, ответьте на вопросы.

Девочка	Незабудка	Роза	Хризантема
Алина	7	5	9
Инна	12	5	1
Света	5	7	1
Юля	7	3	7

Сколько роз сделала Инна?

8. Четыре подружки занимаются в кружке рукоделия. Из бумаги и лоскутов ткани они делают цветы. В таблице показано, сколько и каких цветов сделала каждая девочка. Используя эти данные, ответь на вопросы.

Девочка	Незабудка	Роза	Хризантема
Алина	7	5	9
Инна	12	5	1
Света	5	7	1
Юля	7	3	7

Кто из них сделал больше всех цветов?

9. Найди значение выражения  $(2089 - 1903) : 3 + 236$ .

10. Большая упаковка пастилы стоит 210 рублей. Маленькая — 120 рублей. У Марины была одна купюра в 1000 рублей. Она купила две большие упаковки и столько маленьких, на сколько хватило денег. Сколько маленьких упаковок пастилы купила Марина?

Запиши решение и ответ.

11. После ужина Слава поиграл на гитаре, почитал книжку и погулял с собакой. На каждое из этих занятий он потратил по полчаса, а затем быстро умылся и лёг спать. Родители попросили не шуметь за час до сна. Гулял с собакой Слава раньше, чем начал читать книжку.

Чем Слава занимался сразу после ужина?

12. После ужина Слава поиграл на гитаре, почитал книжку и погулял с собакой. На каждое из этих занятий он потратил по полчаса, а затем быстро умылся и лёг спать. Родители попросили не шуметь за час до сна. Гулял с собакой Слава раньше, чем начал читать книжку.

Чем Слава занимался перед самым сном — играл на гитаре, читал книжку или гулял с собакой?


13. Алёша написал сочинение «Стеллаж» и сделал рисунок стеллажа.

*Меня зовут Алёша. Недавно мы купили новый стеллаж. Он большой, у него много полок и отделов. На одной из полок стоят красивые часы, которые папе подарили сотрудники ко дню рождения, и картина. Справа от полки с часами стоят мои школьные учебники. Учебники поставили на открытую полку, потому что это удобно, я ими ежедневно пользуюсь. Все остальные отделы стеллажа имеют дверки. Под полкой со школьными учебниками моя младшая сестрёнка Таня хранит свои игрушки. Она хоть и маленькая, но умеет аккуратно складывать на место вещи после игры и обязательно закрывает дверку. Слева от отдела с игрушками, под часами, хранятся старые семейные фотоальбомы.*

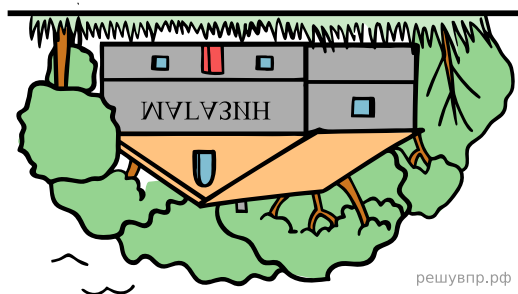
*Три верхние отдела стеллажа тоже с дверками. В самый правый мама поставила свои книги, которые ей нужны по работе. Она работает врачом. В среднем верхнем отделе лежат различные документы. Родители нам запрещают его открывать. А слева от документов — книги с приключениями и фантастикой. Их любит читать мой старший брат Никита.*

Прочти сочинение и рассмотри рисунок. Пользуясь описанием, которое дал Алёша, обозначь цифрами на рисунке шесть отделов стеллажа.

1. Отдел, где хранятся старые фотоальбомы.
2. Полка с Алёшиными школьными учебниками.
3. Отдел, где хранятся мамины книги.
4. Отдел с приключениями и фантастикой.
5. Отдел с Таниными игрушками.
6. Отдел с документами, который детям открывать запрещено.



14. Вова смотрит в реку и видит там отражение вывески на здании.



Что написано на вывеске?

15. Света, Таня и Катя собирали грибы. Таня собрала больше всех — 39 грибов, а Катя меньше всех — 35 грибов. Они решили разделить все грибы между собой поровну, и у них это получилось. Сколько грибов нашла Света?

Запиши решение и ответ.