

При выполнении заданий с кратким ответом впишите в поле для ответа цифру, которая соответствует номеру правильного ответа, или число, слово, последовательность букв (слов) или цифр. Ответ следует записывать без пробелов и каких-либо дополнительных символов. Дробную часть отделяйте от целой десятичной запятой. Единицы измерений писать не нужно.

Если вариант задан учителем, вы можете вписать или загрузить в систему ответы к заданиям с развернутым ответом. Учитель увидит результаты выполнения заданий с кратким ответом и сможет оценить загруженные ответы к заданиям с развернутым ответом. Выставленные учителем баллы отобразятся в вашей статистике.

1. Найди значение выражения $43 - 27$.
2. Найди значение выражения $5 \cdot 14 - 4 \cdot 3$.
3. Рассмотрни рисунок и ответь на вопрос: сколько рублей сдачи получит покупатель, расплатившийся за пакет молока и батон хлеба купюрой в 100 рублей?




Запиши решение и ответ.

4. Экскурсионный теплоход по маршруту Казань-Астрахань-Казань отправляется в пятницу ровно в 10 часов. Каков день и час его возвращения в Казань, если длительность этого экскурсионного маршрута составляет 237 часов? *Ответ запишите в формате: вторник, 8:00.*

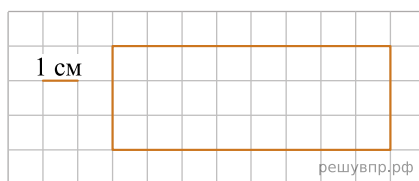
5. На клетчатом поле со стороной клетки 1 см изображён прямоугольник.

Найди площадь этого прямоугольника. Ответ дайте в квадратных сантиметрах. *В ответе писать единицы измерения не нужно.*



6. На клетчатом поле со стороной клетки 1 см изображён прямоугольник.

Проведи на рисунке выше прямую линию так, чтобы этот прямоугольник оказался разбит на квадрат и ещё один прямоугольник.



7. Чемпионат по футболу проходил в четыре круга. Виктор следил за количеством забитых голов своих любимых команд и записывал результаты в таблицу. Используя данные этой таблицы, ответь на вопросы.

Номер игрового круга	«Спартак»	«Динамо»	«Торпедо»
Первый круг	12	11	22
Второй круг	21	15	17
Третий круг	14	23	9
Четвёртый круг	32	24	14

Сколько голов было забито командой «Динамо» в третьем круге?

8. Чемпионат по футболу проходил в четыре круга. Виктор следил за количеством забитых голов своих любимых команд и записывал результаты в таблицу. Используя данные этой таблицы, ответь на вопросы.

Номер игрового круга	«Спартак»	«Динамо»	«Торпедо»
Первый круг	12	11	22
Второй круг	21	15	17
Третий круг	14	23	9
Четвёртый круг	32	24	14

Какая команда забила больше всего голов за два первых круга?

9. Найди значение выражения $51 \cdot 8 - 51000 : 300$.

10. Чтобы сдать нормативы по физкультуре, ученику необходимо пробежать семь раз дистанцию 100 м и ещё несколько раз дистанцию 60 м. При этом необходимо, чтобы общая дистанция, которую пробежит ученик, равнялась 1 км. Сколько раз нужно пробежать дистанцию 60 м?

Запиши решение и ответ.

11. В новогодней гирлянде 21 лампочка. Лампочки идут в таком порядке: одна красная, две синих, три красных, четыре синих и так далее.

Назовите цвет семнадцатой лампочки. Ответ дайте в именительном падеже.

12. В новогодней гирлянде 21 лампочка. Лампочки идут в таком порядке: одна красная, две синих, три красных, четыре синих и так далее.

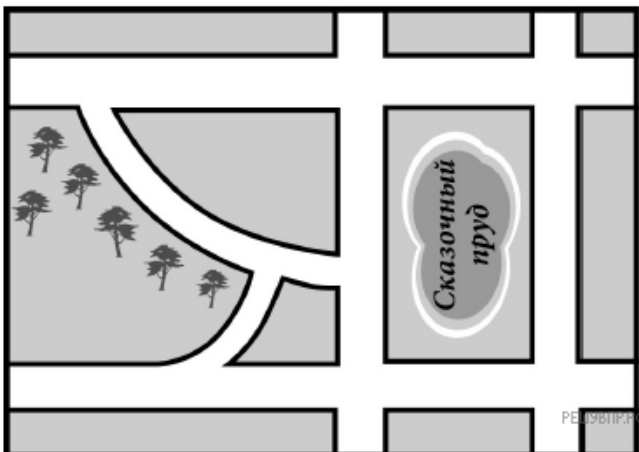
Сколько всего красных лампочек в гирлянде?

13. Андрей написал сочинение «Место, где я живу».

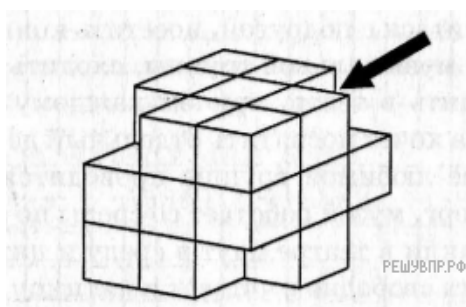
Я живу в сказочном месте. Парк у нас называется «Сказка», и даже пруд около него называется Сказочным. Пруд действительно так называется, хотя папа говорит, что раньше он назывался Гнилым. Мне название Сказочный пруд нравится больше. Сказочный пруд находится не в парке: между ними улица Парковая, которую нужно перейти, чтобы попасть из парка к пруду. Если обойти пруд, то там другая улица — Кирпичная. Так что тут сказка кончается. А я живу на улице Гагарина как раз между перекрёстками с Парковой и Кирпичной. В школу я хожу к перекрёстку Кирпичной и Мытной улиц. Мытная тоже большая улица, она пересекается и с Парковой тоже, потом ещё с переулком, который называется Подкова. Он так называется потому, что он изогнутый. Есть ещё один изогнутый переулок поменьше. Он называется Лучной и ведёт от переулка Подкова к улице Гагарина.

В школу из дома я обычно иду по Кирпичной улице. Там не очень красиво, но я обычно опаздываю, а по Кирпичной дорога до школы короче. Зато обратно мы с ребятами идём по Парковой. Так немного дальше, но домой я уже не так сильно спешу. На Парковой красиво, и на углу Парковой и Подковы есть киоск с мороженым.

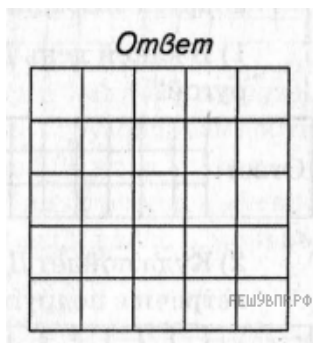
Прочти сочинение и рассмотри план. Пользуясь описанием, которое дал Андрей, надпиши названия всех улиц и переулков на плане.



14. Из большого куба Катя вырезала 4 маленьких, кубика так, как показано на данном ниже рисунке. Затем она окрасила одну из сторон получившейся фигуры краской и сделала её отпечаток на листе бумаги.



Изобрази отпечаток, который получился у Кати, если она окрашивала ту сторону, на которую указывает стрелка. Один кубик следует изображать одной клеткой.



15. При записи номеров страниц в детской книжке было использовано 177 цифр (страницы нумеруются с первой). Сколько страниц в книжке? Запиши решение и ответ.