

ВПР по математике 4 класс 2019 год. Вариант 21.

При выполнении заданий с кратким ответом впишите в поле для ответа цифру, которая соответствует номеру правильного ответа, или число, слово, последовательность букв (слов) или цифр. Ответ следует записывать без пробелов и каких-либо дополнительных символов. Дробную часть отделяйте от целой десятичной запятой. Единицы измерений писать не нужно.

Если вариант задан учителем, вы можете вписать или загрузить в систему ответы к заданиям с развернутым ответом. Учитель увидит результаты выполнения заданий с кратким ответом и сможет оценить загруженные ответы к заданиям с развернутым ответом. Выставленные учителем баллы отобразятся в вашей статистике.

1. Найдите значение выражения $72 - 14$.

2. Найди значение выражения $6 \cdot (14 - 5) - 33$.

3. На рисунке показаны цены на хлебобулочные изделия в магазине. Сколько всего рублей надо заплатить за две арабские лепёшки и одну буханку «Бородинского» хлеба?

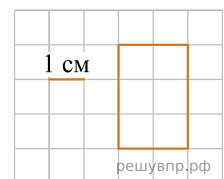
Хлеб "Дарницкий" 26 руб. 	Хлеб "Столичный" 25 руб. 	Хлеб "Бородинский" 47 руб.
Хлеб заварной...45 руб. 	Хлеб с отрубями...27 руб. 	Батон нарезной.....18 руб.
Багет.....67 руб. 	Лепёшка арабская 31 руб. 	Лаваш армянский 48 руб.

Запиши решение и ответ.

4. Самолёт из Уфы в Москву вылетает в 13 ч 50 мин. по московскому времени. В какое время самолёт окажется в Москве, если длительность полёта составляет 2 ч 30 мин.?

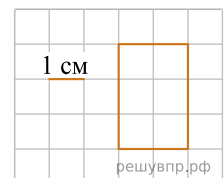
Ответ: час. мин.

5. На клеточном поле со стороной клетки 1 см изображён прямоугольник. Найди площадь этого прямоугольника.



6. На клеточном поле со стороной клетки 1 см изображён прямоугольник.

На клеточном поле рядом с прямоугольником нарисуй квадрат, периметр которого в 2 раза больше периметра данного прямоугольника.



7. Баскетбольная команда детской спортивной школы встречалась с командами нескольких школ. Количество очков, набранных игроками, тренер записывал в таблицу. Используя таблицу, ответь на вопросы.

Игры	Артём	Тимур	Володя
Первая игра	2 очка	9 очков	9 очков
Вторая игра	6 очков	5 очков	8 очков
Третья игра	8 очков	2 очка	7 очков
Четвёртая игра	4 очка	8 очков	9 очков

Сколько очков набрал Тимур во второй игре?

8. Баскетбольная команда детской спортивной школы встречалась с командами нескольких школ. Количество очков, набранных игроками, тренер записывал в таблицу. Используя таблицу, ответь на вопросы.

Игры	Артём	Тимур	Володя
Первая игра	2 очка	9 очков	9 очков
Вторая игра	6 очков	5 очков	8 очков
Третья игра	8 очков	2 очка	7 очков
Четвёртая игра	4 очка	8 очков	9 очков

Кто из мальчиков набрал больше всего очков за все четыре игры?

9. Найди значение выражения $197 + (2102 - 1987) \cdot 4$.

10. На пошив одной блузки уходит 80 см ткани, а на пошив одной юбки — 90 см. Из 5 м ткани сшили четыре блузки и несколько юбок. Сколько сшили юбок?

Запиши решение и ответ.

11. Номер телефона Светы состоит из семи цифр, причём каждая следующая цифра (при чтении слева направо) больше предыдущей. В записной книжке её подруги Насти Светин номер телефона размылся, поэтому теперь там видно только то, что первая цифра её номера — «2», а четвёртая — «5».

Какая цифра в Светином номере телефона идёт второй?

12. Номер телефона Светы состоит из семи цифр, причём каждая следующая цифра (при чтении слева направо) больше предыдущей. В записной книжке её подруги Насти Светин номер телефона размылся, поэтому теперь там видно только то, что первая цифра её номера — «2», а четвёртая — «5».

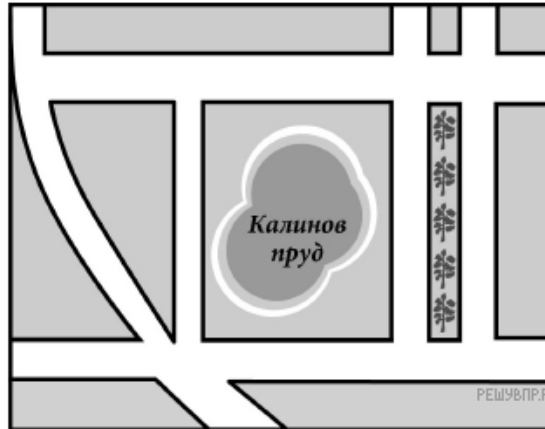
Перечисли все цифры, которые могут стоять на последнем месте в Светином номере телефона. *Ответ запишите без пробелов и знаков препинания.*

13. Краевед написал очерк о своём родном городе Затонске.

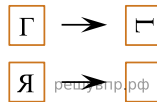
Немного найдётся малых городов, где история и современность сплелись так тесно, как в нашем Затонске. Самая замечательная наша улица — ул. Старый Ров, которая проходит широкой дугой, повторяя очертания древней крепостной стены. Вдоль стены действительно когда-то был оборонительный ров. Рядом с ул. Старый Ров древний Калинов пруд. В давние годы пруд соединялся со рвом и в случае пожара горожане брали из пруда воду. Сейчас на берегу пруда городская зона отдыха.

От ул. Старый Ров к Калинову пруду идут две широкие улицы — Сенная и Нижняя. Пруд заключён между ними и между двумя улицами поменьше — Земской и Осадной. Осадная примыкает к ул. Старый Ров там же, где и ул. Сенная, отчего получается сложный перекрёсток, который горожане называют «Пять углов», как бы намекая на родство Затонска с Санкт-Петербургом. За Земской улицей проходит улица Аптечная. Между Земской и Аптечной двести лет назад городские власти разбили сквер. Летом вековые липы защищают горожан от жары, а зимой их заснеженные кроны соединяются высоко над головой, будто своды фантастической хрустальной пещеры.

Прочти очерк и рассмотри план. Пользуясь описанием, которое дал краевед, надпиши названия всех улиц на плане.



14. Преобразуй букву по образцу:



15. Полоску бумаги разрезали на 9 частей. После этого самую большую из полученных частей снова разрезали на 9 частей. Затем снова самую большую из полученных частей разрезали на 9 частей. Так поступили много раз: на каждом шаге самую большую часть разрезали на 9 частей. Могло ли в итоге получиться 997 частей? Запиши решение и ответ.