

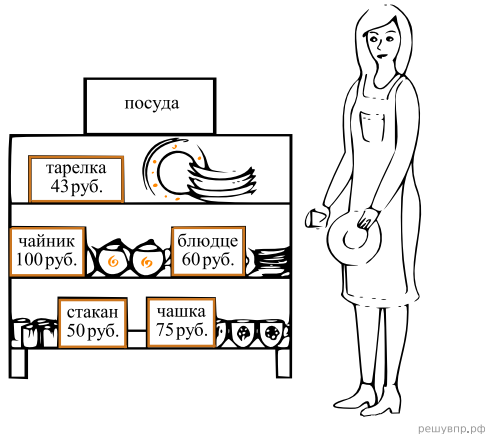
ВПР по математике 4 класс 2019 год. Вариант 18.

При выполнении заданий с кратким ответом впишите в поле для ответа цифру, которая соответствует номеру правильного ответа, или число, слово, последовательность букв (слов) или цифр. Ответ следует записывать без пробелов и каких-либо дополнительных символов. Дробную часть отделяйте от целой десятичной запятой. Единицы измерений писать не нужно.

Если вариант задан учителем, вы можете вписать или загрузить в систему ответы к заданиям с развернутым ответом. Учитель увидит результаты выполнения заданий с кратким ответом и сможет оценить загруженные ответы к заданиям с развернутым ответом. Выставленные учителем баллы отобразятся в вашей статистике.

1. Найдите значение выражения $30 \cdot 31$.
2. Найдите значение выражения $89 - 8 \cdot (12 - 2)$.

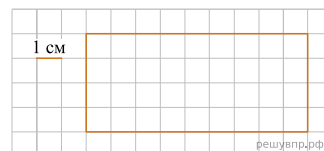
3. Рассмотрите рисунок и ответьте на вопрос: сколько рублей сдачи получит покупатель, расплатившийся за одно блюдо и один стакан купюрой в 500 руб.?



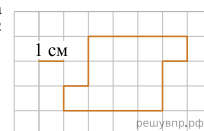
4. Теннисный матч начался в 12 часов 50 минут и закончился в 14 часов 22 минуты. Сколько времени продолжался теннисный матч?

Ответ: час. мин.

5. На клетчатом поле со стороной клетки 1 см изображён прямоугольник. Найдите периметр этого прямоугольника.



6. На клетчатом поле со стороной клетки 1 см изображена фигура. Изобрази на рисунке прямоугольник площадью 21 см^2 так, чтобы вся данная фигура была его частью.



7. Баскетбольная команда детской спортивной школы встречалась с командами нескольких школ. Количество очков, набранных игроками, тренер записывал в таблицу. Используя таблицу, ответьте на вопросы.

Игры	Артём	Тимур	Володя
Первая игра	2 очка	9 очков	9 очков
Вторая игра	6 очков	5 очков	8 очков
Третья игра	8 очков	2 очка	7 очков
Четвёртая игра	4 очка	8 очков	9 очков

Сколько очков набрал Тимур во второй игре?

8. Баскетбольная команда детской спортивной школы встречалась с командами нескольких школ. Количество очков, набранных игроками, тренер записывал в таблицу. Используя таблицу, ответь на вопросы.

Игры	Артём	Тимур	Володя
Первая игра	2 очка	9 очков	9 очков
Вторая игра	6 очков	5 очков	8 очков
Третья игра	8 очков	2 очка	7 очков
Четвёртая игра	4 очка	8 очков	9 очков

Кто из мальчиков набрал больше всего очков за все четыре игры?

9. Найди значение выражения $3300 : 50 \cdot 13 + 242$.

10. В больших пачках по 500 листов бумаги, а в малых — по 250 листов. В понедельник в типографии было 40 больших пачек и 13 малых пачек бумаги, а к концу недели осталось ровно 27 больших пачек и ровно 5 малых пачек бумаги. Сколько листов бумаги израсходовано за неделю? Запиши решение и ответ.

11. У Саши есть конфеты: 6 мятных, 8 лимонных и 4 вишнёвых. Саша хочет разложить все конфеты в несколько пакетиков так, чтобы в каждом пакетике встречались конфеты всех трёх видов и чтобы во всех пакетиках конфет было одинаковое количество.

Какое самое большое количество пакетиков с конфетами сможет собрать Саша?

12. У Саши есть конфеты: 6 мятных, 8 лимонных и 4 вишнёвых. Саша хочет разложить все конфеты в несколько пакетиков так, чтобы в каждом пакетике встречались конфеты всех трёх видов и чтобы во всех пакетиках конфет было одинаковое количество.

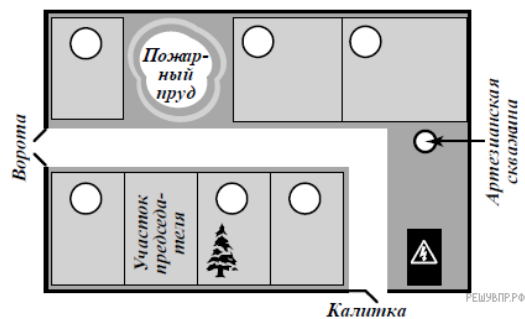
Саша разложил все конфеты в три пакетика, причём в каждом пакетике есть конфеты всех трёх видов и количество конфет в пакетиках одинаковое. Оказалось, что в одном из пакетиков четыре лимонные конфеты. Сколько вишнёвых конфет в этом пакетике?

13. Юра написал сочинение «Наша дача».

Моя бабушка — председатель нашего дачного кооператива «Мечта». Наш участок все сёды называют «дача председателя» и при этом улыбаются. Бабушка со всеми дружит. Если выйти с нашего участка на центральную дорожку, то слева будет дача Ольги Александровны, а справа — дача Юлии Петровны. У Юлии Петровны на участке растёт большая ёлка. Мы когда со станции идём, эту ёлку высматриваем. Как увидим ёлку, значит, пришли. С другой стороны от нашего дома — пожарный пруд. В прошлом году он почти высох. Хорошо, что не случился пожар. Между воротами и прудом, напротив дачи Ольги Александровны, участок Ивана Львовича. Бабушка говорит, что он музыкант, но я никогда не слышал, чтобы он играл. По другую сторону пруда живёт Михаил Сергеевич, а за его участком дача Людмилы Петровны. Чуть не забыл: у нас в посёлке есть артезианская скважина! Прямо около дачи Людмилы Петровны. Я о ней сейчас писал и вспомнил про скважину. Правда, воды в ней нет. Дядя Лёша говорит, что нужно чистить, но никак не соберётся. Дядя Лёша на все руки мастер. Его дача напротив трансформаторной будки по соседству с Юлией Петровной. Если бы не дядя Лёша, у нас, наверно, давно всё сломалось бы.

Рассмотри план дачного кооператива и, пользуясь описанием, которое дал Юра, обозначь цифрами на плане шесть участков.

1. Участок Ольги Александровны.
2. Участок Юлии Петровны.
3. Участок Ивана Львовича.
4. Участок Михаила Сергеевича.
5. Участок Людмилы Петровны.
6. Участок дяди Лёши.



14. На столбе висела табличка (рис. 1). Верхний винт, державший табличку, выпал, и табличка перевернулась. Нарисуй, как будет выглядеть перевернутая табличка с надписью (рис. 2).

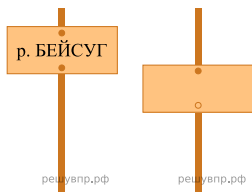


Рис. 1

Рис. 2

15. Полоску бумаги разрезали на три части. После этого самую большую из полученных частей снова разрезали на три части. Затем снова самую большую из полученных частей разрезали на три части. Так поступили много раз: на каждом шаге самую большую часть разрезали на три части. Могло ли в итоге получиться 250 частей? Запиши решение и ответ.