

ВПР по математике 4 класс 2019 год. Вариант 17.

При выполнении заданий с кратким ответом впишите в поле для ответа цифру, которая соответствует номеру правильного ответа, или число, слово, последовательность букв (слов) или цифр. Ответ следует записывать без пробелов и каких-либо дополнительных символов. Дробную часть отделяйте от целой десятичной запятой. Единицы измерений писать не нужно.

Если вариант задан учителем, вы можете вписать или загрузить в систему ответы к заданиям с развернутым ответом. Учитель увидит результаты выполнения заданий с кратким ответом и сможет оценить загруженные ответы к заданиям с развернутым ответом. Выставленные учителем баллы отобразятся в вашей статистике.

1. Найдите значение выражения $44 + 37$.
2. Найди значение выражения $(15 + 9) \cdot 9 - 7$.
3. Костя хочет пообедать в кафе. Меню показано на рисунке. Костя выбрал пиццу, барбекю и кекс и отдал продавцу 500 рублей. Сколько рублей сдачи он должен получить?

Пицца пепперони 210 руб.	Филе-о-фиш 110 руб.	Крем-суп 230 руб.
Барбекю 120 руб.	Чизбургер 70 руб.	Кекс 80 руб.



решувпр.рф

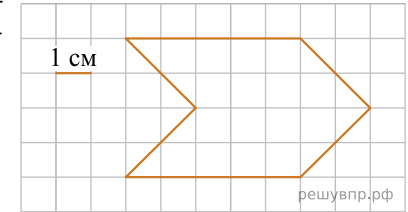
Запиши решение и ответ.

4. Айгуль собиралась пойти с подругами в кино. Сеанс начинается в 16 ч 30 мин. Она вышла из дома в 15 ч 50 мин. На сколько минут Айгуль опоздала к началу сеанса, если дорога от дома до кинотеатра заняла 50 мин?

Ответ: на мин.

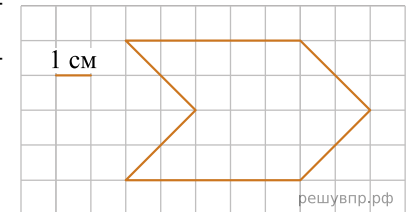
5. На клетчатой бумаге нарисована фигура. Сторона клетки равна 1 см. Найди площадь этой фигуры. Ответ дай в кв. см.

В ответе писать единицы измерения не нужно.



6. На клетчатой бумаге нарисована фигура. Сторона клетки равна 1 см.

Нарисуй по клеточкам прямоугольник, площадь которого равна площади изображённой фигуры.



7. Чемпионат по футболу проходил в четыре круга. Виктор следил за количеством забитых голов своих любимых команд и записывал результаты в таблицу. Используя данные этой таблицы, ответь на вопросы.

Номер игрового круга	«Спартак»	«Динамо»	«Торпедо»
Первый круг	12	11	22
Второй круг	21	15	17
Третий круг	14	23	9
Четвёртый круг	32	24	14

Сколько голов было забито командой «Динамо» в третьем круге?

8. Чемпионат по футболу проходил в четыре круга. Виктор следил за количеством забитых голов своих любимых команд и записывал результаты в таблицу. Используя данные этой таблицы, ответь на вопросы.

Номер игрового круга	«Спартак»	«Динамо»	«Торпедо»
Первый круг	12	11	22
Второй круг	21	15	17
Третий круг	14	23	9
Четвёртый круг	32	24	14

Какая команда забила больше всего голов за два первых круга?

9. Найди значение выражения $7 \cdot (149 + 151 \cdot 2)$.

10. Объём бочки 200 л. В пустую бочку вылили 11 десятилитровых и 6 двенадцатилитровых вёдер воды. Сколько ещё литров воды может поместиться в бочке? Запиши решение и ответ.

11. У Толи есть конфеты: 7 апельсиновых, 9 клубничных, 5 лимонных и 9 вишнёвых. Толя хочет разложить все конфеты в несколько пакетиков так, чтобы ни в одном пакетике не было двух одинаковых конфет и чтобы во всех пакетиках конфет было одинаковое количество.

Какое самое маленькое количество пакетиков сможет собрать Толя?

12. У Толи есть конфеты: 7 апельсиновых, 9 клубничных, 5 лимонных и 9 вишнёвых. Толя хочет разложить все конфеты в несколько пакетиков так, чтобы ни в одном пакетике не было двух одинаковых конфет и чтобы во всех пакетиках конфет было одинаковое количество.

Толя разложил все конфеты в десять пакетиков, причём конфет во всех пакетиках одинаковое количество и ни в одном пакетике нет двух одинаковых конфет. Сколько у него получилось пакетиков, в которых есть и апельсиновая, и клубничная, и вишнёвая конфета?

13. Антон написал сочинение «Наша дача».

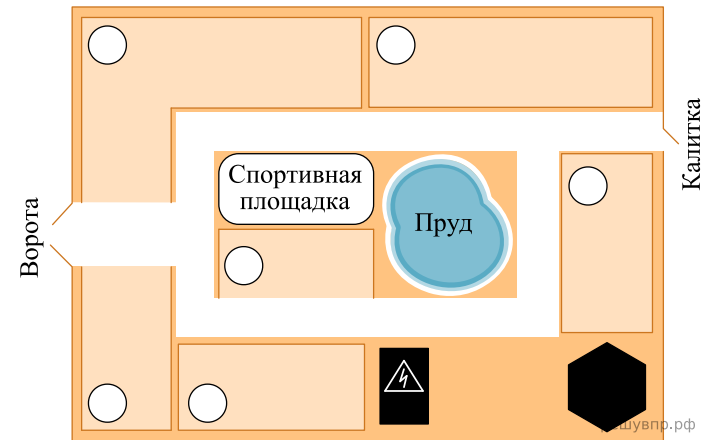
В нашем дачном кооперативе всего шесть участков. Самый дальний от въезда участок принадлежит Сергею Ивановичу. Рядом с ним находится водонапорная башня (она на плане обозначена чёрным шестиугольником), а с другой стороны — калитка, через которую можно выйти в лес, но машина там не проедет. Въехать и выехать можно только в одном месте: между дачами Ивана Михайловича и Юлии Петровны находятся ворота. Участок Ивана Михайловича самый большой и находится ближе к спортплощадке, чем участок Юлии Петровны. Если от её дома идти по дорожке к водонапорной башне, то справа наша дача. Наш участок легко узнать — рядом с ним трансформаторная будка. На плане будка чёрного цвета и нарисован знак с молнией, на настоящей будке тоже такой знак.

Есть ещё участок Лидии Алексеевны — тоже около задней калитки. Но она приезжает редко, поэтому мы её почти не видим.


Лучше всего расположена дача Ольги Павловны — хоть она и маленькая, но зато рядом пруд, а прямо за забором наша спортивная площадка. Правда, Ольга Павловна недовольна. Когда мы играем в футбол, она жалуется, что мы слишком громко кричим.

Рассмотри план дачного кооператива и, пользуясь описанием, которое дал Антон, обозначь цифрами на плане шесть участков.

1. Участок Сергея Ивановича.
2. Участок Ивана Михайловича.
3. Участок Юлии Петровны.
4. Участок, где живёт автор сочинения Антон.
5. Участок Ольги Павловны.
6. Участок Лидии Алексеевны.



14. Марина с книгой в руках подошла к зеркалу и увидела в отражении название книги. Как называется книга?



15. Известно, что один холодильник, две микроволновые печи и три электрических чайника на 64 000 руб. дешевле, чем три холодильника, две микроволновые печи и один электрический чайник. На сколько холодильник дороже электрического чайника? Запиши решение и ответ.