

ВПР по математике 4 класс 2019 год. Вариант 13.

При выполнении заданий с кратким ответом впишите в поле для ответа цифру, которая соответствует номеру правильного ответа, или число, слово, последовательность букв (слов) или цифр. Ответ следует записывать без пробелов и каких-либо дополнительных символов. Дробную часть отделяйте от целой десятичной запятой. Единицы измерений писать не нужно.

Если вариант задан учителем, вы можете вписать или загрузить в систему ответы к заданиям с развернутым ответом. Учитель увидит результаты выполнения заданий с кратким ответом и сможет оценить загруженные ответы к заданиям с развернутым ответом. Выставленные учителем баллы отобразятся в вашей статистике.

1. Найдите значение выражения $46 + 17$.

2. Найди значение выражения $12 + (20 + 15) : 5$.

3. Женя хочет позавтракать в кафе. Меню показано на рисунке. Женя выбрала салат с грибами, лазанью, сок фруктовый и отдала продавцу 350 рублей.

Сколько рублей сдачи она должна получить?

Лазанья 190 руб.	Салат с грибами 100 руб.	Спагетти 140 руб.
Кофе капучино 60 руб.	Сыр моцарелла 210 руб.	Сок фруктовый 40 руб.



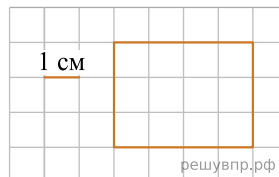
решувпр.рф

Запиши решение и ответ.

4. Самолёт из Омска в Москву вылетел в 17 ч 40 мин. по московскому времени. В какое время самолёт должен оказаться в Москве, если продолжительность полёта составляет 3 ч 30 мин.?

Ответ: в час. мин.

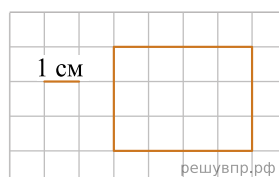
5. На клеточном поле со стороной клетки 1 см изображён прямоугольник. Найди площадь этого прямоугольника.



решувпр.рф

6. На клеточном поле со стороной клетки 1 см изображён прямоугольник.

На клеточном поле рядом с прямоугольником нарисуй квадрат, площадь которого в 3 раза меньше площади данного прямоугольника.



решувпр.рф

7. Пятиклассники занимаются в школьных спортивных секциях. В таблице показано, сколько пятиклассников занимается в каждой секции. Ответь на вопросы.

Класс	Волейбольная	Баскетбольная	Футбольная
5 «А»	3	5	6
5 «Б»	6	2	4
5 «В»	8	4	5
5 «Г»	6	3	7

Сколько учащихся из 5 «Б» занимается в футбольной секции?

8. Пятиклассники занимаются в школьных спортивных секциях. В таблице показано, сколько пятиклассников занимается в каждой секции. Ответь на вопросы.

Класс	Волейбольная	Баскетбольная	Футбольная
5 «А»	3	5	6
5 «Б»	6	2	4
5 «В»	8	4	5
5 «Г»	6	3	7

Сколько всего пятиклассников занимается в баскетбольной секции?

9. Найди значение выражения $180 \cdot 4 + 190 \cdot 3$.

10. Объём бочки 200 л. В пустую бочку вылили 11 десятилитровых и 6 двенадцатилитровых вёдер воды. Сколько ещё литров воды может поместиться в бочке? Запиши решение и ответ.

11. Артур приехал в Екатеринбург в понедельник и планирует пробыть там до субботы. Он хочет сходить в театр, встретиться с одноклассниками и посетить музей, причём каждому из этих дел он хочет посвятить отдельный день. Спектакль, который Артур хочет посмотреть в театре, идёт только по вторникам и четвергам, музей работает только по средам, а одноклассники могут встретиться с Артуром в среду или четверг.

Назовите место, где Артур будет в четверг?

12. Артур приехал в Екатеринбург в понедельник и планирует пробыть там до субботы. Он хочет сходить в театр, встретиться с одноклассниками и посетить музей, причём каждому из этих дел он хочет посвятить отдельный день. Спектакль, который Артур хочет посмотреть в театре, идёт только по вторникам и четвергам, музей работает только по средам, а одноклассники могут встретиться с Артуром в среду или четверг.

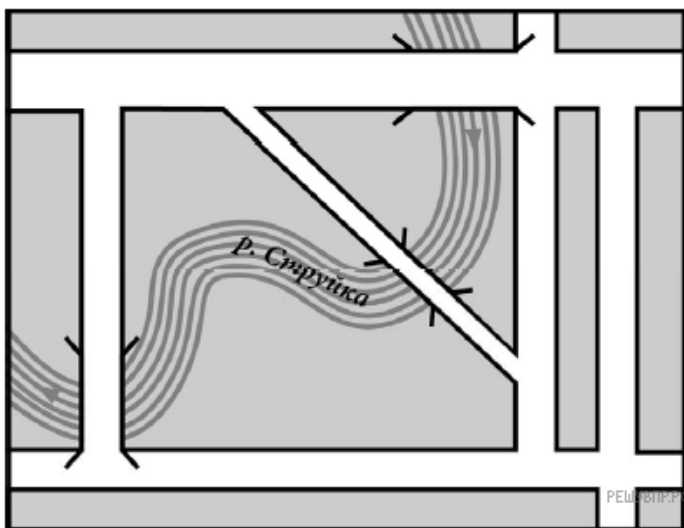
Назовите место, куда пойдёт Артур за день до похода в музей?

13. Маша написала сочинение «Место, где я живу».

Наш дом стоит на улице, которая называется Ближняя. Из своей комнаты я вижу не только речку Струйку, но ещё Сосновый переулочек. Он пересекает наш квартал наискосок, соединяя Школьную улицу и Лесное шоссе. Шоссе проходит через весь наш город насквозь. Наша улица Ближняя тоже выходит на Лесное шоссе, а с другой стороны упирается в Красную улицу. Я не знаю, почему улица называется Красной. Может быть, потому что дома на ней построены из красного кирпича? Моя школа тоже из красного кирпича. Она находится на Красной улице между улицами Школьная и Садовая.

А ещё мне нравится, что у нас целых три моста через Струйку. Один совсем рядом с моим домом. Ещё есть Сосновый мостик, это там, где Сосновый переулочек пересекает Струйку. А третий мост большой — по нему проходит Лесное шоссе. Мы с Катей — это моя соседка — любим играть по дороге из школы: пускаем бумажный кораблик у Соснового мостика и бежим на Ближнюю, чтобы поймать кораблик у моста около дома. Раньше мы пускали кораблик с большого моста, но моя мама запретила: по шоссе ходит очень много машин, поэтому там нельзя играть.

Прочти сочинение и рассмотри план. Пользуясь описанием, которое дала Маша, надпиши названия всех улиц, переулочка и шоссе на плане.



14. На столе лежит штамп (см. рис.). Напиши, какое слово отпечатается на бумаге, если к ней приложить этот штамп.



15. В школьной столовой два стакана компота, три пирожка с мясом и четыре пирожка с вишней стоят 105 руб., а три стакана компота, два пирожка с мясом и один пирожок с вишней — 75 руб. Сколько рублей заплатил мальчик за покупку в школьной столовой одного стакана компота, одного пирожка с мясом и одного пирожка с вишней? Запиши решение и ответ.