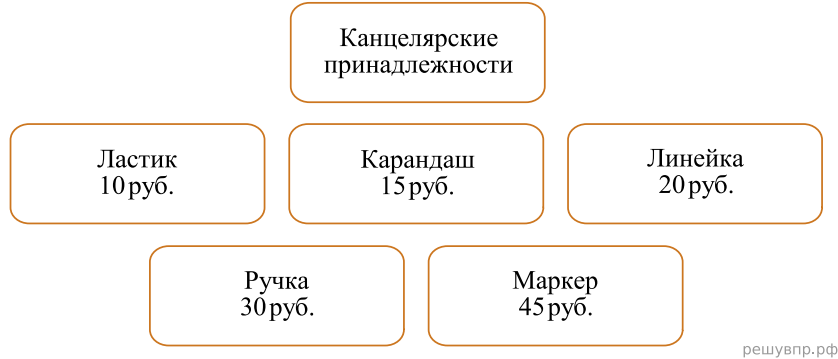


**ВПР по математике 4 класс 2019 год. Вариант 5.**

При выполнении заданий с кратким ответом впишите в поле для ответа цифру, которая соответствует номеру правильного ответа, или число, слово, последовательность букв (слов) или цифр. Ответ следует записывать без пробелов и каких-либо дополнительных символов. Дробную часть отделяйте от целой десятичной запятой. Единицы измерений писать не нужно.

Если вариант задан учителем, вы можете вписать или загрузить в систему ответы к заданиям с развернутым ответом. Учитель увидит результаты выполнения заданий с кратким ответом и сможет оценить загруженные ответы к заданиям с развернутым ответом. Выставленные учителем баллы отобразятся в вашей статистике.

1. Найдите значение выражения  $7 \cdot 12$ .
2. Найди значение выражения  $18 \cdot 2 - 36 : 3$ .
3. Рассмотрим рисунок и ответь на вопрос: сколько рублей нужно будет заплатить, если купить одну ручку и четыре карандаша?



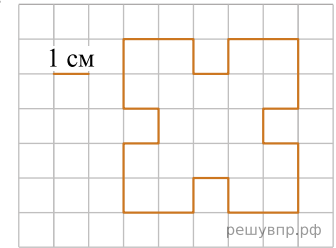
Запиши решение и ответ.

4. Соревнования по фигурному катанию продолжались 2 часа 55 минут и закончились в 15 часов 10 минут. В котором часу соревнования начались?

Ответ: в  час.  мин.

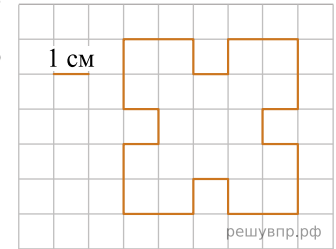
5. На клетчатой бумаге нарисована фигура. Сторона клетки равна 1 см.

Найди площадь этой фигуры. Ответ дай в кв. см.  
В ответе писать единицы измерения не нужно.



6. На клетчатой бумаге нарисована фигура. Сторона клетки равна 1 см.

Нарисуй по клеточкам прямоугольник, площадь которого равна площади изображённой фигуры.



7. В хозяйстве тётки Ани куры, гусыни и утки несли яйца, а тётя Аня вела учёт количеству снесённых яиц. Используя таблицу, ответь на вопросы.

Дни по порядку	Куры	Гусыни	Утки
Первый день	10	4	6
Второй день	4	1	4
Третий день	9	7	7
Четвёртый день	7	4	5

Сколько яиц снесли куры в третий день?

8. В хозяйстве тётки Ани куры, гусыни и утки несли яйца, а тётя Аня вела учёт количеству снесённых яиц. Используя таблицу, ответь на вопросы.

Дни по порядку	Куры	Гусыни	Утки
Первый день	10	4	6
Второй день	4	1	4
Третий день	9	7	7
Четвёртый день	7	4	5

Какие из птиц (куры, гусыни или утки) за все четыре дня снесли меньше всего яиц?

9. Найди значение выражения  $160 \cdot 3 + 130 \cdot 4$ .

10. В книжный магазин привезли книги общим весом 12 кг. При этом 20 книг были весом по 300 г, а остальные — по 200 г. Сколько было книг весом по 200 г? Запиши решение и ответ.

11. Маша, Юра и Аня пошли по грибы. Маша нашла меньше грибов, чем Юра. Вместе Маша и Юра нашли столько же грибов, сколько нашла Аня. Меньше трёх грибов не нашёл никто из них, а все вместе они нашли 16 грибов.

Сколько грибов нашла Аня?

12. Маша, Юра и Аня пошли по грибы. Маша нашла меньше грибов, чем Юра. Вместе Маша и Юра нашли столько же грибов, сколько нашла Аня. Меньше трёх грибов не нашёл никто из них, а все вместе они нашли 16 грибов.

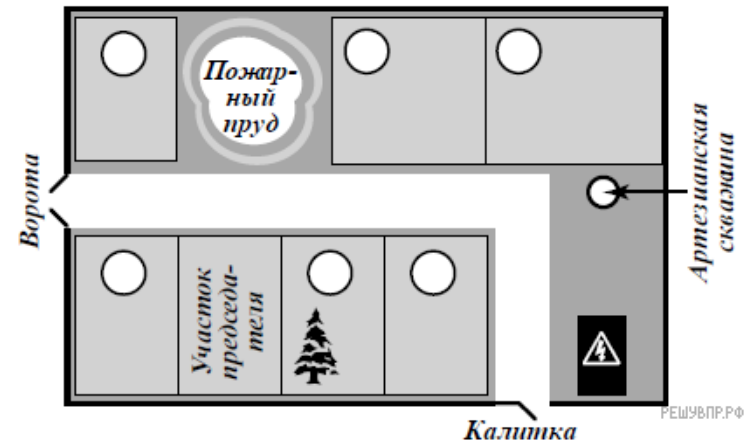
Сколько грибов нашёл Юра?

13. Юра написал сочинение «Наша дача».

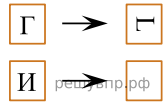
*Моя бабушка — председатель нашего дачного кооператива «Мечта». Наши участок все соседи называют «дача председателя» и при этом улыбаются. Бабушка со всеми дружит. Если выйти с нашего участка на центральную дорожку, то слева будет дача Ольги Александровны, а справа — дача Юлии Петровны. У Юлии Петровны на участке растёт большая ёлка. Мы когда со станции идём, эту ёлку высматриваем. Как увидим ёлку, значит, пришли. С другой стороны от нашего дома — пожарный пруд. В прошлом году он почти высох. Хорошо, что не случился пожар. Между воротами и прудом, напротив дачи Ольги Александровны, участок Ивана Львовича. Бабушка говорит, что он музыкант, но я никогда не слышал, чтобы он играл. По другую сторону пруда живёт Михаил Сергеевич, а за его участком дача Людмилы Петровны. Чуть не забыл: у нас в посёлке есть артезианская скважина! Прямо около дачи Людмилы Петровны. Я о ней сейчас писал и вспомнил про скважину. Правда, воды в ней нет. Дядя Лёша говорит, что нужно чистить, но никак не соберётся. Дядя Лёша на все руки мастер. Его дача напротив трансформаторной будки по соседству с Юлией Петровной. Если бы не дядя Лёша, у нас, наверно, давно всё сломалось бы.*

Рассмотри план дачного кооператива и, пользуясь описанием, которое дал Юра, обозначь цифрами на плане шесть участков.

1. Участок Ольги Александровны.
2. Участок Юлии Петровны.
3. Участок Ивана Львовича.
4. Участок Михаила Сергеевича.
5. Участок Людмилы Петровны.
6. Участок дяди Лёши.



14. Преобразуй букву по образцу:



15. Полоску бумаги разрезали на три части. После этого самую большую из полученных частей снова разрезали на три части. Затем снова самую большую из полученных частей разрезали на три части. Так поступили много раз: на каждом шаге самую большую часть разрезали на три части. Могло ли в итоге получиться 100 частей? Запиши решение и ответ.