

ВПР по математике 4 класс 2019 год. Вариант 2.

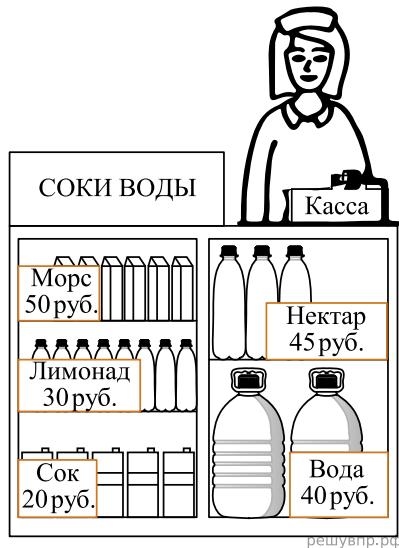
При выполнении заданий с кратким ответом впишите в поле для ответа цифру, которая соответствует номеру правильного ответа, или число, слово, последовательность букв (слов) или цифр. Ответ следует записывать без пробелов и каких-либо дополнительных символов. Дробную часть отделяйте от целой десятичной запятой. Единицы измерений писать не нужно.

Если вариант задан учителем, вы можете вписать или загрузить в систему ответы к заданиям с развернутым ответом. Учитель увидит результаты выполнения заданий с кратким ответом и сможет оценить загруженные ответы к заданиям с развернутым ответом. Выставленные учителем баллы отобразятся в вашей статистике.

1. Найдите значение выражения $4 \cdot 18$.

2. Найди значение выражения $72 : (12 - 3) - 6$.

3. Рассмотрим рисунок и ответь на вопрос: сколько рублей сдачи получит покупатель, расплатившийся за одну бутылку нектара и один пакет морса купюрой в 500 руб.?

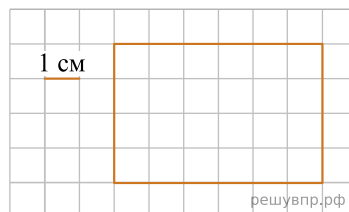


Запиши решение и ответ.

4. Тамара Петровна едет в электричке уже 40 мин. Во сколько она приедет на вокзал, если она села в электричку в 12 ч 10 мин., а ехать ей осталось ещё 30 мин.?

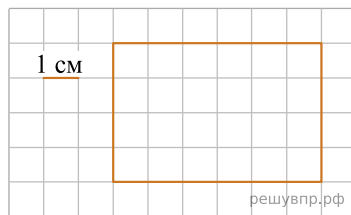
Ответ: в час. мин.

5. На клеточном поле со стороной клетки 1 см изображён прямоугольник. Найди периметр этого прямоугольника. В ответе укажите число.



6. На клеточном поле со стороной клетки 1 см изображён прямоугольник.

Проведи на рисунке прямую линию, которая разделит этот прямоугольник на два прямоугольника, так, чтобы площадь одного из них была равна 8 кв. см.



7. Пятиклассники занимаются в школьных спортивных секциях. В таблице показано, сколько пятиклассников занимается в каждой секции. Ответь на вопросы.

Класс	Волейбольная	Баскетбольная	Футбольная
5 «А»	1	5	5
5 «Б»	5	2	4
5 «В»	4	3	3
5 «Г»	3	4	8

Сколько учащихся из 5 «Б» занимается в баскетбольной секции?

8. Пятиклассники занимаются в школьных спортивных секциях. В таблице показано, сколько пятиклассников занимается в каждой секции. Ответь на вопросы.

Класс	Волейбольная	Баскетбольная	Футбольная
5 «А»	1	5	5
5 «Б»	5	2	4
5 «В»	4	3	3
5 «Г»	3	4	8

Сколько пятиклассников занимается в футбольной секции?

9. Найди значение выражения $(5600 - 4773) \cdot 11 - 39$.

10. Большая упаковка мармелада стоит 170 рублей, маленькая стоит меньше. Сергей купил одну большую упаковку, четыре маленькие, отдал продавцу 500 рублей и получил 30 рублей сдачи. Сколько рублей стоит маленькая упаковка мармелада? Запиши решение и ответ.

11. У Лизы есть любимое платье в полоску. Полоски на нём чередуются сверху вниз: самая верхняя жёлтая, под ней зелёная, затем синяя, затем снова жёлтая, потом снова зелёная и так далее. При этом после каждых шести чередующихся таким образом полосок следует седьмая полоска — белая, и снова полоски повторяются. Всего на платье 41 полоска.

Назовите цвет пятнадцатой сверху полоски на платье Лизы?

12. У Лизы есть любимое платье в полоску. Полоски на нём чередуются сверху вниз: самая верхняя жёлтая, под ней зелёная, затем синяя, затем снова жёлтая, потом снова зелёная и так далее. При этом после каждых шести чередующихся таким образом полосок следует седьмая полоска — белая, и снова полоски повторяются. Всего на платье 41 полоска.

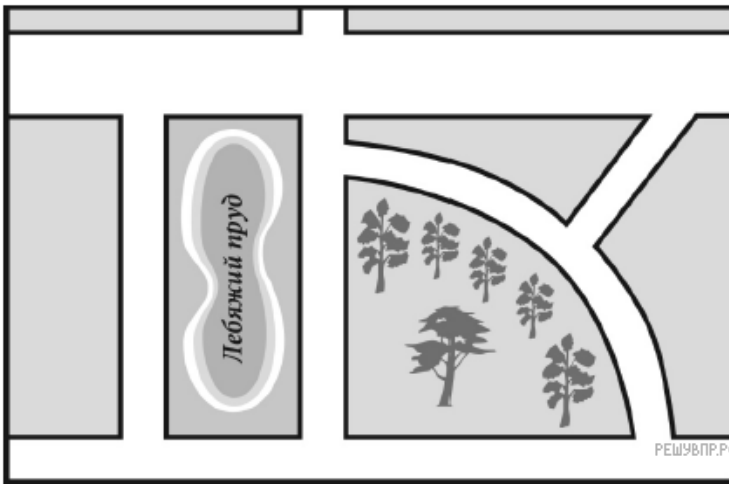
Сколько белых полосок на платье Лизы?

13. Лена написала сочинение «Мой город».


Меня зовут Лена. Я живу в красивом городе на улице с красивым названием Осенняя. Рядом с нашей улицей Лебяжий пруд, где мы с бабушкой любим гулять. Мы обходим пруд: сначала проходим немножко по нашей Осенней улице, затем поворачиваем налево на улицу Рябиновую, которая идёт вдоль пруда. А с другой стороны к Рябиновой улице примыкает небольшой парк; в парке, правда, много рябин. А ещё там есть качели и карусель. Пройдя через парк, мы выходим на Парковую улицу, которую ещё называют Подковой, потому что она на самом деле изогнутая. Но это не настоящее название, а настоящее название всё-таки Парковая.

Если бабушке нужно в аптеку, то с Парковой улицы мы сворачиваем в Огородный проезд. Он узкий, совсем короткий и наискосок выводит нас на широкую улицу. Она главная в нашем городе и так и называется: улица Широкая. На перекрёстке Огородного проезда и Широкой как раз аптека. Но гуляем мы по воскресеньям. В остальные дни я хожу в школу. Школа тоже рядом с Лебяжьим прудом. Между школой и прудом проходит улица Школьная. Она не очень длинная: она только соединяет Широкую и Осеннюю и больше никуда не ведёт.

Прочти сочинение и рассмотри план. Пользуясь описанием, которое дала Лена, надпиши названия всех улиц и проезда на плане.



14. Марина с книгой в руках подошла к зеркалу и увидела в отражении название книги. Как называется книга?



15. Полоску бумаги разрезали на три части. После этого самую большую из полученных частей снова разрезали на три части. Затем снова самую большую из полученных частей разрезали на три части. Так поступили много раз: на каждом шаге самую большую часть разрезали на три части. Могло ли в итоге получиться 150 частей?

Запиши решение и ответ.